

令和4年度

神奈川県公立高等学校入学者選抜学力検査問題

共通選抜 全日制の課程（追検査）

V 社 会

注 意 事 項

- 1 開始の合図があるまで、この問題冊子を開いてはいけません。
- 2 問題は問7まであり、1ページから14ページに印刷されています。
- 3 解答用紙の決められた欄に解答しなさい。
- 4 マークシート方式により解答する場合は、選んだ番号の○の中を塗りつぶしなさい。
- 5 終了の合図があったら、すぐに解答をやめなさい。

受 検 番 号

番

問1 Kさんは、ヨーロッパ州について様々なことを調べ、次の略地図及び表1、表2を作成した。これらについて、あとの各問いに答えなさい。略地図中の緯線は赤道から、経線は本初子午線からそれぞれ10度ごとに引いたものである。

略地図

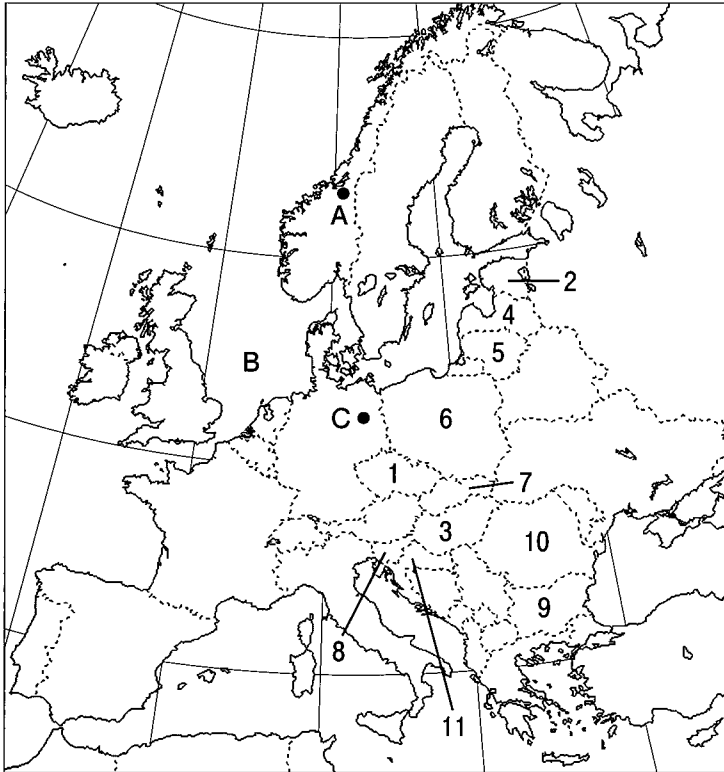


表1 2004年以降にEUに加盟した東ヨーロッパの国の国民一人あたりのGDP (2018年)

(単位：ドル)

略地図中の番号	国名	GDP
1	チェコ	22,992
2	エストニア	23,242
3	ハンガリー	16,264
4	ラトビア	17,852
5	リトアニア	19,083
6	ポーランド	15,444
7	スロバキア	19,431
8	スロベニア	26,005
9	ブルガリア	9,388
10	ルーマニア	12,281
11	クロアチア	14,674
EU全加盟国(注)の平均		36,046

(『世界国勢図会 2020 / 21年版』をもとに作成)
(注) イギリスは含まない。

表2 ヨーロッパ州の主な国と日本の品目別食料自給率 (2017年)

国	品目	小麦	いも類	野菜類	果実類	肉類	牛乳・乳製品
オランダ		15%	202%	328%	38%	228%	203%
ドイツ		131%	121%	46%	27%	112%	118%
フランス		187%	136%	72%	62%	100%	118%
イタリア		62%	57%	146%	108%	74%	81%
スペイン		47%	66%	191%	137%	140%	84%
日本		14%	74%	79%	40%	52%	60%

(農林水産省ウェブサイト掲載資料をもとに作成)

(ア) 略地図及び表1中の1～11の国ぐんについて説明した次の文X、Yの正誤の組み合わせとして最も適するものを、あとの1～4の中から一つ選び、その番号を答えなさい。

X 略地図によると、1～11の国ぐんにはすべて、東経10度より東側に位置している。
Y 表1によると、1～11のうち最も高い「国民一人あたりのGDP」の額は、EU全加盟国の平均の「国民一人あたりのGDP」の額より高い。

1. X：正 Y：正 2. X：正 Y：誤 3. X：誤 Y：正 4. X：誤 Y：誤

(イ) 略地図で示した地域でみられる地形について説明した次の文中の **あ**， **い** にあてはまる語句の組み合わせとして最も適するものを、あとの1～4の中から一つ選び、その番号を答えなさい。

- Aで示した都市の近くの沿岸には、 **あ** がみられます。
○ Bで示した海域に注ぐ **い** は、大量の物資を運ぶ際に利用されています。

1. あ：氷河によって削られた谷に海水が深く入りこんだ地形 い：ライン川
2. あ：氷河によって削られた谷に海水が深く入りこんだ地形 い：ドナウ川
3. あ：一面砂におおわれた海岸 い：ライン川
4. あ：一面砂におおわれた海岸 い：ドナウ川

(ウ) 略地図中のCで示した都市を首都とする国で主に信仰されている宗教について、あとの各問いに答えなさい。

- (i) この宗教の名称として最も適するものを、次の1～3の中から一つ選び、その番号を答えなさい。
1. イスラム教 2. キリスト教 3. 仏教
- (ii) この宗教について説明したものとして最も適するものを、次の1～3の中から一つ選び、その番号を答えなさい。
1. カトリック、プロテスタント、正教会などの宗派に分かれている。
2. 1年のうち約1か月のあいだ、日の出から日没まで断食がおこなわれる。
3. 紀元前6～紀元前5世紀ごろのインドで、シャカによってひらかれた宗教である。

(エ) 表2に関して、次の文X～Zの正誤の組み合わせとして最も適するものを、あとの1～8の中から一つ選び、その番号を答えなさい。

- X 表2において、食料自給率が100%を上回っている品目が4つ以上ある国は、4か国である。
Y 表2中の日本を除く国のうち、「牛乳・乳製品」の食料自給率が100%を上回っている国のすべてで、タイガとよばれる針葉樹林が国土の大部分に広がっている。
Z 表2中の日本を除く国のうち、「野菜類」、「果実類」の食料自給率がどちらも日本を上回っている国は、いずれも地中海に面している。

1. X：正 Y：正 Z：正 2. X：正 Y：正 Z：誤
3. X：正 Y：誤 Z：正 4. X：正 Y：誤 Z：誤
5. X：誤 Y：正 Z：正 6. X：誤 Y：正 Z：誤
7. X：誤 Y：誤 Z：正 8. X：誤 Y：誤 Z：誤

問2 Kさんは、千葉県について調べるために、次の資料1～資料5を集めた。これらについて、あとの各問いに答えなさい。

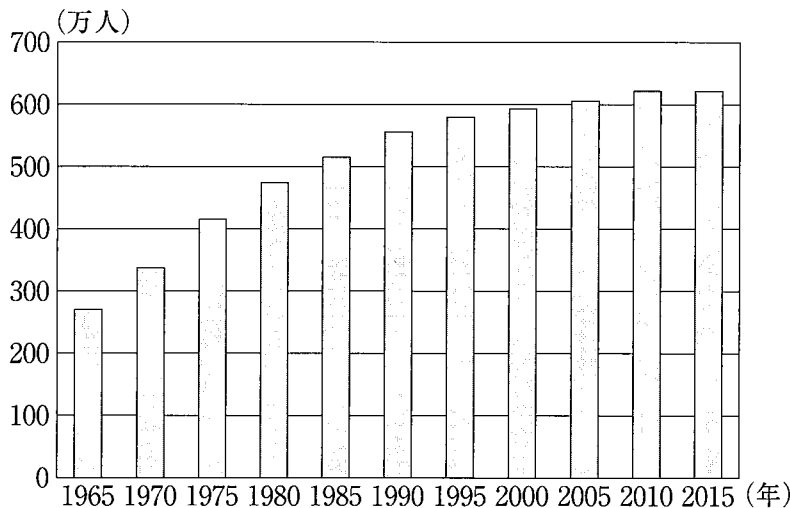
資料1 千葉県の気候についての説明

三方を海に囲まれている千葉県では、冬は暖かく夏は涼しい海洋性の温暖な気候がみられます。特に南房総(注)の沿岸は、沖合を流れる の影響を受け、冬でもほとんど霜が降りません。降水量は、夏季に多く、冬季に少ない傾向がみられます。

(千葉県ウェブサイト掲載資料をもとに作成)

(注) 房総半島の南部。

資料2 千葉県の人口の推移



(資料2, 資料3は、総務省統計局ウェブサイト掲載資料をもとに作成)

資料3 千葉県の夜間人口に対する
昼間人口の割合の推移

年	割合
1990	86.0%
1995	86.3%
2000	87.6%
2005	88.5%
2010	89.5%
2015	89.7%

資料4 千葉ニュータウンについての説明

- 所在地：東京都心から北東へ約25～45km、千葉市から北へ約20kmの場所に位置している。
- 千葉ニュータウンの開発事業がおこなわれた期間：1969～2014年
- 人口：104,949人(注1) ※計画人口(注2)：143,300人

(注1) 2021年9月末時点の人口。

(注2) 千葉ニュータウンの開発事業において計画されていた、千葉ニュータウンの入居者数。

(千葉県ウェブサイト掲載資料をもとに作成)

資料5 千葉港と成田国際空港における貿易額について (2019年)

(貿易額の単位：億円)

		貿易額	各品目の額が貿易額に占める割合 (上位4品目)
千葉港	輸出	7,180	石油製品 28.0%, 有機化合物 17.4%, 鉄鋼 15.7%, 自動車 10.2%
	輸入	32,682	石油 53.4%, 液化ガス 17.4%, 自動車 9.1%, 鉄鋼 3.7%
成田国際空港	輸出	105,256	半導体等製造装置 8.1%, 科学光学機器 6.2%, 金 (非貨幣用) 5.7%, 電気回路用品 3.9%
	輸入	129,560	通信機 13.7%, 医薬品 12.3%, コンピュータ 8.8%, 集積回路 8.4%

(『日本国勢図会 2020/21年版』をもとに作成)

(ア) 資料1中の にあてはまる海流の名称として最も適するものを、次の1～4の中から一つ選び、その番号を答えなさい。

1. 黒潮（日本海流） 2. 対馬海流 3. リマン海流 4. 親潮（千島海流）

(イ) 資料1中の — 線に関して、次の表中のX～Zは、千葉県、群馬県、東京都のいずれかにおける平均標高と海岸線の長さを、それぞれ表したものである。また、グラフa、bは、千葉県館山市と香川県高松市のいずれかにおける気温と降水量を、それぞれ表したものである。表中のX～Zのうち千葉県の平均標高と海岸線の長さを表したものと、グラフa、bのうち千葉県館山市の気温と降水量を表したものの組み合わせとして最も適するものを、あとの1～6の中から一つ選び、その番号を答えなさい。

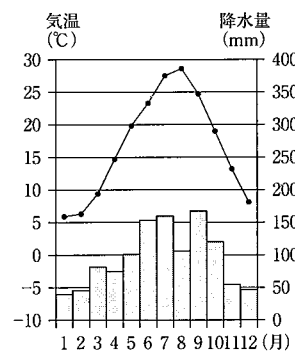
表

	平均標高 (m)	海岸線の長さ (km)
X	45	534.4
Y	242	762.9
Z	764	0.0

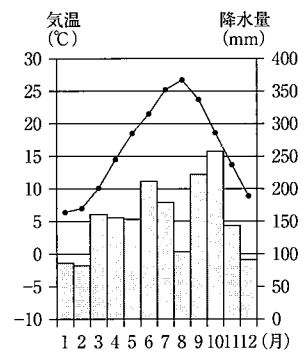
(国土交通省ウェブサイト掲載資料をもとに作成)

グラフ

a



b



(気象庁ウェブサイト掲載資料 (1991～2020年) をもとに作成)

1. Xとa 2. Xとb 3. Yとa 4. Yとb 5. Zとa 6. Zとb

(ウ) 次の文a～dのうち、資料2～資料4の内容をもとに考えられることについて正しく説明したものの組み合わせとして最も適するものを、あとの1～4の中から一つ選び、その番号を答えなさい。

- a 2021年9月末時点における千葉ニュータウンの人口は、「計画人口」の8割を上回っている。
 b 千葉ニュータウンの開発事業がおこなわれていた期間に、千葉県の人口は600万人に達した。
 c 1990年と2015年を比べると、千葉県の昼間人口は増加した。
 d 1990年における千葉県の夜間人口の8割以上が、昼間に県外に通勤または通学していた。

1. a, c 2. a, d 3. b, c 4. b, d

(エ) 資料5に関して、千葉港及び成田国際空港における2019年の貿易額について説明したものとして最も適するものを、次の1～4の中から一つ選び、その番号を答えなさい。

1. 千葉港において、貿易額の収支は黒字である。
 2. 千葉港で扱われる品目のうち「自動車」について、輸出額は輸入額を上回っている。
 3. 成田国際空港において、「半導体等製造装置」の輸出額は5,000億円未満である。
 4. 成田国際空港の輸入について、情報通信技術 (ICT) 関連産業において生産される品目の額が「貿易額」に占める割合の合計は、15%を上回っている。

- (ウ) 表中の **A** の期間におこったできごとについて説明した次の文Ⅰ～Ⅲを、年代の古いものから順に並べたものを、あとの1～6の中から一つ選び、その番号を答えなさい。

- Ⅰ 朝廷の政治に不満をもった平将門が、北関東で周辺の武士団を率いて反乱をおこした。
Ⅱ 木曾の源義仲ら諸国の武士が、平氏に対抗して兵を挙げた。
Ⅲ 朝廷の勢力回復をはかった後鳥羽上皇が、北条氏を討つ命令を全国の武士に出した。

1. Ⅰ→Ⅱ→Ⅲ 2. Ⅰ→Ⅲ→Ⅱ 3. Ⅱ→Ⅰ→Ⅲ
4. Ⅱ→Ⅲ→Ⅰ 5. Ⅲ→Ⅰ→Ⅱ 6. Ⅲ→Ⅱ→Ⅰ

- (エ) 次の資料2は、表中の **B** の期間に出された法令の一部である。これについて説明したものとして最も適するものを、あとの1～4の中から一つ選び、その番号を答えなさい。

資料2

- 一 諸国の百姓が、刀、脇指(注)、弓、槍、鉄砲、その他の武具などを所持することは、厳しく禁止する。農耕に不必要な武具を持ち、年貢その他の税をなかなか納めず、ついには一揆を企て、領主に対してよからぬ行為をする者は、もちろん処罰される。
一 百姓は農具だけを持って耕作に専念すれば、子孫の代まで長く安泰である。…(中略)…それぞれがその趣旨をよく理解し、百姓は農業と養蚕に精を出すようにせよ。

こばやかわけ
(『小早川家文書』)

(注) 短い刀。

1. この政策は、織田信長によって諸国に徹底された。
2. この政策が実施された背景には、島原・天草地方でおこった大規模な一揆があった。
3. この政策に反発した勢力によって、土倉や酒屋などをおそう土一揆がおこされた。
4. この政策が実施されたことで、武士と農民のあいだの身分の区別が明確になった。

- (オ) 次の資料3は、表中の **C** の期間に出された法令の一部である。あとの文1～4のうち、この法令が出された時期に最も近い時期におこったできごとについて説明したものを、1～4の中から一つ選び、その番号を答えなさい。

資料3

イギリスの船は、かつて長崎で乱暴に振る舞い、近頃は各地に小舟で乗り寄せて薪水や食料を求め、昨年は勝手に上陸して廻船の米穀や島の野牛を奪い取るというように、しだいに乱暴な振る舞いが続き、…(中略)…もともとイギリスに限らず南蛮や西洋の国々には、日本が禁止している邪教のキリスト教国である。そこで、今後どこの海辺の村においても外国船が乗り寄せてきたことを発見したならば、有無を言わず直ちに打ち払うようにせよ。

おふれがき
(『御触書天保集成』)

1. イエズス会の宣教師であるザビエルが、キリスト教を布教するために鹿児島を訪れた。
2. 幕府は朱印船貿易を停止するとともに、日本人の出国と帰国を禁止した。
3. 幕府の命を受けた間宮林蔵の調査によって、樺太が島であることが明らかになった。
4. 九州のキリシタン大名が、4人の少年使節をローマ教皇のもとに派遣した。

問4 Kさんは、戦前の日本の軍事及び戦後の日本の防衛について調べ、次のグラフ、表、メモを作成した。これらについて、あとの各問いに答えなさい。

グラフ 国家財政に占める軍事費の割合の推移

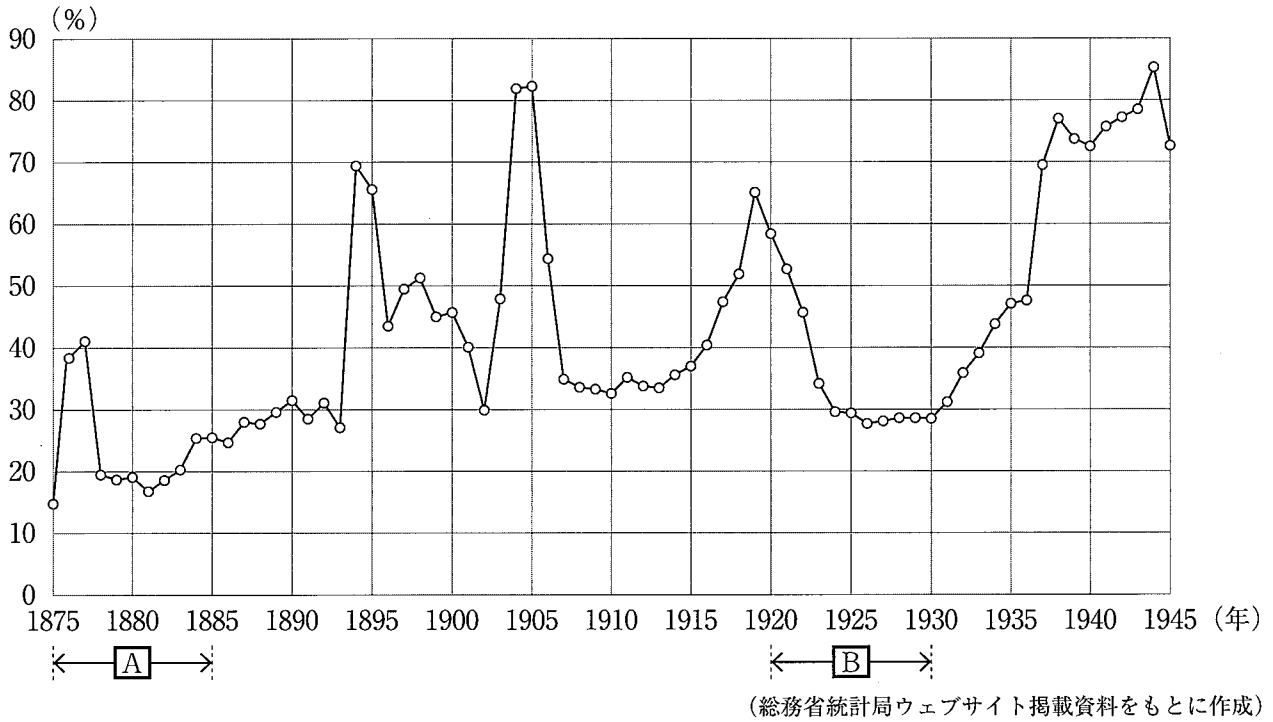


表 防衛関係費と国内総生産の推移
(単位：億円)

年	防衛関係費	国内総生産
1960	1,569	127,480
1965	3,014	281,600
1970	5,695	724,400
1975	13,273	1,585,000
1980	22,302	2,478,000
1985	31,371	3,146,000
1990	41,593	4,172,000

(『数字でみる 日本の100年 改訂第7版』をもとに作成)

メモ グラフと表をもとに考えたこと

- 西南戦争がおこった年に、国家財政に占める軍事費の割合は、はじめて40%を上回りました。
- **あ** との戦争がおこると、国家財政に占める軍事費の割合は、はじめて80%を上回りました。
- 第一次世界大戦がおこっているあいだ、国家財政に占める軍事費の割合は、**い** し続けました。
- **う** の開始から終了まで、国家財政に占める軍事費の割合は、常に70%を上回っていました。
- 高度経済成長期のうち1960年から1970年にかけて、防衛関係費の額は大きく増加しました。

(ア) メモ中の **あ** ~ **う** にあてはまる語句の組み合わせとして最も適するものを、次の1~8の中から一つ選び、その番号を答えなさい。

- | | | | | | |
|----------|------|---------|----------|------|--------|
| 1. あ：ロシア | い：増加 | う：太平洋戦争 | 2. あ：ロシア | い：増加 | う：満州事変 |
| 3. あ：ロシア | い：減少 | う：太平洋戦争 | 4. あ：ロシア | い：減少 | う：満州事変 |
| 5. あ：清 | い：増加 | う：太平洋戦争 | 6. あ：清 | い：増加 | う：満州事変 |
| 7. あ：清 | い：減少 | う：太平洋戦争 | 8. あ：清 | い：減少 | う：満州事変 |

(イ) グラフ中の **A** の期間におこったできごととして最も適するものを、次の1～4の中から一つ選び、その番号を答えなさい。

1. 対立していた長州藩と薩摩藩が、土佐藩出身の坂本龍馬らの仲立ちにより、同盟を結んだ。
2. 第1回衆議院議員総選挙において、自由民権運動の流れをくむ政党が多くの議席を獲得した。
3. 全国の代表者が大阪に集まって、国会の開設を求める国会期成同盟が結成された。
4. 政府は全国の藩を廃止してその代わりに県を置き、県令を中央から派遣して地方を治めさせた。

(ウ) メモ中の — 線の期間におこった日本のできごとについて説明したものとして最も適するものを、次の1～4の中から一つ選び、その番号を答えなさい。

1. 公害問題が深刻化したことを受けて、公害対策基本法が制定された。
2. 民主主義教育の基本を示す教育基本法が制定され、義務教育の期間が9年に延長された。
3. ソビエト連邦との国交が回復し、日本が国際連合に加盟した。
4. ラジオ放送が、東京、大阪、名古屋で始まり、新聞と並ぶ情報源となった。

(エ) 次の表から読み取れることについて説明した文 X、Y と、表で示された期間のできごとについて説明した文 a、b の組み合わせとして最も適するものを、あとの1～4の中から一つ選び、その番号を答えなさい。

表から読み取れること	<p>X 防衛関係費と国内総生産のどちらも、1975年の額は1960年の額の10倍を上回っている。</p> <p>Y 1970年から1990年における表中のいずれの年においても、防衛関係費の額は国内総生産の額の1%を下回っている。</p>
できごと	<p>a 日中平和友好条約が結ばれた。</p> <p>b 日米安全保障条約がはじめて結ばれた。</p>

1. Xとa 2. Xとb 3. Yとa 4. Yとb

(オ) グラフ、表について説明した次の文 X、Y の正誤の組み合わせとして最も適するものを、あとの1～4の中から一つ選び、その番号を答えなさい。

<p>X グラフ中の B の期間のうち、国家財政に占める軍事費の割合が30%を下回っていたあいだにアメリカ合衆国で発生した株価の暴落が、日本に深刻な不況をもたらした。</p> <p>Y 表で示された期間に防衛関係費の額が増加した背景として、アメリカ合衆国でおきた同時多発テロなどのテロリズムが増加したことが挙げられる。</p>
--

1. X：正 Y：正 2. X：正 Y：誤 3. X：誤 Y：正 4. X：誤 Y：誤

問5 Kさんは、公民の授業で学習した内容について発表するために、次の資料を集め、メモを作成した。これらについて、あとの各問いに答えなさい。

資料 消費税率の引上げに関する財務省の説明（2019年10月）

- 日本は速いスピードで①高齡化が進んでおり、高齡化に伴う社会保障の費用は増え続け、税金や借金に頼る分も増えています。現在の社会保障制度を次世代に引き継ぐためには安定的な財源の確保が必要です。
- 消費税率を引き上げることによる増収分は、すべて社会保障に充て、待機児童の解消や幼児教育・保育の無償化など子育て世代のためにも充当し、「全世代型」の社会保障に轉換します。
- 2019年10月の消費税率10%への引上げと同時に、所得の低い方々への配慮の観点から、飲食料品（お酒・外食を除く）等の購入に係る税率については8%とする軽減税率制度を実施しています。軽減税率制度には、②家計への影響を緩和するというメリットがあります。

（財務省ウェブサイト掲載資料をもとに作成）

メモ

人間の欲求には限りがありません。しかし、財やサービスの量には限りがあるため、すべての欲求を満たすことはできません。このように、人間が求める量に対して、財やサービスの量が不足した状態を、「希少性がある」といいます。③希少性の高さは、人間が求める量と実際の財やサービスの量とによって決まります。

(ア) —線①に関して、次の表は、日本における一人暮らしの高齡者数の推移について、男女別にまとめたものである。この表から読み取れることについて説明したあとの文X～Zの正誤の組み合わせとして最も適するものを、1～8の中から一つ選び、その番号を答えなさい。

表

（単位：千人）

年	1980	1985	1990	1995	2000	2005	2010	2015
男性	193	233	310	460	742	1,051	1,386	1,924
女性	688	948	1,313	1,742	2,290	2,814	3,405	4,003

（内閣府ウェブサイト掲載資料をもとに作成）

- X 1980年における一人暮らしの高齡者数は、80万人より少ない。
- Y 2010年における一人暮らしの高齡者数のうち男性が占める割合は、4割を上回っている。
- Z 2005年から2015年にかけて、一人暮らしの高齡者数は200万人以上増加した。

- 1. X：正 Y：正 Z：正
- 2. X：正 Y：正 Z：誤
- 3. X：正 Y：誤 Z：正
- 4. X：正 Y：誤 Z：誤
- 5. X：誤 Y：正 Z：正
- 6. X：誤 Y：正 Z：誤
- 7. X：誤 Y：誤 Z：正
- 8. X：誤 Y：誤 Z：誤

(イ) ——線②に関して、家計、企業、政府による経済活動について説明したものとして最も適するものを、次の1～4の中から一つ選び、その番号を答えなさい。

1. 可処分所得とは、税金や社会保険料などを差し引く前の家計の所得のことである。
2. 政府の役割の一つには、道路や公園などの社会資本を整備することがある。
3. 家計と企業のあいだで結ばれる契約が効力をもつには、書面が交わされなければならない。
4. 企業をおこすために銀行から資金を借り入れることは、直接金融の一種である。

(ウ) ——線③の具体例について説明したものとして最も適するものを、次の1～4の中から一つ選び、その番号を答えなさい。

1. 財やサービスを購入する際の支払いの手段には、現金のほかに電子マネーがある。
2. 公営の水道料金や公立学校の授業料は、地方公共団体が決定する。
3. 市場経済では、需要量が供給量を上回っているとき、一般的に価格は上がる。
4. 消費者は、欠陥商品によって被害を受けた場合、損害賠償を求めることができる。

(エ) 次の資料の内容をもとに考えられることについて説明した文X、Yと、消費税について説明した文a、bの組み合わせとして最も適するものを、あとの1～4の中から一つ選び、その番号を答えなさい。

資料の内容をもとに考えられること	X 日本では、社会保険や社会福祉を運営するために必要な費用が増加している。 Y 消費税率の引上げによって得られた財源は、高齢者を支援するための政策に限定して使用される。
消費税	a 政府に税金を納める人と実際に税金を負担する人が異なる税である。 b 所得が高い人ほど、所得や財産などに対する税金の割合が高くなる税である。

1. Xとa
2. Xとb
3. Yとa
4. Yとb

(オ) Kさんは、資料、メモの内容を踏まえて、次の感想文を作成した。感想文中の「あ」、 「い」にあてはまる語句の組み合わせとして最も適するものを、あとの1～4の中から一つ選び、その番号を答えなさい。

感想文

社会保障費を国債などの借金に頼れば頼るほど、将来の世代に負担が先送りされます。財やサービスに限りがある中で、あらゆる世代に配慮してよりよい合意をつくるのは難しいと思いました。

合意をつくる方法のうち、「あ」は、限られた時間で結論を出す必要がある場合などに採用される方法ですが、合意の前に様々な立場からの意見を聞くことが重要です。

また、よりよい合意をつくるためには、「効率」や「公正」といった見方・考え方が大事です。「公正」の見方・考え方の例としては、「い」という「手続きの公正さ」があります。

1. あ：多数決 い：社会全体で無駄を省けているか
2. あ：多数決 い：決定までの過程に全員が参加できているか
3. あ：全会一致 い：社会全体で無駄を省けているか
4. あ：全会一致 い：決定までの過程に全員が参加できているか

問6 Kさんは、公民の授業で学習した内容について発表するために、次のメモを作成した。これについて、あとの各問いに答えなさい。

メモ

法の支配に基づき憲法によって政治権力を制限して①人権を保障するという考え方を といいます。この考え方を採用する多くの国々には、国の権力を立法権、②行政権、③司法権の三つに分けて、それぞれを別の機関がもつことで権力の集中を防ぎ、国民の人権を守るという考え方が採用されています。日本における立法府の議員は、④選挙によって選出されます。

(ア) メモ中の にあてはまる語句として最も適するものを、次の1～4の中から一つ選び、その番号を答えなさい。

1. 直接民主制 2. 国民主権 3. 立憲主義 4. 資本主義

(イ) ——線①に関して、次の文a～fのうち、人権の保障について正しく説明したものの組み合わせとして最も適するものを、あとの1～8の中から一つ選び、その番号を答えなさい。

- a 世界人権宣言において、身分制度を否定する平等権が人類史上はじめて保障された。
b ワイマル憲法において、人間らしい豊かな生活を保障しようとする権利が認められた。
c 日本における裁判は、当事者のプライバシーの権利を保護するために、原則として非公開でおこなわれている。
d 障害者差別解消法は、行政機関等に対して、障がいのある人への「合理的配慮」を求めている。
e 日本国憲法で保障されている精神活動の自由は、経済活動の自由に比べて公共の福祉による制限を受けやすい。
f 非政府組織の中には、国際的な人権保障を実現するために国境をこえて活動する組織がある。

1. a, c, e 2. a, c, f 3. a, d, e 4. a, d, f
5. b, c, e 6. b, c, f 7. b, d, e 8. b, d, f

(ウ) ——線②に関して、現在の日本における内閣の役割について説明したものとして最も適するものを、次の1～4の中から一つ選び、その番号を答えなさい。

1. 地方議会が議決した条例を拒否して審議のやり直しを求める。
2. 天皇の国事行為に対して、助言と承認をおこなう。
3. 警察官に対し、逮捕や捜索のための令状を出す。
4. 国政調査権をもち、調査のために証人を呼んで質問する。

- (エ) —線③に関して、次の資料は、最高裁判所における実際の判決について説明したものである。この判決の根拠になったと考えられる日本国憲法の条文を、あとの1～4の中から一つ選び、その番号を答えなさい。

資料

平成8年10月20日に施行された衆議院議員の総選挙当時、公職選挙法（平成10年法律第47号による改正前のもの）が、国外に居住して国内の市町村の区域内に住所を有していない日本国民が国政選挙において投票をするのを全く認めていなかったことは、日本国憲法に違反する。

(最高裁判所ウェブサイト掲載資料をもとに作成)

1. 衆議院が解散されたときは、解散の日から40日以内に、衆議院議員の総選挙^(イ)を行ひ、その選挙の日から30日以内に、国会を召集しなければならない。
2. すべて選挙における投票の秘密は、これを侵してはならない。選挙人は、その選択に関し公的にも私的にも責任を問はれない^(ロ)。
3. 国会は、衆議院及び参議院の両議院でこれを構成する。
4. 公務員を選定し、及びこれを罷免することは、国民固有の権利である。

- (オ) —線④に関して、次の表は、第25回参議院議員通常選挙における選挙当日の有権者数と改選数を、一部の選挙区についてまとめたものである。あとの参議院議員通常選挙について説明した文X、Yと、表から読み取れることについて説明した文a、bの組み合わせとして最も適するものを、1～4の中から一つ選び、その番号を答えなさい。

表

(単位：人)

選挙区	選挙当日の有権者数	改選数
宮城県	1,942,518	1
福井県	646,976	1
神奈川県	7,651,249	4
徳島県・高知県	1,247,237	1
すべての選挙区	105,886,063	74

(総務省ウェブサイト掲載資料をもとに作成)

参議院議員通常選挙	<p>X 参議院議員の任期は6年であるため、原則として、表で示された選挙がおこなわれた6年後に、第26回参議院議員通常選挙が実施される。</p> <p>Y 第25回参議院議員通常選挙における改選数には、表で示されたものの他に、全国を一つの単位とした比例代表制によって選出されるものがある。</p>
表から読み取れること	<p>a 一人の有権者がもつ一票の価値を比べると、「すべての選挙区」の一票の価値は、「徳島県・高知県」の一票の価値より大きく、「神奈川県」の一票の価値より小さい。</p> <p>b 一人の有権者がもつ一票の価値を比べると、「福井県」の一票の価値は、「宮城県」の一票の価値の2倍を上回っている。</p>

1. Xとa 2. Xとb 3. Yとa 4. Yとb

問7 Kさんは、日本と国際機関とのかかわりについて発表するために、次のメモを作成した。
これについて、あとの各問いに答えなさい。

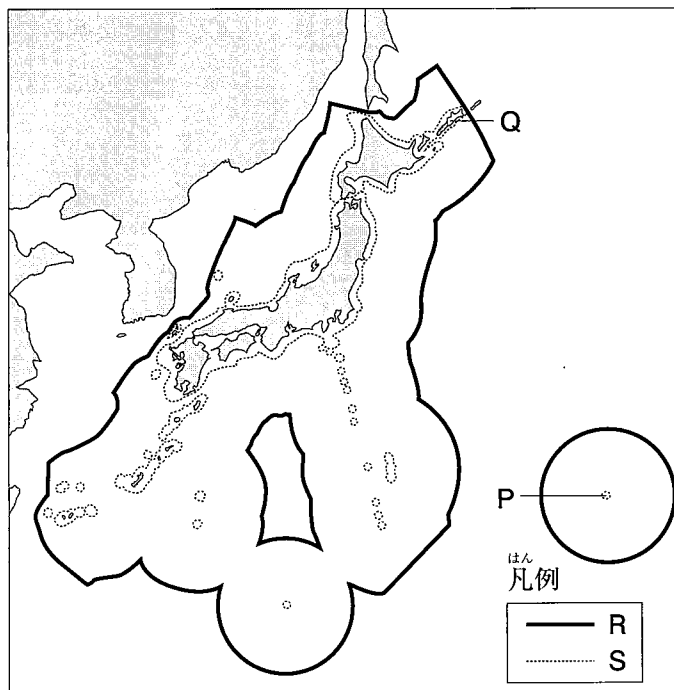
メモ

国家は、主権、住民（国民）、①領域という三つの要素から成り立っています。主権をもつそれぞれの国家が主張を強めるだけでは、様々な紛争に発展するおそれがあります。紛争の発生を防ぐために、近代以降、様々な国際機関が設立されました。

20世紀前半に設立された国際連盟では、②新渡戸稲造が1920年から1926年にかけて事務次長を務め、戦争の再発防止に尽力しました。第二次世界大戦がおこった背景に経済的利害の対立があったと考えられたことから、20世紀半ば以降に様々な国際機関が設立され、国際経済制度の整備が進みました。現在では、世界貿易機関（WTO）によって、③貿易の自由化を推進するための交渉が進められています。また、民間の団体によって、④貧困問題を解決するための取り組みも進められています。

(ア) 線①に関して、次の略地図は、日本とその周辺の地域及び日本の領海と排他的経済水域を示したものである。あとの文a～eのうち、この略地図について正しく説明したものの組み合わせとして最も適するものを、1～6の中から一つ選び、その番号を答えなさい。

略地図



- a Pの島は、日本の領土の端にあたる与那国島である。
- b 20世紀半ば、ソビエト連邦は、日ソ中立条約を破りQの島に侵攻した。
- c Sの線からRの線までの範囲にある海では、すべての国の船が自由に漁業をおこなうことができる。
- d 日本の排他的経済水域は、沿岸からSの線までの範囲である。
- e 沿岸からSの線までの範囲にある海は、日本の主権が及ぶ範囲である。

1. a, c 2. a, d 3. a, e 4. b, c 5. b, d 6. b, e

(イ) —線②の期間におこったできごとについて説明したものとして最も適するものを、次の1～4の中から一つ選び、その番号を答えなさい。

1. アメリカ合衆国のワシントンで条約が結ばれ、日本は海軍の主力艦の保有を制限された。
2. 日本と連合国とのあいだで条約が結ばれ、日本が独立国としての主権を回復した。
3. 日本と大韓民国とのあいだで条約が結ばれ、両国の国交が樹立された。
4. 山口県の下関で条約が結ばれ、台湾が日本の領土になった。

(ウ) —線③を推進するための具体的な取り組みについて説明した次の文X～Zの正誤の組み合わせとして最も適するものを、あとの1～8の中から一つ選び、その番号を答えなさい。

X 国内産業を保護し企業の倒産を防ぐために、輸入量を制限する。

Y パリ協定に基づき、途上国を含む国ぐにが目標を設定する。

Z 環太平洋経済連携協定を結んだ国ぐにが、関税の引き下げや撤廃をおこなう。

- | | |
|----------------|----------------|
| 1. X：正 Y：正 Z：正 | 2. X：正 Y：正 Z：誤 |
| 3. X：正 Y：誤 Z：正 | 4. X：正 Y：誤 Z：誤 |
| 5. X：誤 Y：正 Z：正 | 6. X：誤 Y：正 Z：誤 |
| 7. X：誤 Y：誤 Z：正 | 8. X：誤 Y：誤 Z：誤 |

(エ) —線④に関して、次の表は、フェアトレードとよばれる、発展途上国の生産者や労働者の生活改善と自立をめざす取り組みにおける国際的な基準の一部を示したものである。表で示された基準に合致するものとして最も適するものを、あとの1～4の中から一つ選び、その番号を答えなさい。

表

(著作権上の都合により省略)

(注) 商品の輸入、製造、卸売などにかかわる業者や組織。

(特定非営利活動法人フェアトレード・ラベル・ジャパンウェブサイト掲載資料をもとに作成)

1. 生産者が、将来を見すえて生産のにない手を育成する観点から、対価を支払って児童に労働させる。
2. トレーダーが、生産者に対して、設備投資のために借りた資金を返済させるため、別の金融機関から多額の資金を借りるよう促す。
3. 生産者が、自らが住む地域全体を活性化させるため、取引で得たプレミアム（奨励金）を教育や福祉のために費やす。
4. トレーダーが、市場の独占を防ぐ観点から、あらかじめ設定した保証価格を下回る価格で生産者と取引する。

(問題は、これで終わりです。)

