

令和3年度

神奈川県公立高等学校入学者選抜学力検査問題

共通選抜 全日制の課程（追検査）

V 社 会

注 意 事 項

- 1 開始の合図があるまで、この問題冊子を開いてはいけません。
- 2 問題は問7まであり、1ページから14ページに印刷されています。
- 3 答えは、解答用紙の決められた欄に、記入またはマークしなさい。
- 4 数字や文字などを記述して解答する場合は、解答欄からはみ出さないように、はっきり書き入れなさい。
- 5 マークシート方式により解答する場合は、その番号の○の中を塗りつぶしなさい。
- 6 解答用紙にマス目（例：

--	--	--

）がある場合は、句読点もそれぞれ1字と数え、必ず1マスに1字ずつ書きなさい。なお、行の最後のマス目には、文字と句読点を一緒に置かず、句読点は次の行の最初のマス目に書き入れなさい。
- 7 終了の合図があったら、すぐに解答をやめなさい。

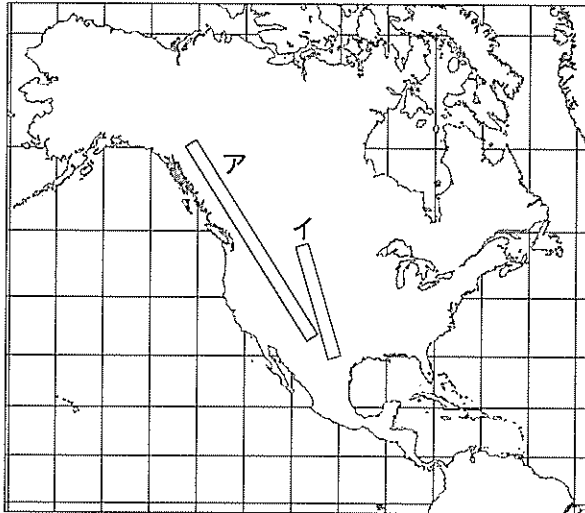
受 検 番 号

番

問1 Kさんは、北アメリカ州及びアメリカ合衆国について次のレポートを作成した。これについて、あとの各問いに答えなさい。なお、レポート中の略地図の緯線は赤道から10度ごとに、経線は本初子午線から等間隔に引いたものである。


レポート

略地図



緯線A
緯線B
緯線C
緯線D

図1



1 北アメリカ州の自然環境

北アメリカ州は、北極海にのぞむ緯度の高い地域から赤道付近の緯度の低い地域まで広い範囲にわたっており、日本の位置と比較すると、日本の領域の北端と南端はともに **あ** のあいだに含まれます。また、略地図中のアで示した山脈は、環太平洋造山帯を構成する **い** 山脈で高山がたっています。①略地図中のイで示した平原などの内陸部には、豊富な地下水があります。

2 アメリカ合衆国の民族構成

ネイティブアメリカンとよばれる先住民が住んでいましたが、17世紀以降にヨーロッパから多くの移民がやってきました。近年では、②メキシコや西インド諸島などからやってきた、スペイン語を話す移民とその子孫が増えています。

3 アメリカ合衆国の国旗

③国旗の図柄は、その国の歴史と関係しています。図1はアメリカ合衆国の国旗を示しており、^{しま}縞の数は独立当初の州の数を、星の数は現在の州の数を表しています。

4 アメリカ合衆国と他国との結びつき

アメリカ合衆国は、カナダやメキシコとのあいだで④貿易の自由化を進め、経済的な結びつきを強めました。また、東アジアの国々にとの貿易額が増えています。

(ア) レポート中の **あ** , **い** にあてはまるものの組み合わせとして最も適するものを、次の1～4の中から一つ選び、その番号を答えなさい。

- | | | | |
|--------------|--------|--------------|--------|
| 1. あ：緯線Aと緯線C | い：ロッキー | 2. あ：緯線Aと緯線C | い：アンデス |
| 3. あ：緯線Bと緯線D | い：ロッキー | 4. あ：緯線Bと緯線D | い：アンデス |

(イ) ——線①に関して、略地図中のイで示した平原でおこなわれている代表的な農業の様子について説明したものとして最も適するものを、次の1～4の中から一つ選び、その番号を答えなさい。

1. 森林や草原を焼きはらい、その灰を肥料として作物が栽培されている。
2. 回転式のスプリンクラーなどで散水するかんがい農業がみられ、小麦が栽培されている。
3. 大農園で、天然ゴムやコーヒーなどの輸出用の作物が栽培されている。
4. 季節風の影響で降水量が多く温暖な気候を利用した、稲作や茶の栽培がさかんである。

(ウ) ——線②に関して、このような人びとを表す語句をカタカナ6字で書きなさい。

(エ) ——線③に関して、右の図2、図3について説明した次の文中の

□う□，□え□にあてはまるものの組み合わせとして最も適するものを、あとの1～4の中から一つ選び、その番号を答えなさい。




図2 オーストラリアの国旗

二つの図に共通する図柄が見られる歴史的背景は、両国がかつて□う□の植民地だったことです。現在では、オーストラリアの先住民である□え□やニュージーランドの先住民であるマオリの文化や社会的地位を守る取り組みが進められています。




図3 ニュージーランドの国旗

1. う：フランス え：アボリジニ（アボリジニー）
2. う：フランス え：イヌイット
3. う：イギリス え：アボリジニ（アボリジニー）
4. う：イギリス え：イヌイット

(オ) ——線④に関して、次の表は、2018年のアメリカ合衆国の貿易額とその割合を上位5か国について示したものである。この表から読み取れることについて説明したあとの文X、Yの正誤の組み合わせとして最も適するものを、1～4の中から一つ選び、その番号を答えなさい。

表 (額の単位：百万ドル)

	輸出			輸入	
	額	割合		額	割合
カナダ	298,901	18.0%	中華人民共和国 (注1)	539,503	21.2%
メキシコ	265,010	15.9%	メキシコ	346,528	13.6%
中華人民共和国 (注1)	120,341	7.2%	カナダ	318,481	12.5%
日本	74,967	4.5%	日本	142,596	5.6%
イギリス	66,228	4.0%	ドイツ	125,904	5.0%
総額 (注2)	1,664,238	100.0%	総額 (注2)	2,542,733	100.0%

(注1) 台湾，香港，マカオは含まない。 (注2) その他の国及び地域との貿易額を含む。

(『世界国勢図会 2020/21年版』をもとに作成)

X アメリカ合衆国の貿易は、総額では赤字であるが中国に対しては黒字である。
 Y アメリカ合衆国に隣接する国ぐにへの輸出額を合わせた額は、輸出の総額の3割に満たない。

1. X：正 Y：正 2. X：正 Y：誤 3. X：誤 Y：正 4. X：誤 Y：誤

問2 Kさんは、東北地方について次のレポートを作成した。これについて、あとの各問いに答えなさい。

レポート

1 東北地方の気候

東北地方は、中央の奥羽山脈を境にして、日本海側と太平洋側で気候が大きく異なります。東北地方では、①冷涼な気候をもたらす風が北東から吹くことで、冷害が発生することがあります。

2 東北地方の世界遺産

右の表は、世界遺産として登録されている東北地方の自然や文化財についてまとめたものです。[あ]は、奥州藤原氏が、11世紀後半から12世紀末にかけて拠点とした場所として知られています。

表

登録名称	所在地
しらかみ 白神山地	青森県・秋田県
[あ] - 弘 ^{がっこうど} 国土（浄土）を表す建築・庭園及び考古学的遺跡群 -	岩手県

3 東北地方の産業

②私は、次の二つの問いを立てました。

- (1) 減反政策が実施されたことは、東北地方の農業にどのような影響を与えたのだろうか。----- [A]
 (2) 東北新幹線が開業したことは、東北地方の観光業にどのような影響を与えたのだろうか。---- [B]

4 東北地方の伝統行事

東北地方の各県に受けつがれている伝統行事には、地域の自然や生活、文化が反映されています。次の資料1、資料2は、東北地方の祭りについて示したものです。

資料1 東北地方で開催された主な夏祭り（令和元年）

場 所	夏祭りの名称	開催日程
青森市	青森ねぶた祭	8月2日～8月7日
盛岡市	盛岡さんさ踊り	8月1日～8月4日
③仙台市	仙台七夕まつり	8月6日～8月8日
秋田市	秋田 ^{かんとう} 竿燈まつり	8月3日～8月6日
山形市	山形 ^{はながさ} 花笠まつり	8月5日～8月7日
福島市	福島わらじまつり	8月2日～8月4日

資料2 秋田竿燈まつりについて

秋田竿燈まつりは、国重要無形民俗文化財に指定されています。厄^{やく}よけやみそぎをして五穀^{こく}豊^{ほう}穰^{じょう}を祈る行事として、約270年間、庶民のあいに受けつがれてきました。

(資料1、資料2ともに、各自治体のウェブサイト掲載資料をもとに作成)

私は、これらの資料から次のことがわかりました。

- 資料1からわかったこと：東北地方にある [い] の県の県庁所在地で夏祭りが開催された。
 ○資料2からわかったこと：秋田竿燈まつりには [う] への願いがこめられている。

(ア) レポート中の [あ] にあてはまる地名を漢字2字で書きなさい。

(イ) レポート中の **い** , **う** にあてはまるものの組み合わせとして最も適するものを、次の1～4の中から一つ選び、その番号を答えなさい。

- | | | | |
|----------|------|----------|------|
| 1. い：すべて | う：豊漁 | 2. い：すべて | う：豊作 |
| 3. い：一部 | う：豊漁 | 4. い：一部 | う：豊作 |

(ウ) 線①に関して、冷害が発生する季節と地域として最も適するものを、次の1～4の中から一つ選び、その番号を答えなさい。

- | | | | |
|-----------|-----------|-----------|-----------|
| 1. 冬の日本海側 | 2. 冬の太平洋側 | 3. 夏の日本海側 | 4. 夏の太平洋側 |
|-----------|-----------|-----------|-----------|

(エ) 線②に関して、次の文X, Yは、**A** , **B** の問いについて考えるための調査の方法を説明したものである。X, Yの調査の方法が適切であるかないかの組み合わせとして最も適するものを、あとの1～4の中から一つ選び、その番号を答えなさい。

X **A** の問いについて考えるために、減反政策の実施前から実施後にかけての、東北地方における農作物の生産量の推移について調査する。

Y **B** の問いについて考えるために、東北新幹線の開業前から開業後にかけての、東北地方を訪れた人数の推移について調査する。

- | | | | |
|------------|---------|------------|---------|
| 1. X：適切である | Y：適切である | 2. X：適切である | Y：適切でない |
| 3. X：適切でない | Y：適切である | 4. X：適切でない | Y：適切でない |

(オ) 線③に関して、仙台市の中心部を示した次の地形図から読み取れることについて説明したものとして最も適するものを、あとの1～4の中から一つ選び、その番号を答えなさい。

地形図



(「2万5千分の1の電子地形図(令和2年調製)国土地理院作成」一部改変)

1. 「青葉通」沿いに「市役所」がある。
2. ●の地図記号で示された地点の標高は、50m未満である。
3. 「仙台駅」の東側には、西側と比べて多くの寺院がある。
4. **X**—**Y**の地図上の長さが5cmであるとすると、**X**—**Y**の実際の距離は2.5kmである。

問3 Kさんは、貨幣の歴史について調べたことを発表するために、次のメモを作成した。これについて、あとの各問いに答えなさい。

メモ

中国では、銅を主な素材として、中央に穴を空けた貨幣が古くからつくられていました。古代の日本でも、このような中国の貨幣にならい、①銅の貨幣がつくられました。中世の日本では、②中国から持ちこまれた貨幣が流通し、③産業や経済が発達しました。その後、江戸時代には、金貨、銀貨、銅貨がつくられました。これらの貨幣をつくる権限を握った④幕府は、財政に関する様々な政策をおこない、経済の安定を目指しました。

一方、アジアと西洋の貿易においても、金や銀は貨幣としての役割をもっていました。⑤15世紀後半、西洋の国ぐにがアジアの特産品である香辛料などを求めてアジアに進出したことが、そのきっかけとなりました。

(ア) —線①に関して、右の資料1は、古代の日本でつくられた貨幣である。資料1

この貨幣がはじめてつくられた時期に最も近い時期のできごとについて説明したものを、次の1～4の中から一つ選び、その番号を答えなさい。

1. 奈良盆地の北部に、唐の都にならって平城京がつけられた。
2. 冠位十二階の制度が設けられ、有能な人物が登用された。
3. 中大兄皇子が、中臣鎌足らとともに政治改革に着手した。
4. 坂上田村麻呂が、東北地方に派遣され蝦夷と戦った。

(著作権上の都合により省略)

(日本銀行貨幣博物館所蔵)

(イ) —線②に関して、次の説明文1について、あとの各問いに答えなさい。

説明文1

南北朝の統一を実現した将軍である あ が明との貿易を始めたことで、日本に大量の銅銭が輸入されました。あ は、明との貿易によって得られた利益を財源として、京都の北山に金閣などの隠居所をつくらせました。

(i) 説明文1中の あ にあてはまる人名を漢字4字で書きなさい。

(ii) 説明文1中の ＝線の時期における文化の特徴について説明したものとして最も適するものを、次のA、Bの中から一つ選び、その記号を書きなさい。

A 文化の中心が上方から江戸に移り、庶民をにない手として発展した。

B 公家の優雅な文化と武家の質実剛健な文化が融合して成立した。

- (ウ) —線③に関して、次の資料2は、中世の日本における農業の様子を示したものである。資料2から読み取れることについて説明した文X、Yと、中世の村の様子について説明した文a、bの組み合わせとして最も適するものを、あとの1～4の中から一つ選び、その番号を答えなさい。

資料2

(著作権上の都合により省略)	読み取れること	X 太鼓の演奏や踊りにあわせて、田植えがおこなわれている。 Y 収穫した米を脱穀するために、千歯こきが用いられている。
	村の様子	a 本百姓から選ばれた村役人が、村を自治的に運営した。 b 自治組織である惣のもとで、村のおきてが定められるようになった。

(東京国立博物館所蔵)

1. Xとa 2. Xとb 3. Yとa 4. Yとb

- (エ) —線④に関して、次の資料3は、幕府の財政について示したものである。これについてのあとの説明文2中の 、 にあてはまるものの組み合わせとして最も適するものを、1～4の中から一つ選び、その番号を答えなさい。

資料3

幕府財政は、収入より支出の方が多くなり、蔵に蓄えた金銀を、毎年一、二万両も取り崩し補って財政を運営している。この先、役人たちは苦勞することになるだろう。

(『政談』)

説明文2

資料3で —線のように述べられているのは、当時の幕府の財政が、 という状況だからです。この状況は、幕府にとって長期にわたる財政的な課題となりました。18世紀後半に幕府の老中になった田沼意次は、この状況を解決するために、株仲間を としました。

1. い：収入額に対して貯蓄額が上回っている う：解散させ、物価を引き下げよう
2. い：収入額に対して貯蓄額が上回っている う：公認し、商人から多くの税を徴収しよう
3. い：支出額に対して収入額が不足している う：解散させ、物価を引き下げよう
4. い：支出額に対して収入額が不足している う：公認し、商人から多くの税を徴収しよう

- (オ) —線⑤に関して、このできごとがおこった時期に最も近い時期のヨーロッパの様子を説明したものととして最も適するものを、次の1～4の中から一つ選び、その番号を答えなさい。

1. エルサレムを奪還するため、十字軍がはじめて組織された。
2. 機械を用いて綿織物を大量に生産することが可能になった。
3. 古代ギリシア、ローマの文化を復興させる運動が広まった。
4. モンゴル帝国の軍が、ヨーロッパの東側に侵攻した。

問4 次の表1は、日本とオランダのあいだのできごとと中学校までに学習した世界のできごとについて、年代の古いものから順に並べたものである。これについて、あとの各問いに答えなさい。

表1

日本とオランダのあいだのできごと	中学校までに学習した世界のできごと
	アヘン戦争がおこった。-----↑ [X]
日本とオランダのあいだの国交がひらかれた。-----	日米修好通商条約が結ばれた。-----↓ [Y]
岩倉使節団がオランダを訪問した。-----↑ [A]	岩倉使節団が日本を出発した。-----↓
	第一次世界大戦が始まった。-----
	[B]
東南アジアのオランダ領に日本が侵攻した。-----	太平洋戦争が始まった。-----
	[C]
日本とオランダのあいだの国交が復活した。-----	サンフランシスコ平和条約が結ばれた。-----
	[D]
	東京オリンピックが開催された。-----↓

(外務省ウェブサイト掲載資料をもとに作成)

(ア) 次の資料は、オランダから日本に届けられた国書の内容を訳したものの一部である。この国書が届けられた時期 X, Y と、その時期におこった日本のできごとについて説明した文 a, b の組み合わせとして最も適するものを、あとの1～4の中から一つ選び、その番号を答えなさい。

資料

近年、イギリス国王が中国皇帝に対して軍隊を派遣して、激しい戦争をおこなった理由については、わが国の船が、毎年長崎に着いてお渡しする報告書をご覧になって、すでに知っていることと思います。…(中略)…蒸気船が創りだされて以降、各国を遠く隔てた距離も近くなったようなものです。…(中略)…将軍に敬意をはらいつつ忠告します。現在の貴国の平和な国土を、戦乱によって荒廃させたくないと望むのであれば、外国人との交流を厳しく禁止した法をゆるめなければなりません。

(『通航一覧統輯』)

時 期	X 表1中の [X]	Y 表1中の [Y]
日本のできごと	a 幕府は、異国船打払令をやめ、外国船に薪や水を与えて退去させるようにした。 b 生麦事件の報復として、イギリス艦隊が薩摩藩の鹿児島を攻撃した。	

1. Xとa 2. Xとb 3. Yとa 4. Yとb

- (イ) 表1中の **A** の時期のできごとについて説明した次の文Ⅰ～Ⅲを年代の古いものから順に並べたものを、あとの1～4の中から一つ選び、その番号を答えなさい。

- | | |
|---|----------------------------------------|
| Ⅰ | 下関条約が結ばれ、日本は清に朝鮮の独立を認めさせた。 |
| Ⅱ | 江華島に接近し沿岸の測量を無断でおこなっていた日本の軍艦を、朝鮮が砲撃した。 |
| Ⅲ | 日本は、大韓帝国（韓国）を併合し、朝鮮総督府をおいて統治した。 |

1. Ⅰ→Ⅱ→Ⅲ 2. Ⅰ→Ⅲ→Ⅱ 3. Ⅱ→Ⅰ→Ⅲ 4. Ⅱ→Ⅲ→Ⅰ

- (ウ) 表1中の **B** の時期に関して、Kさんは、この時期の日本で普通選挙法が制定されたことに着目して、次の表2とその説明文を作成した。説明文中の **あ** ～ **う** にあてはまるものの組み合わせとして最も適するものを、あとの1～6の中から一つ選び、その番号を答えなさい。

表2

	実施回	第1回	第16回	第22回
選挙権を有する者	性別	男性のみ	男性のみ	男性と女性
	年齢	25歳以上	25歳以上	20歳以上
	納税額	直接国税15円以上	制限なし	制限なし

説明文

表2は、衆議院議員総選挙の選挙権について示したものです。表2によると、普通選挙法が制定された時期は **あ** であると判断することができます。そのように判断することができる理由は、「**い** が、**う** の総選挙で選挙権を有している」ことが、表2から読み取れるからです。

1. あ：第1回と第16回のあいだ い：直接国税を納めていない者 う：第16回
 2. あ：第1回と第16回のあいだ い：女性 う：第16回
 3. あ：第1回と第16回のあいだ い：20歳以上の者 う：第16回
 4. あ：第16回と第22回のあいだ い：直接国税を納めていない者 う：第22回
 5. あ：第16回と第22回のあいだ い：女性 う：第22回
 6. あ：第16回と第22回のあいだ い：20歳以上の者 う：第22回

- (エ) 表1中の **C** の時期に規模が拡大した第二次世界大戦において、連合国の陣営に属していた国としてあてはまらないものを、次の1～4の中から一つ選び、その番号を答えなさい。

1. 中華民国 2. アメリカ合衆国 3. ソビエト連邦 4. ドイツ

- (オ) 表1中の **D** の時期の日本の様子について説明したものとして最も適するものを、次の1～4の中から一つ選び、その番号を答えなさい。

1. 府や県に議会がつくられると、地主や商工業者のあいだに自由民権運動が広がった。
 2. 第五福竜丸が被ばくした事件をきっかけに、原水爆禁止運動が全国に広がった。
 3. 労働力が不足したため、中学生や未婚の女性が軍需工場などで働かされるようになった。
 4. 政党政治の実現などをめざす、大正デモクラシーとよばれる民主主義の風潮が高まった。

問5 Kさんは、公民の授業で学習した内容について発表するために、次のメモを作成した。これについて、あとの各問いに答えなさい。

メモ

私は、三つの経済主体について学習しました。企業は財（モノ）やサービスを提供します。財（モノ）やサービスは①価格をもとに取引されます。政府は、税を主な収入として②予算を組み、公共事業や③社会保障など多岐にわたって政策をおこないます。また、政府は、景気を調整するために財政政策をおこないます。その際には、財政政策と日本銀行の④金融政策を効果的に組み合わせることが必要です。

私は、これまで消費者として⑤家計の役割に関心をもっていました。が、企業や政府が経済活動に果たしている役割の重要性に気付くことができました。

(ア) — 線①に関して、次の文 a～d のうち、価格について正しく説明したものの組み合わせとして最も適するものを、あとの 1～4 の中から一つ選び、その番号を答えなさい。

- a 天候不順の影響で農作物の流通量が減少したときには、価格が下落する傾向にある。
- b ホテルや旅館の宿泊代は、利用客が増加する時期に、価格が上昇する傾向にある。
- c 公共料金は、国や地方公共団体が決定したり認可したりしている。
- d 一つの企業に独占された市場では、財（モノ）やサービスの価格が均衡価格になる。

1. a, c 2. a, d 3. b, c 4. b, d

(イ) — 線②に関して、次の表は、日本政府の一般会計予算歳出額の内訳と割合を示したものである。この表から読み取れることについて説明した文 X, Y と、1975 年から 2015 年までにおこった日本のできごとについて説明した文 a, b の組み合わせとして最も適するものを、1～4 の中から一つ選び、その番号を答えなさい。

表

	一般会計 予算歳出額	一般会計予算歳出額の内訳と割合						
		社会保障 関係費	地方交付税 交付金等	公共事業 関係費	文教及び 科学振興費	防衛 関係費	国債費	その他
1975 年	21 兆 2888 億円	18.4%	20.7%	13.7%	12.4%	6.2%	4.9%	23.7%
2015 年	96 兆 3420 億円	32.7%	16.1%	6.2%	5.6%	5.2%	24.3%	9.9%

(財務省ウェブサイト掲載資料をもとに作成)

読み取れること	X 1975 年と 2015 年を比較すると、2015 年の「国債費」の額が 1975 年の「国債費」の額の 10 倍を上回っている。 Y 1975 年と 2015 年を比較すると、「公共事業関係費」と「防衛関係費」の額は、ともに減少した。
日本のできごと	a 総人口に占める 65 歳以上の人口の割合が増加した。 b 冷戦が激しくなり、自衛隊が発足した。

1. X と a 2. X と b 3. Y と a 4. Y と b

- (ウ) ——線③に関して、次の資料は、社会保障に関する法律の条文を示したものである。この資料と最も関係が深いものを、あとの1～4の中から一つ選び、その番号を答えなさい。

資料

生活保護法

第一条 この法律は、日本国憲法第二十五条に規定する理念に基き、国が生活に困窮するすべての国民に対し、その困窮の程度に応じ、必要な保護を行い、その最低限度の生活を保障するとともに、その自立を助長することを目的とする。

1. 社会保険 2. 公衆衛生 3. 社会資本 4. 公的扶助

- (エ) ——線④に関して、次の説明文について、あとの各問いに答えなさい。

説明文

不況のときには、物価が下落し続ける現象である が発生することがあります。不況の対策として、日本銀行は、 ことで市場に出まわるお金の量を させる金融政策を実施して経済の安定化をめざします。

- (i) 説明文中の にあてはまる語句を7字で書きなさい。
- (ii) 説明文中の , にあてはまるものの組み合わせとして最も適するものを、次のA～Dの中から一つ選び、その記号を書きなさい。
- A い：金融機関から国債を買い取る う：増加
B い：金融機関から国債を買い取る う：減少
C い：金融機関に国債を売る う：増加
D い：金融機関に国債を売る う：減少

- (オ) ——線⑤に関して、経済主体としての家計の役割について説明した次の文X、Yの正誤の組み合わせとして最も適するものを、あとの1～4の中から一つ選び、その番号を答えなさい。

X 家計の役割は、財（モノ）やサービスの消費と、企業への労働力の供給である。
Y 家計の役割は、資本を元手とする生産活動や雇用の提供である。

1. X：正 Y：正 2. X：正 Y：誤 3. X：誤 Y：正 4. X：誤 Y：誤

問6 Kさんは、人権について調べたことを発表するために、次のメモを作成した。これについて、あとの各問いに答えなさい。

メモ

人権の内容は、18世紀には自由権が中心でしたが、20世紀に入ると①社会権が主張されるようになりました。第二次世界大戦後、日本では、②日本国憲法によって様々な権利や③義務が定められました。世界では、世界人権宣言や国際人権規約などによって、人権を保障することの重要性が広く認められるようになり、④グローバル化が進んだ現在では、人権は「人類普遍の原理」として認識されています。

(ア) — 線①に関して、次の1～4の文は、民主主義や人権に関する宣言や憲法の条文の一部を示したものである。このうち、社会権の考え方を示したものとして最も適するものを、1～4の中から一つ選び、その番号を答えなさい。

1. 我々は以下のことを自明の真理であると信じる。人間はみな平等に創られ、ゆずりわたすことのできない権利を神によってあたえられていること、その中には、生命、自由、幸福の追求がふくまれていること、である。
2. 人は生まれながらに、自由で平等な権利を持つ。社会的な区別は、ただ公共の利益に関係のある場合にしか設けられてはならない。
3. すべての人間は、生れながら自由で、尊厳と権利について平等である。人間は、理性と良心を授けられており、同胞の精神をもって互に行動しなくてはならない。
4. 経済生活の秩序は、すべての者に人間たるに値する生活を保障する目的をもつ正義の原則に適合しなければならない。この限界内で、個人の経済的自由は、確保されなければならない。

(イ) — 線②に関して、あとの各問いに答えなさい。

- (i) 次の資料は、日本国憲法の条文を示したものである。この資料から読み取れることについて説明した文X、Yと、資料にみられる語句についての説明文a、bの組み合わせとして最も適するものを、あとの1～4の中から一つ選び、その番号を答えなさい。

資料

第98条 この憲法は、国の最高法規であつて、その条規に反する法律、命令、詔勅及び国務に関するその他の行為の全部又は一部は、その効力を有しない。

第99条 天皇又は摂政及び国務大臣、国会議員、裁判官その他の公務員は、この憲法を尊重し擁護する義務を負ふ。

読み取れること	X 日本国憲法の条文の内容に反する政令は、効力をもたない。 Y 参議院の議員は、日本国憲法を尊重し擁護する義務を負っていない。
説明文	a 「天皇」は、国の元首として統治権をもつと定められている。 b 「国務大臣」の多くは、各省庁の責任者として行政の仕事を担当している。

1. Xとa 2. Xとb 3. Yとa 4. Yとb

(ii) 日本国憲法では、国の権力を立法権、行政権、司法権の三つに分けて、それぞれを別の機関に与えることで、権力の集中を防ぎ国民の権利や自由を守るという考え方が採用されている。この考え方にもとづいた仕組みについて説明した憲法の条文として最も適するものを、次の1～4の中から一つ選び、その番号を答えなさい。

1. 地方公共団体の長、その議会の議員及び法律の定めるその他の^(りいん)吏員は、その地方公共団体の住民が、直接これを選挙する。
2. 衆議院で可決し、参議院でこれと異なつた^(つ)議決をした法律案は、衆議院で出席議員の3分の2以上の多数で再び可決したときは、法律となる。
3. 内閣は、衆議院で不信任の決議案を可決し、又は信任の決議案を否決したときは、10日以内に衆議院が解散されない限り、総辞職をしなければならない。
4. 最高裁判所の裁判官の任命は、その任命後初めて行はれる^(た)衆議院議員総選挙の際国民の審査に付し、その後10年を経過した後初めて行はれる^(た)衆議院議員総選挙の際更に審査に付し、その後も同様とする。

(ウ) — 線③に関して、日本国憲法に定められている国民の義務を果たしたことを示す例について説明した次の文X、Yの正誤の組み合わせとして最も適するものを、あとの1～4の中から一つ選び、その番号を答えなさい。

X 18歳の誕生日を迎えた後、国会議員を選出するための選挙で投票した。

Y 高等学校を卒業した後、地方自治体の消防士として働き、所得税を納めた。

1. X : 正 Y : 正 2. X : 正 Y : 誤 3. X : 誤 Y : 正 4. X : 誤 Y : 誤

(エ) — 線④に関して、次の文章は、グローバル化について説明したものである。この文章から読み取れることとしてあてはまらないものを、あとの1～4の中から一つ選び、その番号を答えなさい。

「グローバル化」とは、情報通信技術の進展、交通手段の発達による移動の容易化、市場の国際的な開放等により、人、物材、情報の国際的移動が活性化して、様々な分野で「国境」の意義があいまいになるとともに、各国が相互に依存し、他国や国際社会の動向を無視できなくなっている現象ととらえることができる。特に「知」はもともと容易に国境を越えるものであることから、グローバル化は教育と密接な関わりをもつ。さらに「国際化」はグローバル化に対応していく過程ととらえることができる。教育分野では、諸外国との教育交流、外国人材の受入れ、グローバル化に対応できる人材の養成などの形で、国際化が進展している。

(文部科学省ウェブサイト掲載資料より引用)

1. 情報通信技術の進展は、グローバル化が進んだ背景の一つである。
2. 交通手段の発達によって、国境を越えた移動が活発になる。
3. グローバル化が進むと、各国が他国や国際社会の動向を無視できなくなる。
4. 国際化が進展している教育分野では、グローバル化の現象はみられない。

問7 Kさんは、中東の地域を題材とした調べ学習をおこないレポートを作成した。これについて、あとの各問いに答えなさい。

レポート

次の略地図は、中東を含む地域を示したものです。

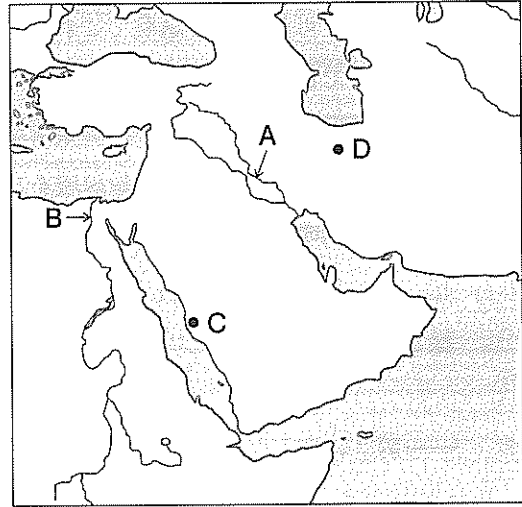
1 古代の中東

略地図中のA、Bで示した大河の流域で文明がおこりました。これらの地域は、「オリエント」とよばれました。

Aで示した大河の流域の文明では、文字や暦がつけられました。現在では、という国が、この大河の中流から下流にかけての流域を領土としています。

Bで示した大河の流域の文明では、①神の子として人びとから敬われた王の墓が建てられました。現在では、エジプトという国が、この大河の中流から下流にかけての流域を領土としています。

略地図



2 中東でひらかれた宗教

略地図中のCで示した都市は、の聖地の一つです。この宗教は、によって7世紀前半にひらかれ、現在では世界三大宗教のうちのの一つに数えられています。

3 第二次世界大戦後の中東

ユダヤ教国であるイスラエルの建国をきっかけに、イスラエルと中東の国であるアラブ諸国のあいだで、くり返し戦争がおこりました。1973年の戦争のときには、②アラブ諸国は原油の価格を引き上げる措置をとりました。また、1980年には、とイラン（略地図中のDで示した都市を首都とする国）とのあいだで戦争が始まり、1988年まで続きました。

(ア) レポート中の～にあてはまるものの組み合わせとして最も適するものを、次の1～8の中から一つ選び、その番号を答えなさい。

- | | | |
|----------|---------|----------------|
| 1. あ：インド | い：仏教 | う：シャカ（釈迦） |
| 2. あ：インド | い：仏教 | う：ムハンマド（マホメット） |
| 3. あ：インド | い：イスラム教 | う：シャカ（釈迦） |
| 4. あ：インド | い：イスラム教 | う：ムハンマド（マホメット） |
| 5. あ：イラク | い：仏教 | う：シャカ（釈迦） |
| 6. あ：イラク | い：仏教 | う：ムハンマド（マホメット） |
| 7. あ：イラク | い：イスラム教 | う：シャカ（釈迦） |
| 8. あ：イラク | い：イスラム教 | う：ムハンマド（マホメット） |

(イ) 次の文 a～dのうち、レポート中の略地図で示された地域について説明したものの組み合わせとして最も適するものを、あとの1～4の中から一つ選び、その番号を答えなさい。

- a 略地図中のDで示した都市は、4方位で考えると、イタリア半島からみて東にある。
- b 略地図中のDで示した都市は、同緯度の他の地域と比べて、海流の影響を受けて温暖である。
- c 略地図で示した範囲にある国で、湾岸戦争が始まった。
- d 略地図で示した範囲にある国で、ヒトラーが政権をにぎった。

1. a, c 2. a, d 3. b, c 4. b, d

(ウ) 〃線①に関して、この墓の名称をカタカナ5字で書きなさい。

(エ) 〃線②に関して、次の表は、1970年の日本における原油の輸入先と輸入量を示したものである。また、説明文は、アラブ諸国がとった措置が日本に与えた影響について説明したものである。これらについて、あとの各問いに答えなさい。

表 (単位：千キロリットル)

輸入先	輸入量
イラン	85,296
サウジアラビア	28,409
インドネシア	25,789
中立地帯 (注1)	20,255
クウェート	16,645
計 (注2)	195,825

説明文

アラブ諸国がとった措置の影響を受けて、日本では、物価が大きく上昇しました。日本で物価が大きく上昇した背景としては、当時の日本が、原油を え していたことが挙げられます。

(注1) 中立地帯：サウジアラビアとクウェート間の非武装地帯。

(注2) 計：その他の国及び地域からの輸入量を含む。

(『数字でみる 日本の100年 改訂第7版』をもとに作成)

(i) 説明文中の え にあてはまる内容を書きなさい。解答にあたっては、表から読み取れる1970年の日本における原油の輸入先と輸入量に関する特徴を、中東という語句を用いて、8字以上12字以内で書きなさい。

(ii) 説明文中の 〃線が日本の経済に与えた影響について説明したものとして最も適するものを、次のA～Dの中から一つ選び、その記号を書きなさい。

- A バブル経済が崩壊した。
- B 財閥が解体された。
- C 米騒動がおこった。
- D 高度経済成長が終わった。

(問題は、これで終わりです。)

