

問1 次の略地図は、地図の中心からの距離と方位が正しく表されたものであり、南緯60度より南側の範囲が省略されている。緯線は北極点から、経線は本初子午線からそれぞれ等間隔に引いたものである。また、表1～表3は、略地図中の様々な国の宗教や産業についてまとめたものである。

これらの略地図及び表1～表3について、あとの各問いに答えなさい。

略地図

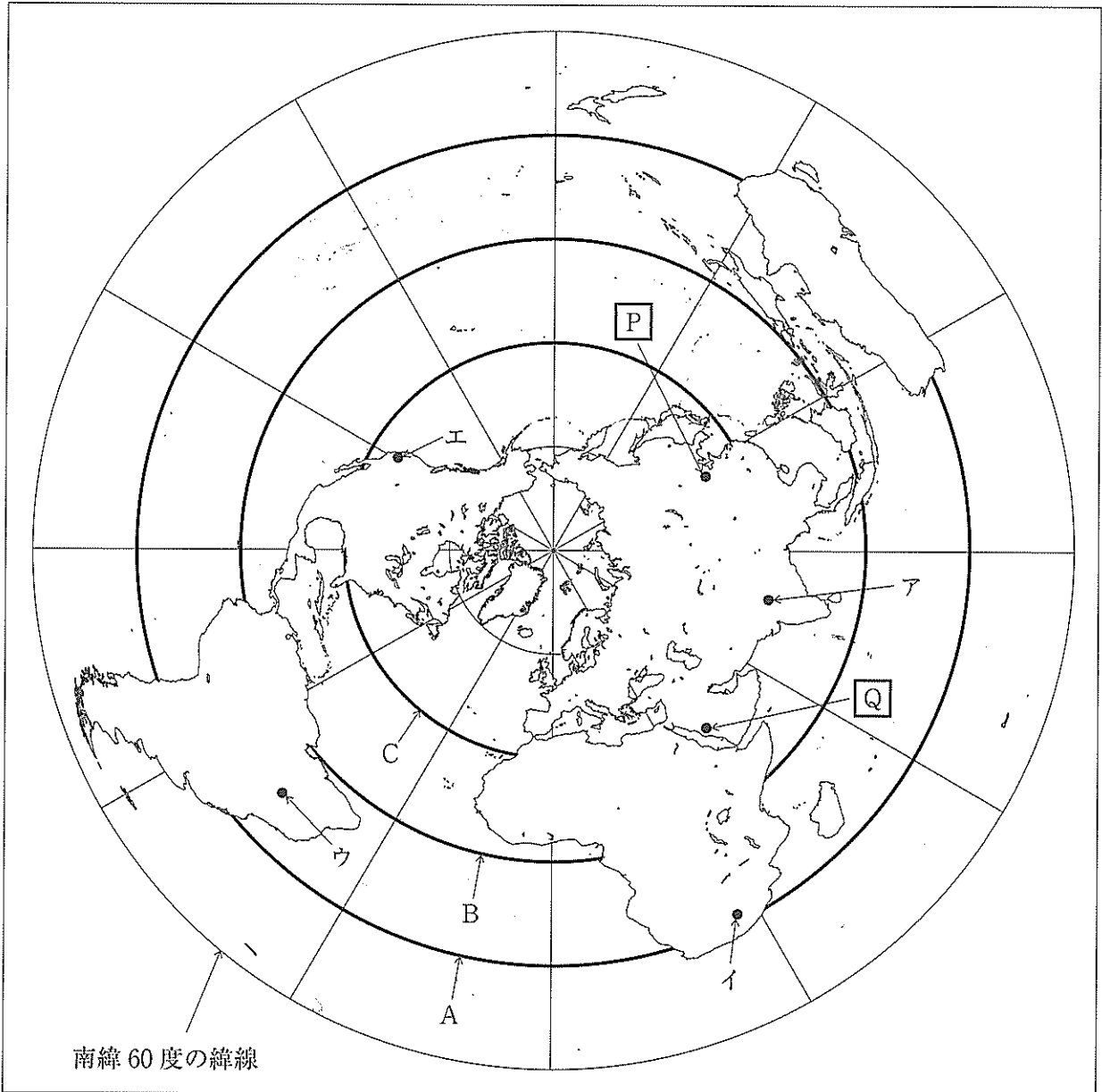


表1 略地図中の国及び世界全体の主な宗教・宗派別人口の割合

	人口	主な宗教・宗派別人口の割合
都市アを首都とする国	13億3918万人	ヒンドゥー教 79.8%， イスラム教 14.2%， キリスト教 2.3%
都市イを首都とする国	5672万人	プロテスタント 36.6%， カトリック 7.1%， 他のキリスト教 36.0%， イスラム教 1.5%
世界全体	75億5026万人	キリスト教 31.4%， イスラム教 23.2%， ヒンドゥー教 15.0%， 仏教 7.1%

表2 鉄鉱石の生産量（2014年）

国	生産量 (単位：千トン)
オーストラリア	468,000
都市ウを首都とする国	262,000
中華人民共和国	254,000
都市アを首都とする国	80,000
ロシア	61,700
世界計	1,430,000

注：「世界計」は、その他の国の生産量を含む。

表3 都市ウを首都とする国の輸出品（2015年）

品目	輸出額 (単位：百万ドル)
大豆	20,984
機械類	15,246
肉類	14,410
鉄鉱石	14,076
原油	11,781
総額	191,127

注：「総額」は、その他の品目を含む。

(表1～表3はすべて、「世界国勢図会 2017/18年版」をもとに作成)

- (ア) 略地図について説明した次の文中の **あ**、**い** にあてはまる語句の組み合わせとして最も適するものを、あとの1～6の中から一つ選び、その番号を答えなさい。

この略地図は、**P** で示した地点から見た **Q** で示した地点の方位を正しく表して **あ**。
また、A～Cの緯線のうち、実際の距離（全周）が最も長いのは **い** である。

1. あ：いる い：A 2. あ：いる い：B 3. あ：いる い：C
4. あ：いない い：A 5. あ：いない い：B 6. あ：いない い：C

- (イ) 次の文a～fのうち、表1～表3について正しく説明したものの組み合わせとして最も適するものを、あとの1～8の中から一つ選び、その番号を答えなさい。

- a 表1によると、都市イを首都とする国でキリスト教を信仰している人びとの数は、その国の人口の5割を下回っている。
b 表1によると、「世界全体」で仏教を信仰している人びとの数は、都市アを首都とする国でヒンドゥー教を信仰している人びとの数より少ない。
c 表2によると、都市ウを首都とする国の鉄鉱石の生産量が「世界計」に占める割合は、10%を下回っている。
d 表3によると、工業製品と鉱産物の合計額が「総額」に占める割合は、10%を上回っている。
e 表2をもとに、鉄鉱石の生産量の割合を国ごとに比較するときには、円グラフよりも折れ線グラフが適している。
f 表3をもとに、都市ウを首都とする国からの輸出額の品目ごとの割合を示すときには、折れ線グラフよりも円グラフが適している。

1. a, c, e 2. a, c, f 3. a, d, e 4. a, d, f
5. b, c, e 6. b, c, f 7. b, d, e 8. b, d, f

- (ウ) 略地図中の都市エの郊外のようなすについて説明した文として最も適するものを、次の1～4の中から一つ選び、その番号を答えなさい。

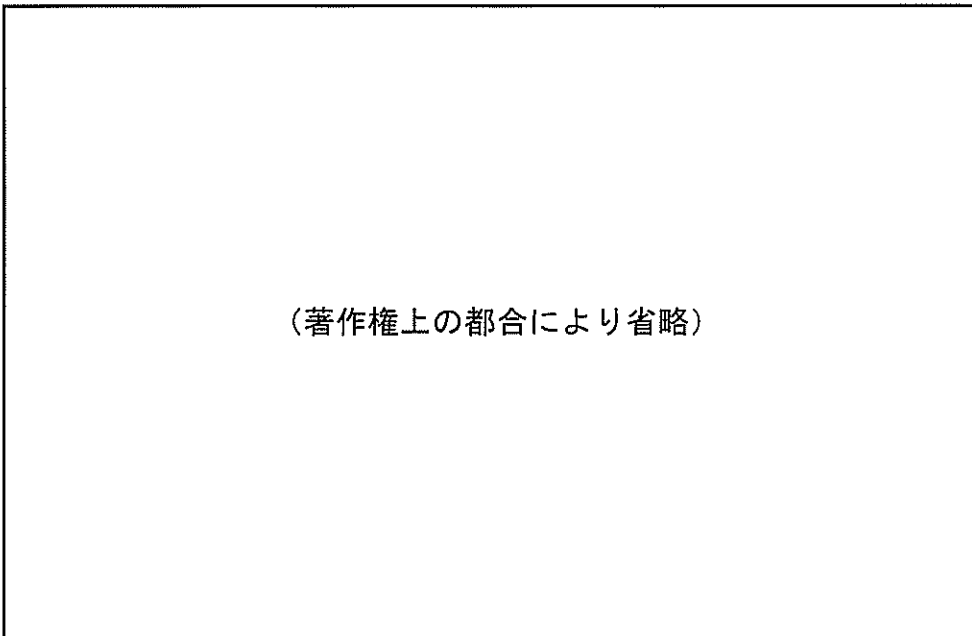
1. 情報通信技術（情報技術）に関連する産業が集中し、高度な技術の開発が進められている。
2. 北大西洋海流や偏西風の影響による温暖な気候を利用した、混合農業や酪農がさかんである。
3. 火山のはたらきによってできた島や、さんご礁が発達してできた島が多くみられる。
4. プランテーションにおいて、天然ゴムやバナナなど輸出用の作物が栽培されている。

問2 Kさんは、富山県黒部市を題材に調べ学習をおこないレポートを作成した。これについて、あとの各問いに答えなさい。

レポート

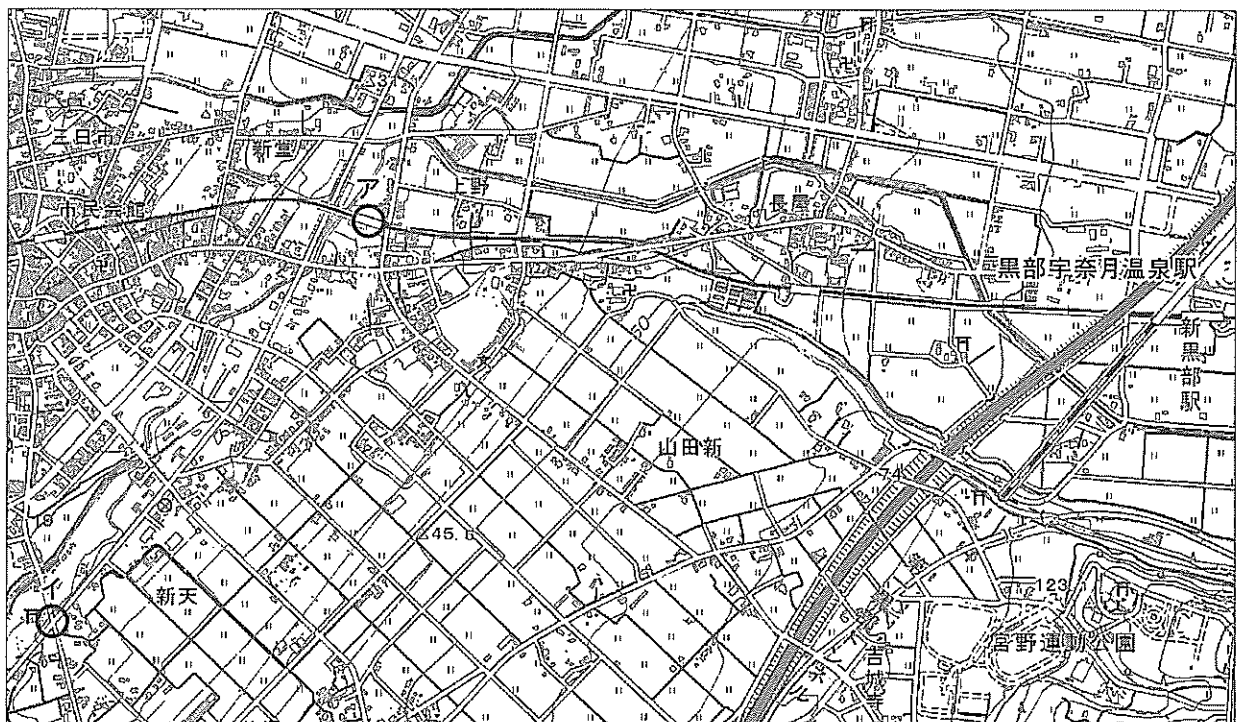
私は、新幹線に乗って日本アルプスの東側を通りました。①この一帯には断層が集まっており、ここを境にして本州の東と西では自然環境が大きく異なっているそうです。その後、②北陸地方に入り富山県の③黒部市に到着した私は、市のパンフレットに掲載されていた案内図を使って調査を始めようとした。しかし、案内図では方位や一部の道路などが省略されていたので、地形図を用意して調査にのぞむことにしました。

案内図



(『KUROBE マガジン』(黒部市商工観光課)を一部改変)

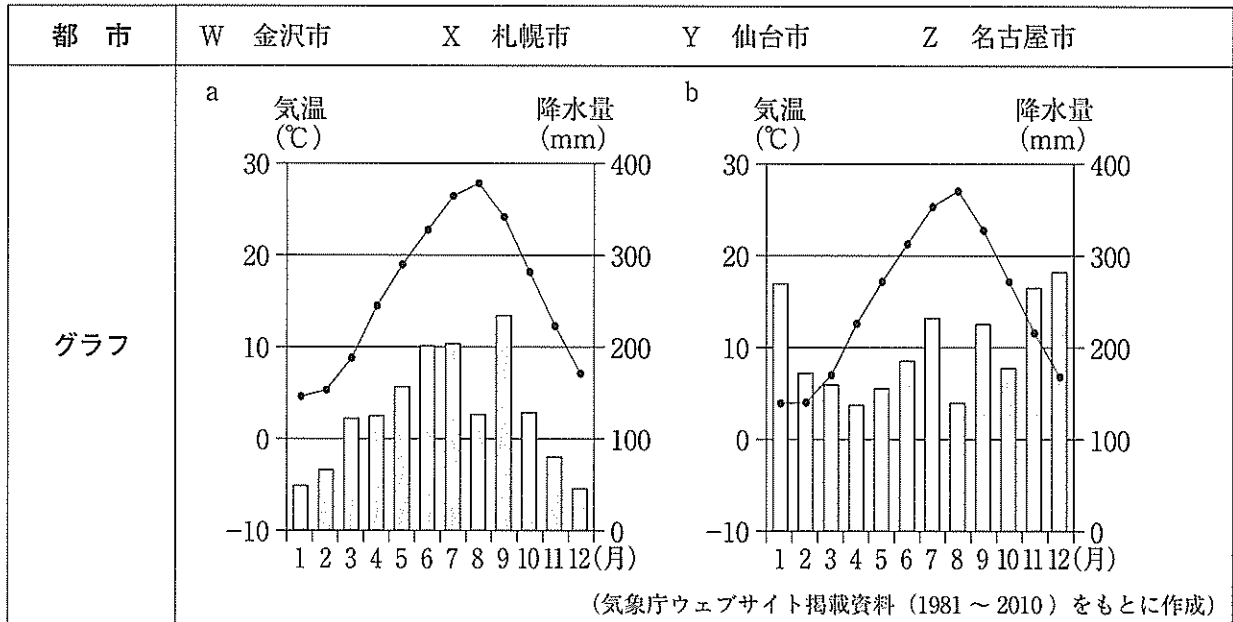
地形図



(『2万5千分の1電子地形図 国土地理院作成(2019年8月調製)』をもとに作成)

(ア) 線①に関して、この一帯の名称をカタカナ7字で書きなさい。

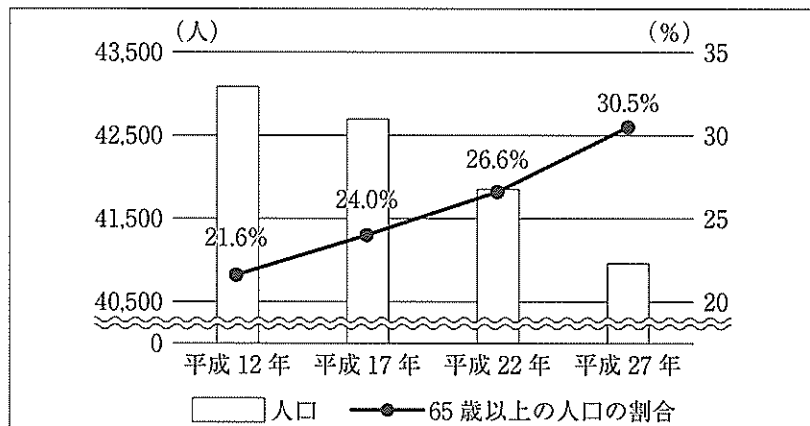
(イ) 線②に関して、この地方に含まれる都市の名称とその都市の気温と降水量を表したグラフの組み合わせとして最も適するものを、あとの1～8の中から一つ選び、その番号を答えなさい。



- | | | | |
|--------|--------|--------|--------|
| 1. Wとa | 2. Wとb | 3. Xとa | 4. Xとb |
| 5. Yとa | 6. Yとb | 7. Zとa | 8. Zとb |

(ウ) 線③に関して、黒部市の人口の推移を示した次のグラフから読み取れることについて説明した文として最も適するものを、あとの1～4の中から一つ選び、その番号を答えなさい。

グラフ



(黒部市ウェブサイト掲載資料をもとに作成)

- 平成12年から平成27年にかけて、65歳以上の人口の割合が低下し続けている。
- 平成12年から平成27年にかけて、出生率が低下し少子化が進んでいる。
- 平成27年には、65歳以上の人口が64歳以下の人口を上回っている。
- グラフに示された4つの年のすべてで、65歳以上の人口は8千人をこえている。

(エ) 地形図上のア、イで示した地点に対応する案内図上の場所の組み合わせとして最も適するものを、次の1～4の中から一つ選び、その番号を答えなさい。

- | | | | |
|------------|------------|------------|-------------|
| 1. ア：電鉄黒部駅 | イ：「天池」の交差点 | 2. ア：電鉄黒部駅 | イ：「西小路」の交差点 |
| 3. ア：荻生駅 | イ：「天池」の交差点 | 4. ア：荻生駅 | イ：「西小路」の交差点 |

問3 Kさんは、夏休みを利用して大分県を訪れ、レポートを作成した。これについて、あとの各問いに答えなさい。

レポート

古代から近世にかけて、現在の大分県にあたる範囲の北部の地域は豊前^{ぶぜん}、中部から南部にかけての地域は豊後^{ぶんご}とよばれていたそうです。7世紀以降の大分県に関係のあるできごとや中学校までに学習した内容について、年代の古い順に表にしました。

表

大分県に関係のあるできごと	中学校までに学習した内容
あ	倭国の軍勢が、朝鮮半島で唐・新羅の連合軍に敗れた。
い	壇ノ浦で、平氏の軍勢が源氏の軍勢に敗れた。
う	京都で、多くの守護大名を巻きこんだ戦乱がおこった。 大阪城が攻められ、豊臣家が滅亡した。 貿易の利益を守ろうとするイギリスが、清と戦った。

(ア) レポート中の — 線に関して、この期間を西暦で表すと何年から何年までか、その始まりの年と終わりの年をそれぞれ算用数字で書きなさい。

(イ) 表中の あ ~ う にあてはまる次の文Ⅰ～Ⅲの組み合わせとして最も適するものを、あとの1～6の中から一つ選び、その番号を答えなさい。

- Ⅰ 豊後についての地理や産物、伝承などをまとめた風土記がつけられた。
- Ⅱ 複数の藩があった豊後に、幕府の直接の支配地（直轄領）が設けられた。
- Ⅲ 大友氏泰^{うじやす}が、足利尊氏に味方した功績によって豊前や豊後などの守護に任じられた。

- 1. あ：Ⅰ い：Ⅱ う：Ⅲ
- 2. あ：Ⅰ い：Ⅲ う：Ⅱ
- 3. あ：Ⅱ い：Ⅰ う：Ⅲ
- 4. あ：Ⅱ い：Ⅲ う：Ⅰ
- 5. あ：Ⅲ い：Ⅰ う：Ⅱ
- 6. あ：Ⅲ い：Ⅱ う：Ⅰ

(ウ) 表中の A の時期のできごとについて説明した次の文Ⅰ～Ⅲを年代の古いものから順に正しく並べたものを、あとの1～4の中から一つ選び、その番号を答えなさい。

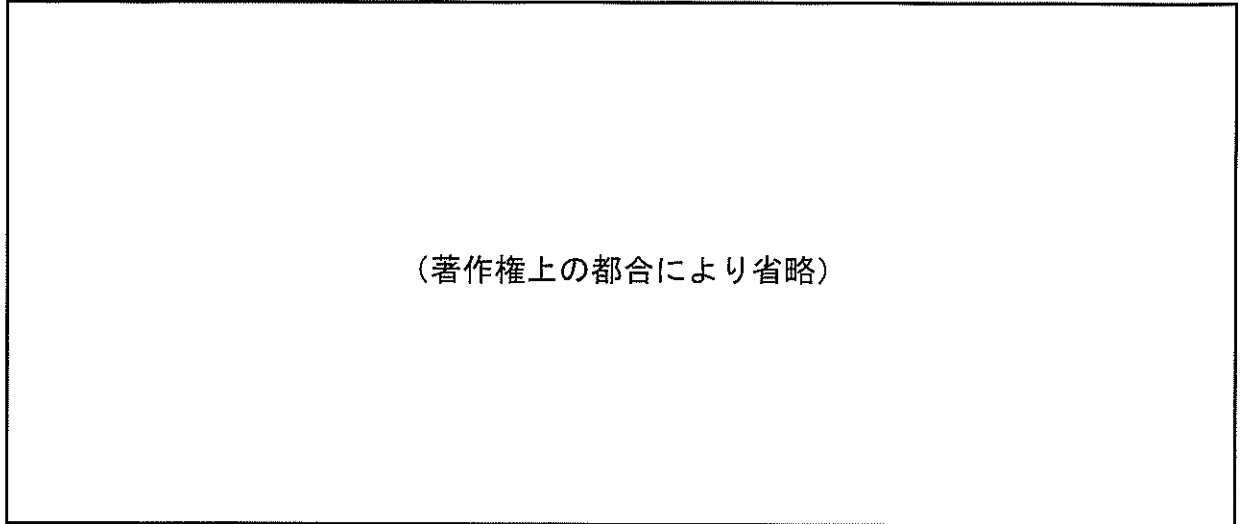
- Ⅰ 大宝律令が制定され、天皇を頂点に太政官が政策を決める仕組みが定められた。
- Ⅱ 藤原道長が、天皇が幼いときに政治を代行する職につき、政治を主導した。
- Ⅲ 後白河上皇に仕える人びとの勢力争いに勝利した平清盛が、政権をにぎった。

- 1. Ⅰ→Ⅱ→Ⅲ
- 2. Ⅰ→Ⅲ→Ⅱ
- 3. Ⅱ→Ⅰ→Ⅲ
- 4. Ⅱ→Ⅲ→Ⅰ

- (エ) 次の資料は、表中の [B] の時期のようすを描いた屏風の一部である。この資料に関する説明文と、[B] の時期におきた世界のできごとの組み合わせとして最も適するものを、あとの1～6の中から一つ選び、その番号を答えなさい。

資料

従来の仏教寺院を改造してつくられた教会。
その屋根には十字架が取り付けられている。



東南アジアから連れてこられた虎。
商人によって運ばれている。

(神戸市立博物館ウェブサイトから引用)

説明文	<p>X 朝鮮の人びとが、幕府の新たな将軍が就任した際に、外交使節として日本を訪れたようすを表している。</p> <p>Y ヨーロッパの人びとが、貿易やキリスト教の布教のために、日本を訪れたようすを表している。</p>
世界のできごと	<p>a キリスト教徒で構成された十字軍が、エルサレムに遠征した。</p> <p>b 元が、高麗を従わせて日本を攻めた。</p> <p>c ルターやカルバンらによって、宗教改革がおこなわれた。</p>

1. Xとa 2. Xとb 3. Xとc 4. Yとa 5. Yとb 6. Yとc

- (オ) 表中の [C] の時期の日本でみられた文化について説明した文として最も適するものを、次の1～4の中から一つ選び、その番号を答えなさい。

1. 宮廷に才能ある女性が集まる中で、清少納言がかな文字を使って随筆を書いた。
2. 武家の文化が公家の文化ととけ合っていく中で、京都の北山に金閣が作られた。
3. 武士の力が伸びたことを背景に軍記物が生まれ、琵琶法師によって『平家物語』が語られた。
4. 商業の発達や都市の繁栄を背景に、上方の町人である井原西鶴が浮世草子を書いた。

問4 Kさんは、日本と海外とのかかわりに関するできごとを年代の古い順に並べた表を作成した。これについて、あとの各問いに答えなさい。

表

日本と海外とのかかわりに関するできごと	
アメリカ合衆国のペリーが、艦隊を率いて日本に開国を求めた。-----	↑ A ↓
ロシアが、ドイツやフランスとともに、戦争で得た領土の一部を返還するよう日本に要求した。-----	* B ↓
満州にいた日本の軍隊が、南満州鉄道の線路を爆破し、満州全体を占領した。-----	* C ↓
日韓基本条約が結ばれ、日本と大韓民国のあいだで国交が樹立された。-----	* D ↓
日朝首脳会談がおこなわれ、拉致被害者の一部の帰国が実現した。-----	↓

(ア) 表中の **A** の時期に結ばれた条約について説明した次の文Ⅰ～Ⅲを年代の古いものから順に正しく並べたものを、あとの1～4の中から一つ選び、その番号を答えなさい。

- | |
|--|
| Ⅰ イギリスとのあいだで条約が結ばれ、日本国内で罪を犯した外国人に対して、領事が本国の法で裁判をおこなう仕組みが廃止されることになった。
Ⅱ 岩倉具視を大使とする使節団が、条約の不平等な点を改正する準備のために、欧米諸国に派遣された。
Ⅲ 欧米諸国とのあいだで条約が結ばれ、輸出入品に課す税の税率を日本が決めることができない仕組みのもとで、欧米諸国との貿易が始まった。 |
|--|

1. Ⅱ→Ⅰ→Ⅲ 2. Ⅱ→Ⅲ→Ⅰ 3. Ⅲ→Ⅰ→Ⅱ 4. Ⅲ→Ⅱ→Ⅰ

(イ) 表中の **B** の時期における人びとの生活について説明した文として最も適するものを、次の1～4の中から一つ選び、その番号を答えなさい。

- 電気洗濯機、電気冷蔵庫、テレビなどの家庭電化製品が普及した。
- 雑誌や新聞が普及するとともに、新たにラジオ放送が始まった。
- 太陽暦を採用することが定められるなど、欧米の文化や生活様式が取り入れられた。
- 空襲が激しさを増す中で、都市の小学生が集団で農村へ疎開した。

(ウ) 表中の **C** の時期のできごとについて説明した次の文中の **あ**， **い** にあてはまる語句の組み合わせとして最も適するものを、あとの1～6の中から一つ選び、その番号を答えなさい。

日本と あ との戦争中に、日本では国家総動員法が制定された。この法によって、大日本帝国憲法（明治憲法）で議会で認められている い に関する機能は大きく制限され、政府は国民や物資を優先して戦争にまわすことができるようになった。
--

- | | | | |
|--------------|---------|--------------|---------|
| 1. あ：アメリカ合衆国 | い：法律の制定 | 2. あ：アメリカ合衆国 | い：軍隊の指揮 |
| 3. あ：中華民国 | い：法律の制定 | 4. あ：中華民国 | い：軍隊の指揮 |
| 5. あ：ドイツ | い：法律の制定 | 6. あ：ドイツ | い：軍隊の指揮 |

(エ) 表中の **D** の時期について、あとの各問いに答えなさい。

(i) 次の資料は、この時期に日本と中華人民共和国の両国政府が共同で発表したものの一部である。資料中の **う** にあてはまる語句と、中華人民共和国の政治を建国当初から主導していた人物の組み合わせとして最も適するものを、あとの1～4の中から一つ選び、その番号を答えなさい。

資料

… (略) …日中両国は、^{いちいたいすい}一衣帯水(注)の間にある隣国であり、長い伝統的友好の歴史を有する。両国国民は、両国間にこれまで存在していた不正常的な状態に終止符を打つことを切望している。戦争状態の終結と日中 **う** という両国国民の願望の実現は、両国関係の歴史に新たな一頁を開くこととなろう。… (略) …

(注) 一衣帯水：一筋の帯のような狭い川・海。その狭い川や海峡をへだてて近接していることをいう。

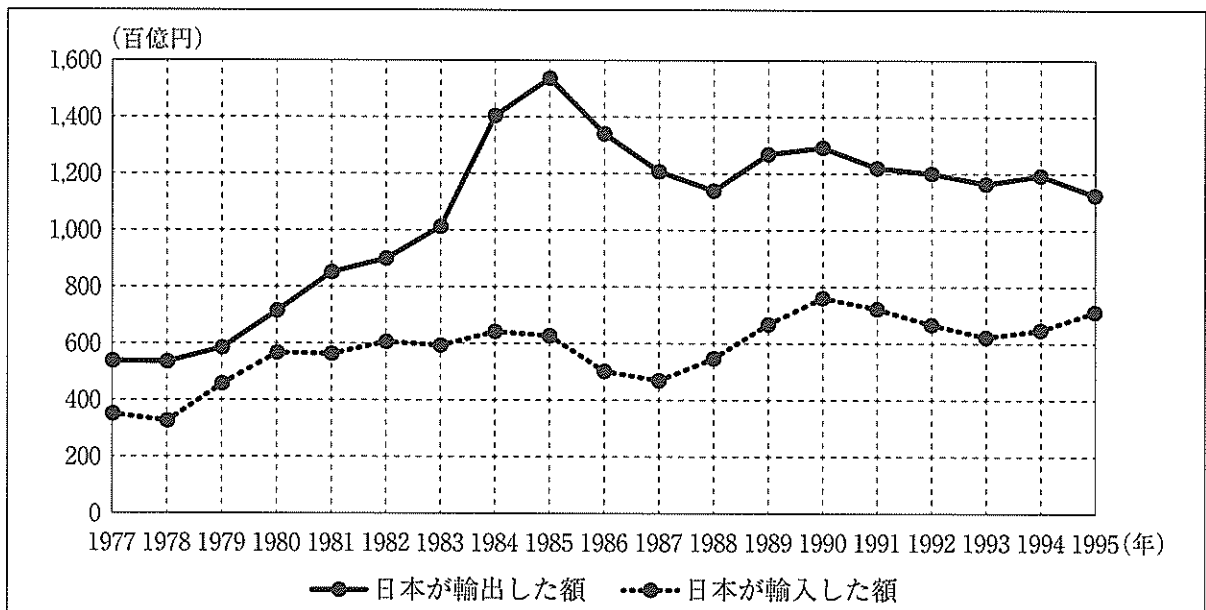
(外務省ウェブサイトから引用)

語句	X 国交の正常化	Y 軍事同盟の構築
人物	a 毛沢東	b 蔣介石

1. Xとa 2. Xとb 3. Yとa 4. Yとb

(ii) 次のグラフは、この時期における日本とアメリカ合衆国のあいだの貿易額の推移を示したものである。このグラフから読み取れることと、グラフ中の時期の日本についての説明文の組み合わせとして最も適するものを、あとの1～4の中から一つ選び、その番号を答えなさい。

グラフ



(総務省統計局ウェブサイト掲載資料をもとに作成)

読み取れること	X 1985年に日本が輸入した額は、同年に日本が輸出した額の約2.5倍である。 Y 1985年に比べて、1993年のアメリカに対する日本の貿易黒字は小さくなった。
説明文	a エネルギー資源を石炭から石油へ転換する動きが始まった。 b 自動車などの輸出をめぐって、アメリカとのあいだで貿易摩擦がおきた。

1. Xとa 2. Xとb 3. Yとa 4. Yとb

問5 Kさんは経済について学習し、感想文を作成した。これについて、あとの各問いに答えなさい。

感想文

私は、①インターネットを利用して日本の経済について学習しました。私たちが過ごしている社会の経済活動は、②家計・③企業・政府という3つの経済主体によって成り立っており、これらをつなぐ④銀行の役割も重要です。中学生である私たちは、⑤価格が高いか低いかなど、消費者としての視点のみを重視しがちです。しかし、企業を通しての視点、納税者としての視点など、様々な見方を活用して経済を考えていくべきだと思います。

(ア) ——線①について説明した次の文X、Yの正誤の組み合わせとして最も適するものを、あとの1～4の中から一つ選び、その番号を答えなさい。

X インターネット上書きこんだ内容から、個人情報が多く流出することがある。
 Y インターネットを利用して、店舗に行かずに商品を購入できる。

1. X：正 Y：正 2. X：正 Y：誤 3. X：誤 Y：正 4. X：誤 Y：誤

(イ) ——線②に関して、医療費の負担についての次の事例に最も関係が深いものを、あとの1～4の中から一つ選び、その番号を答えなさい。

事例

太郎さんは、目の検査のために眼科を受診しました。その際に総医療費の一部を負担し、次の領収書を受け取りました。

診療費領収書

神奈川 太郎 様

かもめ中央病院

入・外	領収書番号	診療科	負担割合	本・家	発行日
外来	***	眼科	30%	家族	2019年11月1日

	初・再診料	投薬	注射	処置	手術	麻酔	検査	リハビリテーション	入院料等	その他	小計
保険分	74点	72点	点	点	点	点	442点	点	点	点	588点
保険外分	円	円	円	円	円	円	円	円	円	円	0円

自費	予防注射	円
	室料差額	円
	その他	円
	小計	0円

	保険	保険外	自費
総医療費	5,880円	0円	
自己負担額		1,760円	0円
請求額合計		1,760円	

領収印

1.11.1

かもめ中央病院

1. 1点は10円となります。 2. 四捨五入になっています。

1. 社会資本 2. 社会保障 3. 循環型社会 4. 情報社会

- (ウ) ー線③に関して、次の表は、非正規雇用で働く人について、性別及び年齢層ごとに示したものである。この表から読み取れることについて説明した文として適切でないものを、あとの1～4の中から一つ選び、その番号を答えなさい。

表 「非正規雇用で働く人の数」及び「非正規雇用で働く人の数が雇用者の数に占める割合」

		年齢層						
		計	15～24歳	25～34歳	35～44歳	45～54歳	55～64歳	65歳以上
男性	数	669万人	127万人	83万人	65万人	60万人	145万人	189万人
	割合	22.2%	46.2%	14.3%	9.2%	8.6%	29.2%	72.4%
女性	数	1,451万人	145万人	181万人	307万人	365万人	284万人	169万人
	割合	56.0%	53.1%	37.8%	52.5%	58.2%	67.9%	81.3%
合計	数	2,120万人	273万人	264万人	371万人	425万人	429万人	358万人
	割合	37.8%	49.8%	24.9%	28.8%	32.1%	46.9%	76.3%

(総務省「労働力調査(2018)」をもとに作成)

1. 「非正規雇用で働く人の数」の半数以上は、女性である。
2. 65歳以上の年齢層について見てみると、男性と女性の両方において、「非正規雇用で働く人の数」が他の年齢層と比べて最も多い。
3. 45歳以上の男女の合計について見てみると、年齢層が高くなるほど、「非正規雇用で働く人の数が雇用者の数に占める割合」が増加している。
4. 25歳以上54歳以下の女性について見てみると、年齢層が高くなるほど、「非正規雇用で働く人の数が雇用者の数に占める割合」が増加している。

- (エ) ー線④について説明した次の文中の **あ** にあてはまる語句を漢字2字で書きなさい。また、**い** にあてはまる語句として最も適するものを、あとのA、Bの中から一つ選び、その記号を書きなさい。

(1) 一般の銀行について：企業や家計などの資金の借り手は、銀行に対して借り入れた金額(元金)を返済するだけでなく、一定期間ごとに **あ** を支払わなければなりません。元金に対する **あ** の比率を金利といいます。

(2) 中央銀行について：日本の中央銀行は、**い** など、さまざまな役割を果たしています。

- A 日本国内で流通している紙幣(日本銀行券)を発行する
B 企業が不当な価格操作をおこなわないように監視する

- (オ) ー線⑤に関して、次の文a～dのうち、価格や景気の変動について正しく説明したものの組み合わせとして最も適するものを、あとの1～4の中から一つ選び、その番号を答えなさい。

- a 供給量が需要量より多い場合、価格は高くなり、供給量は増える。
b 生産者が1人や少数である場合、生産者は供給量を減らして価格を上げることができる。
c 好況(好景気)の際には、物価が下がり続けるデフレーションが発生する傾向にある。
d 不況(不景気)の際には、減税をおこなうことで、景気の回復が期待できる。

1. a, c 2. a, d 3. b, c 4. b, d

問6 公民の学習を終えたKさんは、ふり返りのためのレポートを作成した。これについて、あとの各問いに答えなさい。

レポート

①日本国憲法にもとづいて実際の政治をおこなっているのは、②国や地方公共団体（地方自治体）です。私たちが生きている現代社会には、国や地方公共団体の枠にとどまらず、考えていかなければならない地球規模の課題がたくさんあります。世界の人びとと共存し、より良い③国際社会を実現するためにできることについて、考えるべきだと思いました。

(ア) ——線①について説明した次の文X、Yの正誤の組み合わせとして最も適するものを、あとの1～4の中から一つ選び、その番号を答えなさい。

X 日本国憲法では、^{よくりゅう}抑留または^{こうざん}拘禁された後に無罪の裁判を受けたとしても、国にその補償を求めることができない。
Y 日本国憲法では、勤労者に対して、団体で行動しストライキなどをおこなう権利が保障されている。

1. X：正 Y：正 2. X：正 Y：誤 3. X：誤 Y：正 4. X：誤 Y：誤

(イ) ——線②について説明した文として適切でないものを、次の1～4の中から一つ選び、その番号を答えなさい。

1. 国や地方公共団体の公務員が、行政の仕事を分担して実行している。
2. 最高裁判所の裁判官は身分を保障されているが、国民審査によって罷免される仕組みがある。
3. 地方公共団体の議会の解散を請求するためには、有権者の50分の1以上の署名が必要である。
4. 政治活動に必要な資金の一部を、政党交付金として政党に補助する仕組みがある。

(ウ) ——線③について、あとの各問いに答えなさい。

(i) 次の文中の「あ」にあてはまる語句を漢字2字で書きなさい。また、「い」にあてはまる語句として最も適するものを、あとのA、Bの中から一つ選び、その記号を書きなさい。

国際社会における「あ」とは、他の国がおかすことができない、それぞれの国がもつ権利のことであり、「あ」をもつ国家同士は対等である。「あ」が及ぶ領域には、領土・領海・領空があり、領海の外にある排他的経済水域では、「い」ことができる。

- A 沿岸国以外の国が航海や漁業を自由におこなう
B 沿岸国が漁業資源や鉱産資源を自国のものとする

- (ii) 日本による国際貢献について説明した次の文 X、Y の正誤の組み合わせとして最も適するものを、あとの 1～4 の中から一つ選び、その番号を答えなさい。

X 戦争や内戦で生活がこわされた地域の人びとに対する支援として、政府開発援助（ODA）による経済援助や非政府組織（NGO）による開発協力がおこなわれてきた。

Y 日本の自衛隊は、法律にもとづいて国際連合の平和維持活動（PKO）に参加するとともに、21 世紀のはじめには、イラクに派遣され活動した。

1. X：正 Y：正 2. X：正 Y：誤 3. X：誤 Y：正 4. X：誤 Y：誤

- (iii) 次の表は、2015 年における 1 人あたりの国内総生産、国内総生産に対する医療関連支出の割合、乳児死亡率の 3 つを国家間で比較したものである。この表から読み取れることについて説明した文として最も適するものを、あとの 1～4 の中から一つ選び、その番号を答えなさい。

表

	1 人あたりの国内総生産	国内総生産に対する医療関連支出の割合			乳児死亡率 (注)
		合計	政府から支出された割合	家計などから支出された割合	
日本	34,629 ドル	10.9%	9.2%	1.7%	2.0
韓国	27,397 ドル	7.0%	4.1%	2.9%	2.9
インド	1,614 ドル	3.6%	0.9%	2.7%	37.9
南アフリカ共和国	5,773 ドル	8.2%	3.5%	4.7%	33.6
フランス	36,304 ドル	11.5%	8.8%	2.7%	3.5
アメリカ合衆国	56,054 ドル	16.7%	14.2%	2.5%	5.6

(注) 出生児 1,000 人のうち、満 1 歳未満で死亡した人数で表したもの。

(経済協力開発機構ウェブサイト掲載資料及び『世界国勢図会 2017/2018 版』をもとに作成)

- 日本では、家計などから支出された医療関連支出の割合が、政府から支出された医療関連支出の割合の 5 倍を上回っている。
- インドは、表中の 6 か国の中で乳児死亡率が最も高く、家計などから支出された医療関連支出の割合が最も低くなっている。
- 乳児死亡率が 10 人を下回っている 4 か国では、政府から支出された医療関連支出の割合が、家計などから支出された医療関連支出の割合を下回っている。
- 1 人あたりの国内総生産が 25,000 ドルを上回っている 4 か国は、乳児死亡率が 10 人を下回っている。

問7 アメリカ合衆国のニューヨークへ旅行に行ったKさんは、ニューヨークを題材とするレポートを作成した。これについて、あとの各問いに答えなさい。

レポート

1 旅行の日程表（主なものを抜粋）

日次	現地時刻	スケジュール
1	あ	JFK 空港着 (途中省略)
2	午前 10 時 午後 3 時 午後 6 時	①国際連合本部ビルを見学 ウォール街を散策 ミュージカルを鑑賞
3	午前 10 時 午後 8 時	メトロポリタン美術館を見学 チャイナタウンを散策
4	午前 10 時 午後 4 時	自由の女神像を観光 JFK 空港発

○私は、ニューヨーク郊外の JFK 空港まで、直行便で 13 時間かかる飛行機を使いました。その飛行機は、日本時間の 12 月 28 日午前 10 時に羽田空港を出発し、予定通りの時刻に JFK 空港に到着しました。

○左の日程表にある現地時刻は、西経 75 度の経線を基準とする時刻です。

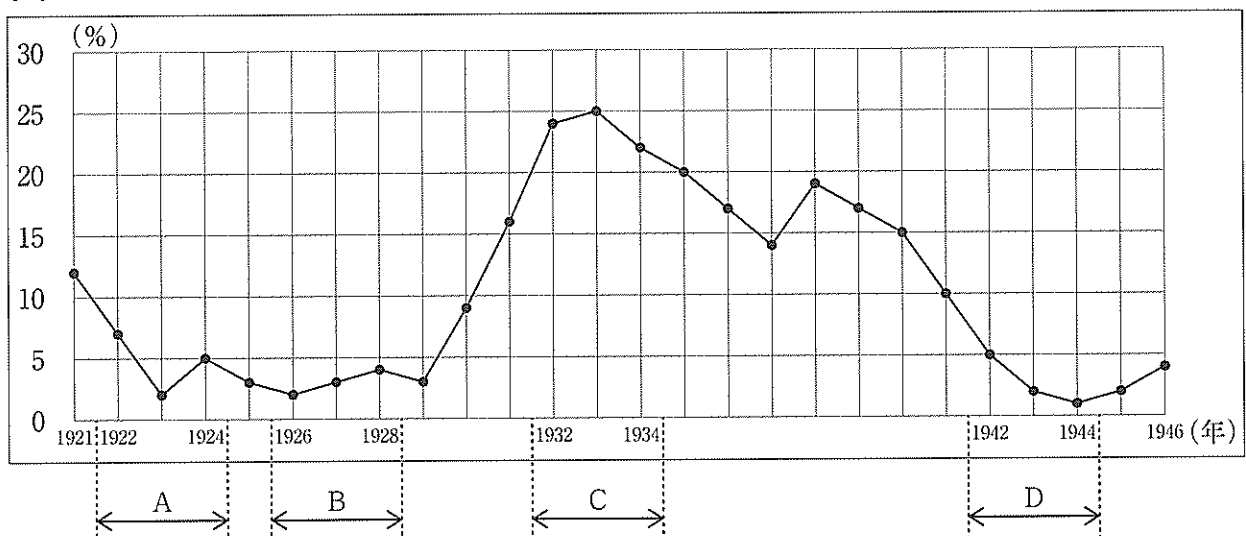
2 旅行の感想

「ニューヨークには、さまざまな大陸からやってきた人びとやその子孫が生活していて、興味深い。自由の女神像を見て、明治維新から影響を受けてアメリカ独立戦争がおり、アメリカが建国されたことに思いをはせた。「アメリカによるアフガニスタンへの攻撃につながった同時多発テロの現場は、大変な出来事があったと思えないくらいきれいに整備されていた。現地での観光のために日本円をドルと交換したのだが、その時よりも円高ドル安になっていたら、同じ金額の日本円をさらに多くのドルと交換できたのに、と思った。」

3 ニューヨークと世界のつながりについて

20 世紀前半、ウォール街の証券取引所で株価が暴落したことで恐慌が始まりました。次のグラフは、その前後の時期のアメリカ合衆国における失業率の推移を示したものです。

グラフ



(『アメリカ歴史統計・第 I 巻 (新装版)』(1999) をもとに作成)

(ア) レポート中の **あ** にあてはまる時刻と、その日付の組み合わせとして最も適するものを、あとの1～6の中から一つ選び、その番号を答えなさい。

時刻	X 午前3時	Y 午前9時	Z 午後7時
日付	a 12月28日	b 12月29日	

1. Xとa 2. Xとb 3. Yとa 4. Yとb 5. Zとa 6. Zとb

(イ) ー線①について説明した次の文中の **い** , **う** にあてはまる語句の組み合わせとして最も適するものを、あとの1～4の中から一つ選び、その番号を答えなさい。

(1) 次の条文（国際連合憲章）から、国際連合は **い** を使用することができると考えられる。

第41条 安全保障理事会は、…(略)…兵力の使用を伴わないいかなる措置を使用すべきかを決定することができ、^か且つ、この措置を適用するように加盟国に要請することができる。この措置は、経済関係及び鉄道、航海、航空、郵便、電信、無線通信その他の運輸通信の手段の全部又は一部の中断並びに外交関係の断絶を含むことができる。

第42条 安全保障理事会は、第41条に定める措置では不十分であろうと認め、又は不十分なことが判明したと認めるときは、国際の平和及び安全の維持又は回復に必要な空軍、海軍または陸軍の行動をとることができる。…(略)…

(2) 国際連合が採択した **う** では、「すべての人間は、生まれながらにして自由であり、かつ、尊厳と権利とについて平等である。」と掲げられている。

1. い：軍事的な措置 う：世界人権宣言
 2. い：軍事的な措置 う：児童（子ども）の権利に関する条約
 3. い：経済的な措置のみ う：世界人権宣言
 4. い：経済的な措置のみ う：児童（子ども）の権利に関する条約

(ウ) 旅行の感想中の~~~~線 a～dのうち、事実として誤りのあるものを、次の1～4の中から一つ選び、その番号を答えなさい。

1. a 2. b 3. c 4. d

(エ) ー線②に関して、グラフ中の時期におこったできごとについて説明した次のカード及びその説明文について、あとの各問いに答えなさい。

カード

アメリカ合衆国では、テネシー川流域開発公社がつくられ、この公社の事業によって多くのダムが建設されました。公社とは、国家が出資してつくられた法人のことです。

説明文

カードで説明された事業は、公共事業であり、**え** 効果をもっています。

この効果をふまえて考えると、この事業は、グラフ中の **お** の時期におこなわれたと考えることができます。

(i) 説明文中の **え** にあてはまる語句を、雇用の語を用いて4字以上8字以内で書きなさい。

(ii) 説明文中の **お** にあてはまる時期を、グラフ中のA～Dの中から一つ選び、その記号を書きなさい。

(問題は、これで終わりです。)

