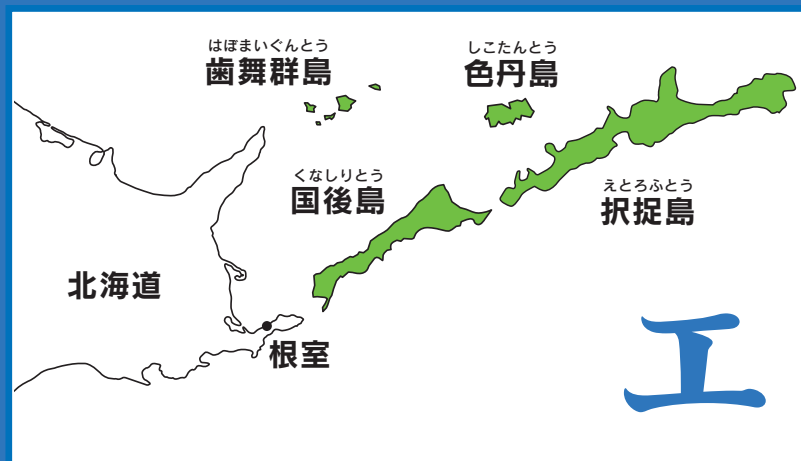
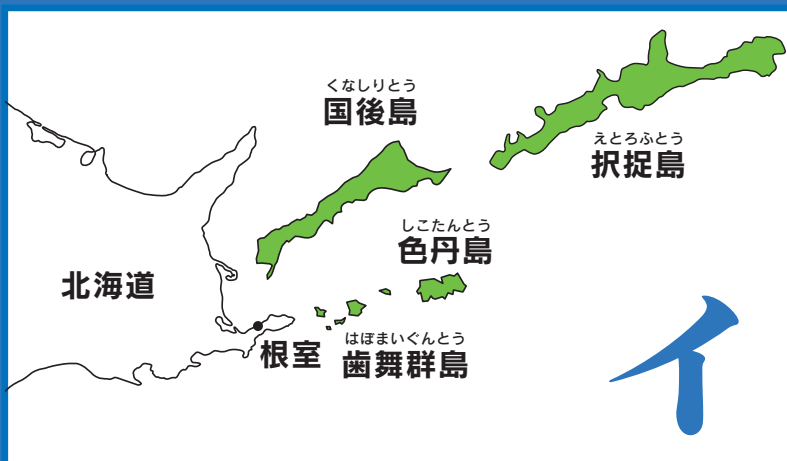
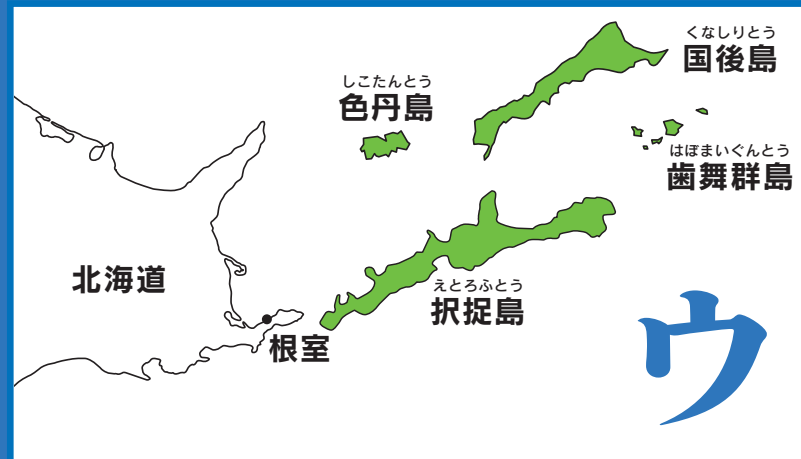
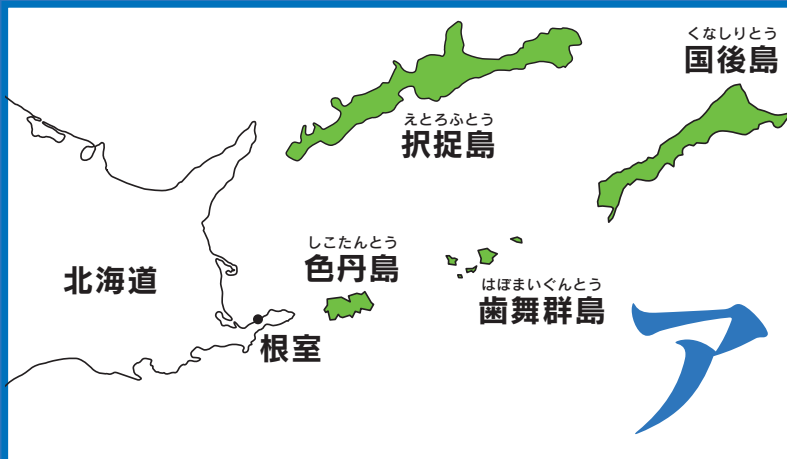


神奈川県内の中高生の 北方領土に関する作文を募集します!

皆さんは北方領土のことを知っていますか?

【地理編】 次のア～エのうち正しい地図はどれでしょう?



【歴史編】 次のA～Cのうち正しい年表はどれでしょう?

A

- 1855年 樺太・千島交換条約で択捉島以南が日本領になる
- 1875年 サンフランシスコ平和条約で得撫島以北の千島列島が日本領になる
- 1951年 日魯通好条約で日本は北方領土を除く千島列島を放棄

B

- 1855年 日魯通好条約で択捉島以南が日本領になる
- 1875年 樺太・千島交換条約で得撫島以北の千島列島が日本領になる
- 1951年 サンフランシスコ平和条約で日本は北方領土を除く千島列島を放棄

C

- 1855年 サンフランシスコ平和条約で択捉島以南が日本領になる
- 1875年 日魯通好条約で得撫島以北の千島列島が日本領になる
- 1951年 樺太・千島交換条約で日本は北方領土を除く千島列島を放棄

県内中高生を対象とした作文コンクールです。
応募締め切りは、2026年9月7日必着です。

上記の問題の正解と作文コンクールの詳細はWEBサイトで!

神奈川県北方領土問題教育者会議

検索



主催：北方領土返還要求運動神奈川県民会議・神奈川県北方領土問題教育者会議
後援：神奈川県・神奈川県教育委員会・独立行政法人北方領土問題対策協会