

□ 年 □ 組 □ 番 名前 □

教材5-(1) グラフの作成

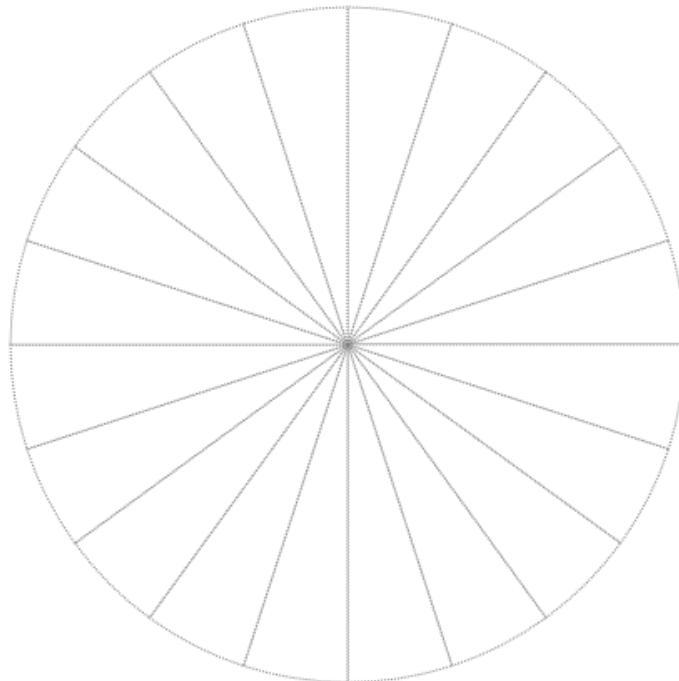
【課題I】世界の人口の割合をグラフに表しましょう。

○世界の人口（『世界国勢図会2012/13』より）

国名	%
中国	19.3%
インド	17.8%
アメリカ合衆国	4.5%
インドネシア	3.5%
ブラジル	2.8%
その他	52.1%

※ 世界人口 69億7404万人

世界の人口の割合



世界人口 69億7404万人

『世界国勢図会2012/13』より

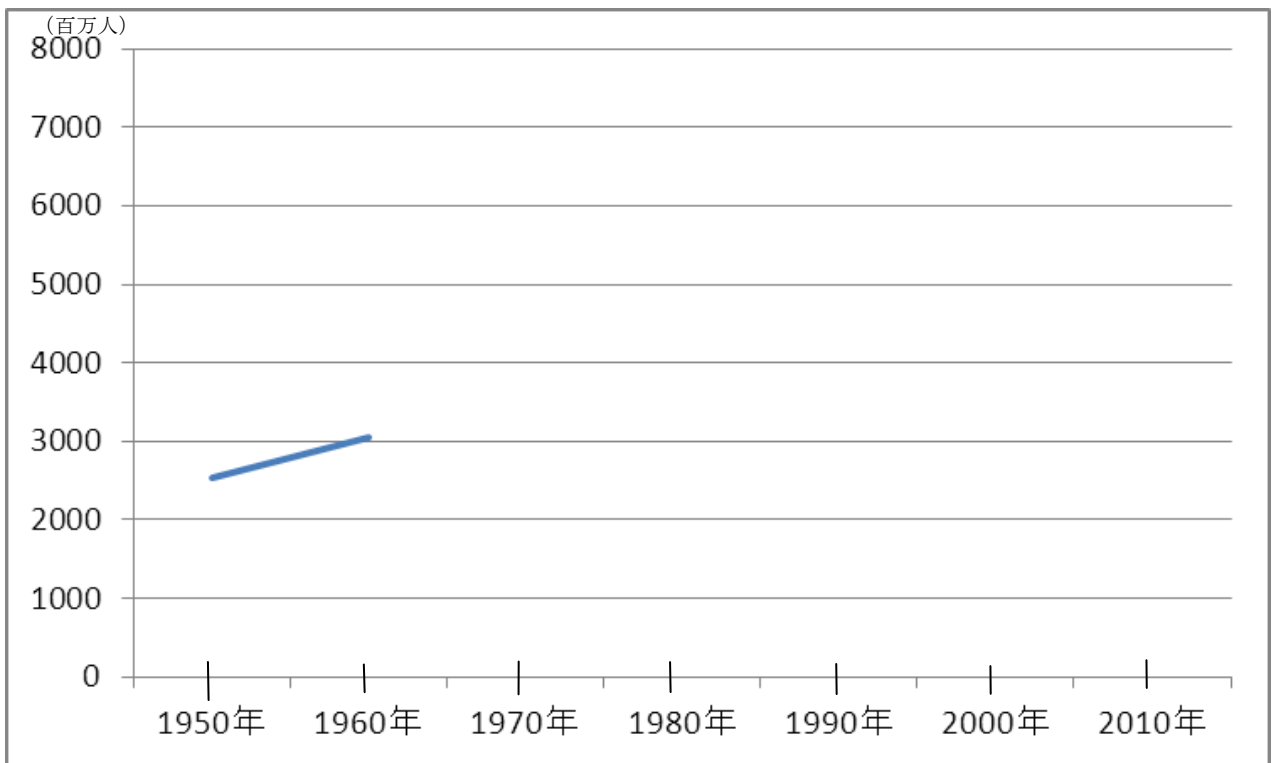
【課題Ⅱ】世界の人口の推移をグラフに表しましょう。

○世界の人口（『世界国勢図会2012/13』より）

年度	1950年	1960年	1970年	1980年	1990年	2000年	2010年
人口	2 532	3 038	3 696	4 453	5 306	6 123	6 896

（単位 百万人）

世界の人口の推移



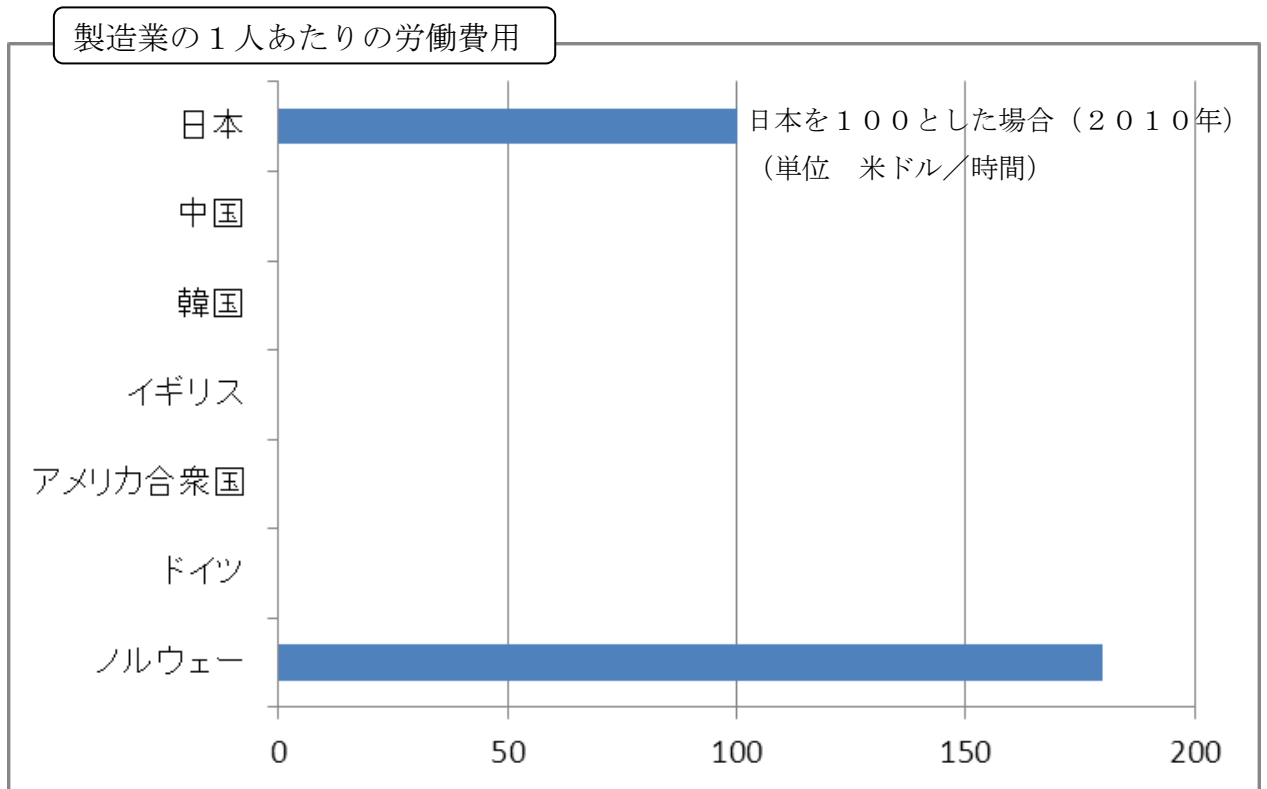
『世界国勢図会2012/13』より

【課題Ⅲ】 製造業の1人あたりの労働費用をグラフに表しましょう。

○製造業の1人あたりの労働費用（『世界国勢図会2012/13』より）

※ 日本を100とした場合（2010年）（単位 米ドル/時間）

国名	
日本	100.0
中国	4.9
韓国 ^{かんこく}	52.0
イギリス	92.0
アメリカ合衆国	108.6
ドイツ	136.8
ノルウェー	179.8



『世界国勢図会2012/13』より