

□ 年 □ 組 □ 番 名前 □

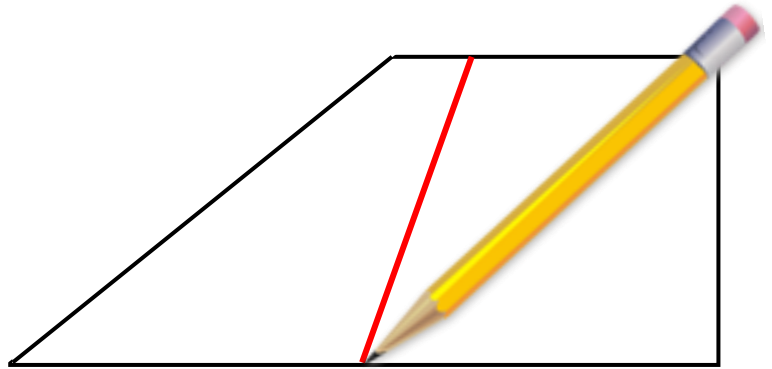
きょうざい
教材 9 - (14) の解答

かいとう
三角形と四角形

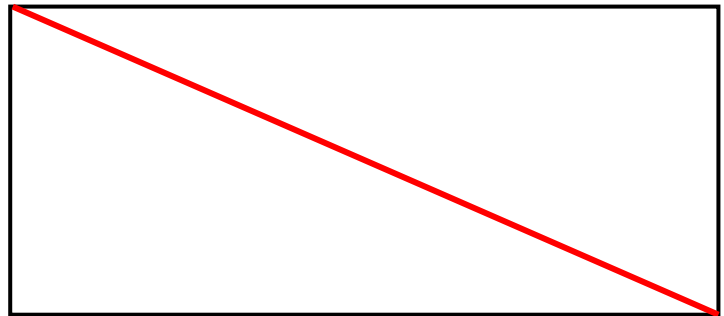


○ 【れい】 のように 1 本の直線をひいて，①～④の形を作りましよう。

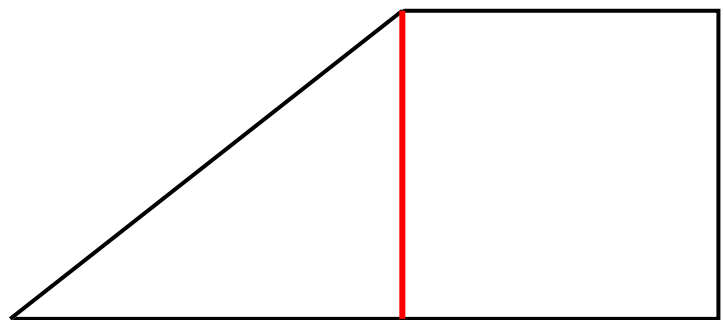
【れい】 2 つの四角形



① 2 つの直角三角形



② 1 つの三角形と 1 つの四角形



③ 4 つの直角三角形

