

年 組 番 名前

きょうざい
教材 8 - (1) かさ・長さ

(1) にあてはまる数は何ですか。

(ア) 1 L = dL

(イ) 1 L = mL

(ウ) 5 L は 1 L の 十分のかさです。



水などのりょうのことを
 をかさといいます。

1 リットルますを
 使ってじっさいに
 はかってみよう

(2) にあてはまる数は何ですか。

(ア) 1 cm = mm

(イ) 50 mm = cm

(ウ) 6 cm 9 mm = mm

6 cm = mm
 mm + 9 mm = ?

(エ) 48 mm = cm mm

48 mm = 40 mm + 8 mm
 40 mm = cm

(オ) 1 m = cm

(カ) 300 cm = m

8 m = cm
 cm + 70 cm = ?

(キ) 8 m 70 cm = cm

2 m = cm
 cm + 10 cm = ?

(ク) 2 m 10 cm = cm

(3) すなばのよこの長さは 4 m 10 cm です。たての長さはよこの
 長さより 1 m 長いです。たての長さは何 m 何 cm ですか。

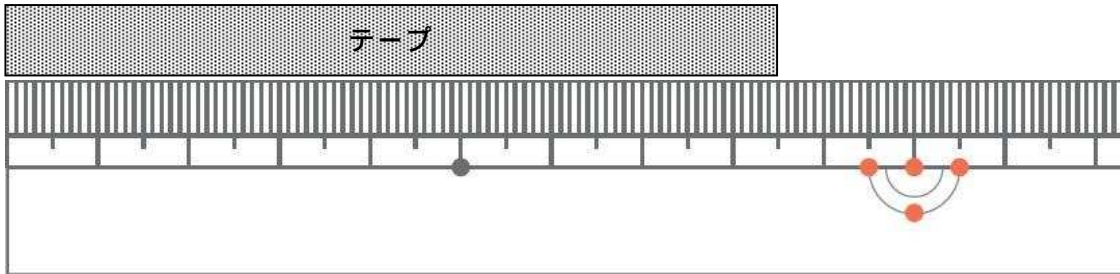
【式】

【答え】

年 組 番 名前

きょうざい
教材 8 - (2) 長さ

(1) テープの長さは、何 cm 何 mm ですか。



【答え】 cm mm

(2) にあてはまる数は何ですか。

(ア) 1 cm = mm

(イ) 1 m = cm

(ウ) 3 cm 5 mm = mm

(3) テープの図を見て答えましょう。



(ア) テープの長さは何 m 何 cm ですか。

【答え】 m cm

(イ) テープの長さは何 cm ですか。

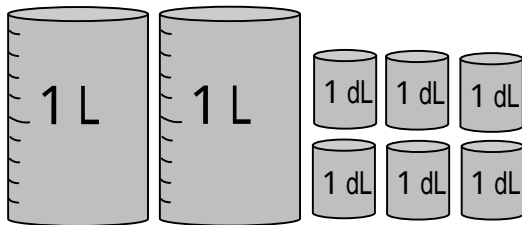
【答え】 cm

年 組 番 名前

きょうざい
教材 8 - (3) かさ

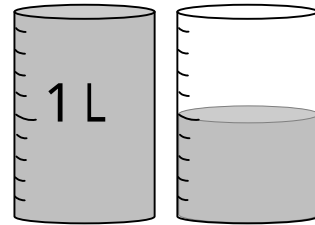
(1) 次の水のかさは何 L 何 dL ですか。

(ア)



【答え】 L d L

(イ)



【答え】 L d L

(2) 次の にあてはまるかさのたんいを，下の からえらんで書きましょう。

(ア) ペットボトルのお茶のかさ

2

(イ) きゅう食に出るぎゅうにゅうのかさ

200

d L m L L

(3) にあてはまる数は何ですか。

(ア) 1 L = d L

(イ) 1 L = m L

(ウ) 5 L は 1 L の 分のかさです。



水などのりょうのことをかさといいます。

1 リットルますを つか 使ってじっさいにはかってみよう

年 組 番 名前

きょうざい
教材 8 - (4) かさ・長さ

次のいれもののかさは、どのたんいであらわすとよいでしょう。

下の からえらんで書きましょう。

(ア) 赤ちゃんがミルクをのむときにつかう



ほにゅうびん 1 本分のかさ

【答え】 2 4 0

(イ) かだんの花に水をあげるときの大きいじょうろ

いっぱいに入れた水のかさ

【答え】 4



m L

d L

L