

年 組 番 名前


きょうざい 教材 6 - (2) の解答 かいとう

分数

1つのものを同じ大きさに2つに分けた1つぶんを、もとの大きさの二分の一といい、 $\frac{1}{2}$ と書きます。

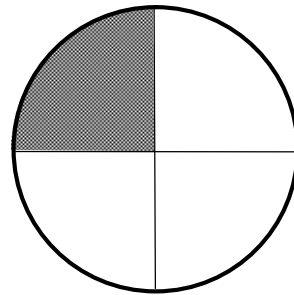
(1) 色のついたところは、もとの大きさの何分の一でしょうか。分数で書きましょう。

(ア)



【答え】

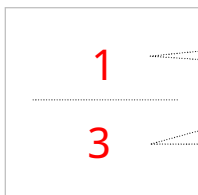
(イ)



【答え】


一つのものを同じ大きさに3つに分けたうちの1つ分のこと

一つのものを同じ大きさに(4)つに分けたうちの(1)つ分のこと



(1) 分

(3) つに分けたうちの



1 分


4 つに分けたうちの

(2) 次の大きさに色をぬりましょう。

(ア)

$$\frac{1}{5}$$

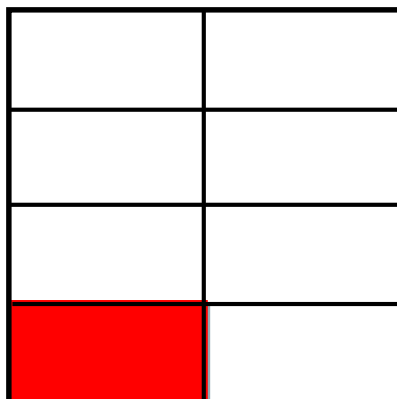
(例)



(イ)

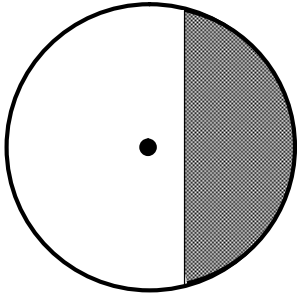
$$\frac{1}{8}$$

(例)




(3) 次の図で、色のついたところがもとの大きさの $\frac{1}{2}$ の大きさになっているものをすべて見つけましょう。

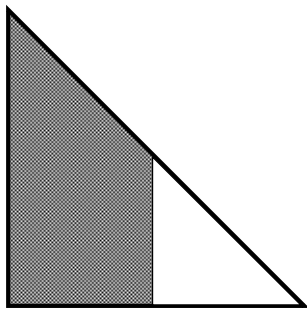
(ア)



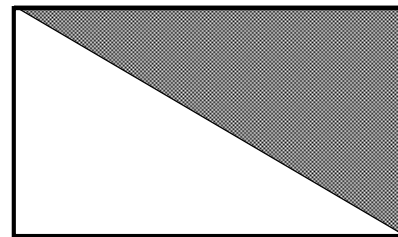
(イ)



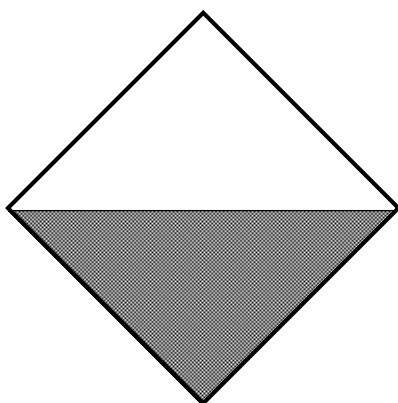
(ウ)



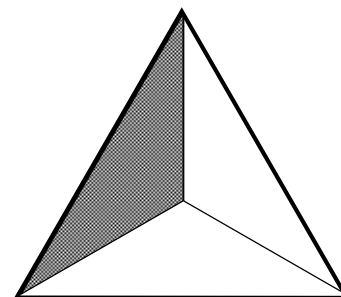
(エ)



(オ)



(カ)



【答え】

(エ)(オ)