

年 組 番 名前


きょうざい
教材 6 - (2)

分数

1つのものを同じ大きさに2つに分けた1つぶんを、
 もとの大きさの二分の一といい、 $\frac{1}{2}$ と書きます。

(1) 色のついたところは、もとの大きさの何分の一でしょうか。分数で書きましょう。

(ア)

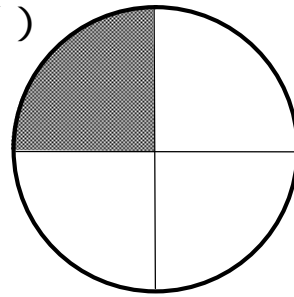


一つのものを
 同じ大きさに
 3つに分けた
 うちの
 1つ分のこと

【答え】

() 分
 () につ
 分けたうちの

(イ)



一つのものを
 同じ大きさに
 () につに分けた
 うちの
 () 分のこと

【答え】

(2) 次の大きさに色をぬりましょう。

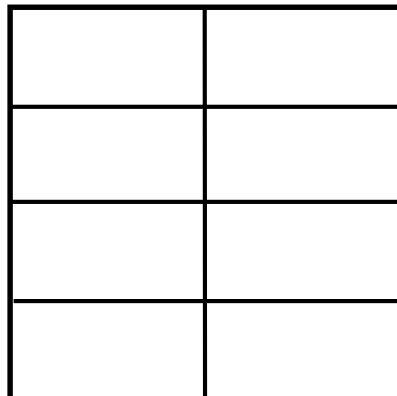
(ア)

$$\frac{1}{5}$$



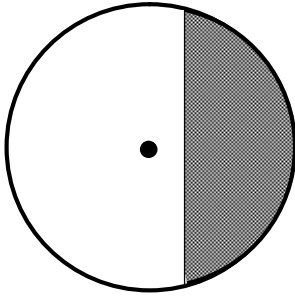
(イ)

$$\frac{1}{8}$$




(3) 次の図で、色のついたところがもとの大きさの $\frac{1}{2}$ の大きさになっているものをすべて見つけましょう。

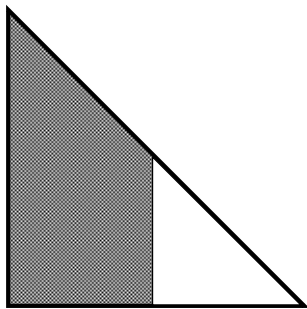
(ア)



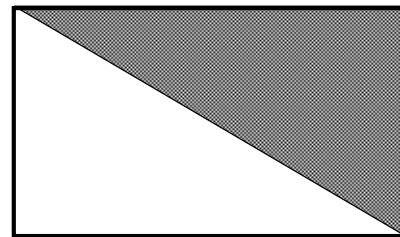
(イ)



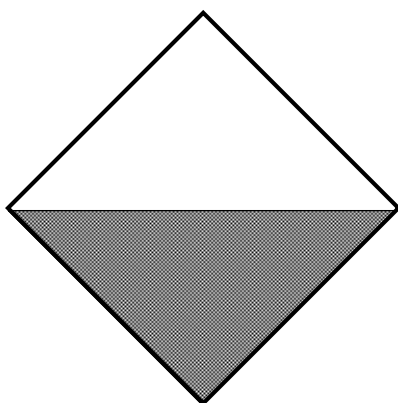
(ウ)



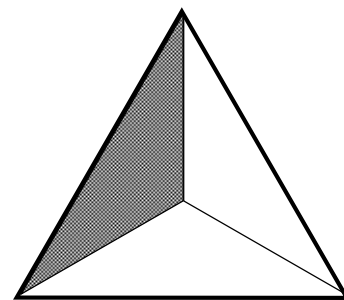
(エ)



(オ)



(カ)



【答え】