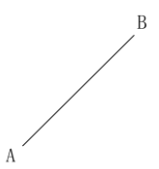


教材3-F 垂直二等分線

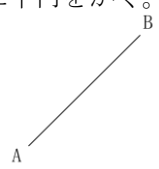
⑥ 『線分ABの垂直二等分線を作図しなさい。』の解決のために

垂直二等分線のかき方

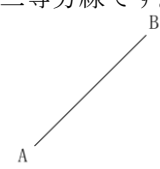
ABの長さにコンパスを開き、Aを中心
に半円をかく。



同じ長さを開いたコンパスを用いて、Bを中心
に半円をかく。



2つの半円の交点を結んだ線が、線分ABの
垂直二等分線です。



たしかめよう

① 点Pから直線 l に対する垂線を作図しなさい。

• P

l _____

② $\angle XOY$ の二等分線を作図しなさい。

