

年

組 名前

**教材3-E-(1)**とうえいず  
**投影図**

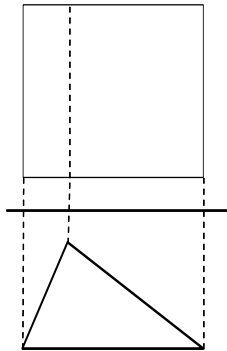
⑤ 『投影図』の解決のために

(立面図)		○ 立面図は <input type="text"/> から見た図で <input type="text"/>
(平面図)		○ 平面図は <input type="text"/> から見た図で <input type="text"/>
		○ この投影図は、直方体、三角すい、三角柱、四角すいのどれでしょうか。 <input type="text"/>

**たしかめよう**

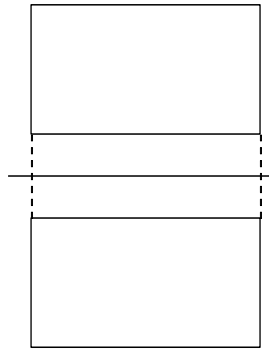
次の投影図で示された立体の名称は直方体、三角すい、三角柱、円すい、球のうち、どれでしょうか。

①

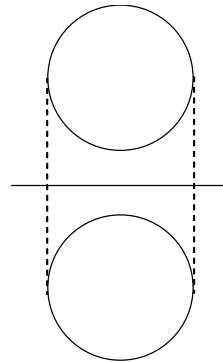


名称

②



③



年

組 名前