

教材 6 - (2) の解答

神奈川県かながわけんの位置 神奈川県の様子①

(1) 【略地図 1】は、神奈川県とまわりの県を表したものです。次の (ア) ~ (ウ) が示す都道府県の位置を【略地図】の①~⑩から1つ選んで、その記号を書きましょう。また、都道府県名も書きましょう。

【略地図 1】



(ア) 神奈川県の西側に接し、海に面している都道府県

記号	都道府県名
③	静岡県 <small>しずおかけん</small>

(イ) 神奈川県の西側に接し、海に面していない都道府県


記号	都道府県名
⑤	山梨県 <small>やまなしけん</small>

(ウ) 神奈川県の北東側に接している都道府県

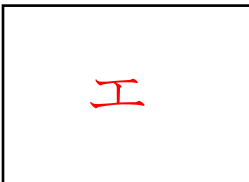
記号	都道府県名
④	東京都 <small>とうきょうと</small>

(2) 神奈川県の様子を調べました。次の写真にもっとも関係の深い地いきを【略地図 2】のア~エから1つ選んで、その記号を書きましょう。

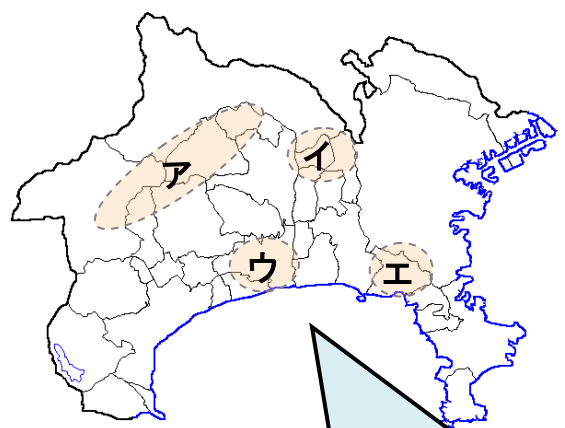
- ① この地いきは、高い山が多く、くらしや産業に必要な水が不足することを防ぐダムもつくられています。



- ② この地いきは、歴史のあるお寺や神社が多く、有名な観光地です。世界遺産への登録をめざしています。



【略地図 2】



さらに学習を深めよう

- 「わたしたちの神奈川県」を利用して、110ページの白地図にまとめてみよう。