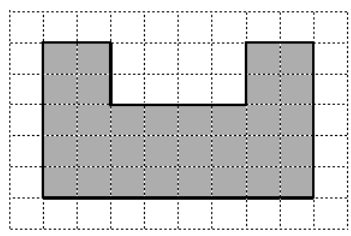


教材 3-C-(5) 長方形の面積


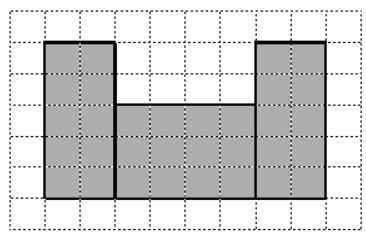
① 『まことさんとはちがう求め方を2通り考えて、【図】と【式】に表しましょう。』
 の解決のために



右のような図形の面積 (32 cm^2) の求め方を4通り考えて、【図】に線をかきました。
 【図】にあてはまる【式】を考えて、かきましよう。また、考え方を説明しましょう。

【図】

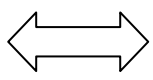
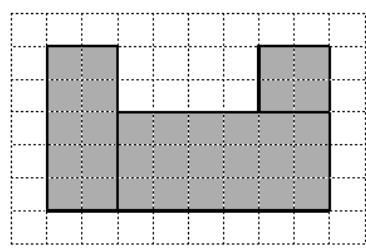
ア



【式】

【考え方】

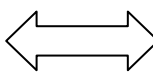
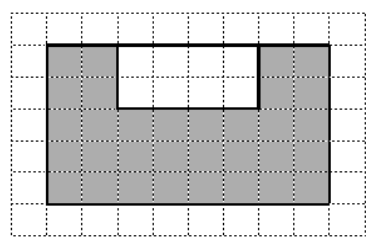
イ



【式】

【考え方】

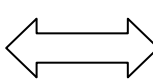
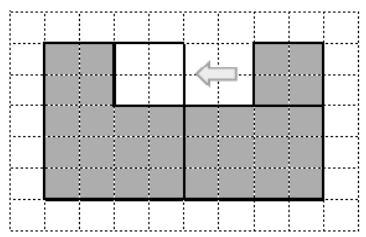
ウ



【式】

【考え方】

エ

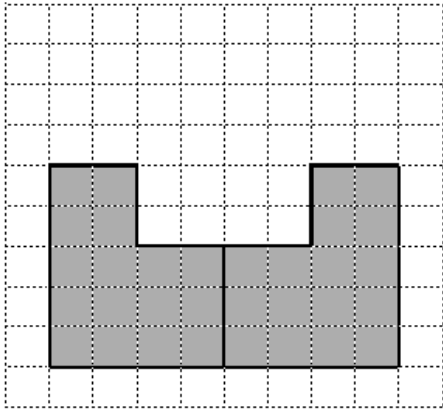


【式】

【考え方】

チャレンジ

【図】



はるかさんは、次のように【図】に線をひいて、2つの図形に分けました。

そして、この2つの図形を組み合わせて、1つの長方形にして面積を求めました。

はるかさんが、組み合わせたてつくった長方形を右の【図】にかき加え、その【式】をかきなさい。

また、考え方を説明しましょう。

【式】

【考え方】