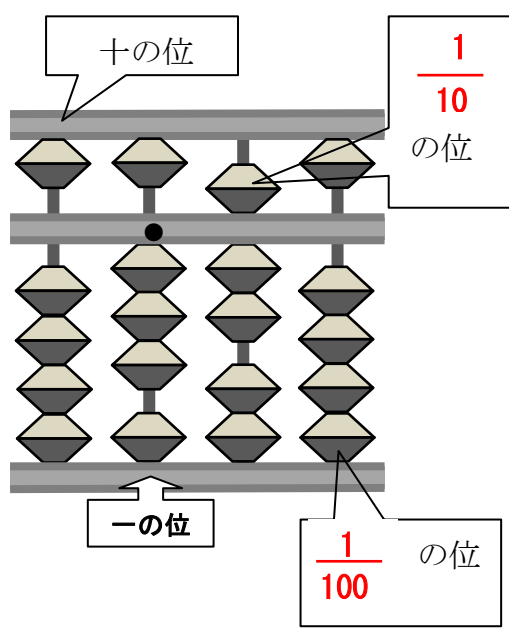


教材 2-D-(3) の解答 そろばん

④ 『(5) そろばんを使って、3. 7 + 1. 4 の計算をします。』の解決のために

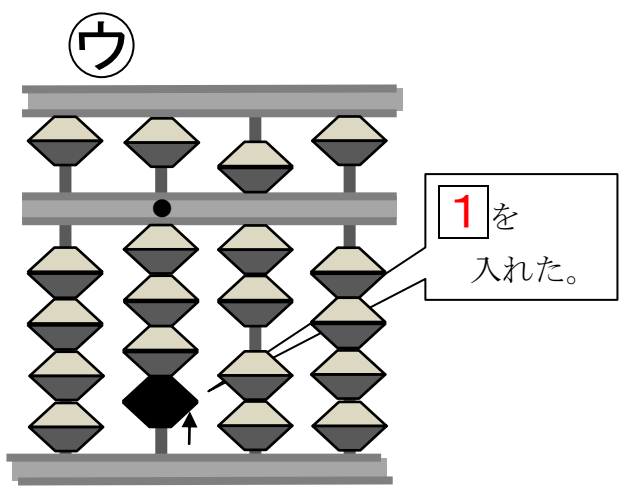
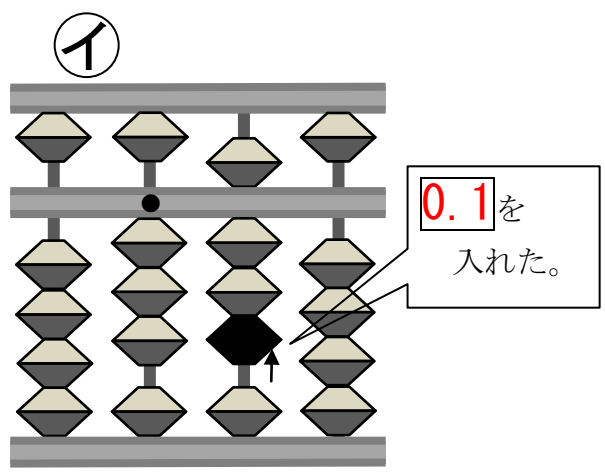
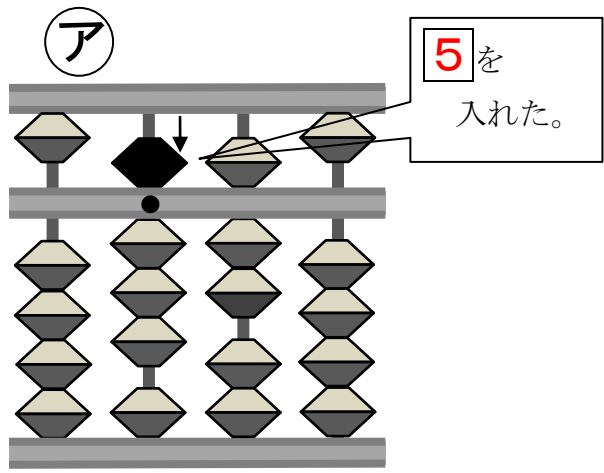


吹き出しが示しているのは何の位ですか？
吹き出しの中に書きましょう。

3. 7 という数は

1 が	3	つ
0.5 が	1	つ
0.1 が	2	つ

② 『1. 4 の 1 だけをたします。』に対して行った、ア～ウの手順を確かめましょう。それぞれの手順で入れた数を□に書きましょう。



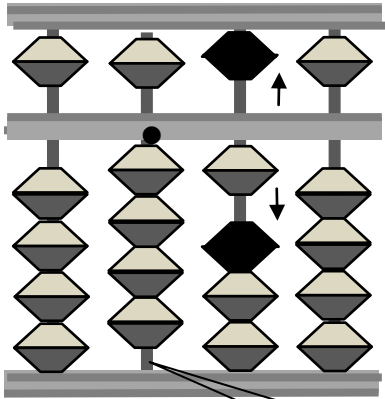
問題文
『1. 4 の 1 だけをたします。』の条件にあっているのは、ア～ウのどれですか。

答 ウ

たしかめよう

① 1. 4 ののこり 0. 4 をたす計算の手順を考えましょう。

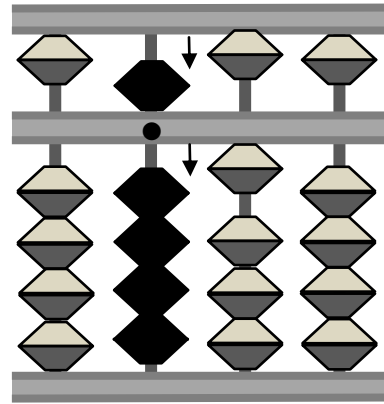
0. 4 をたすには



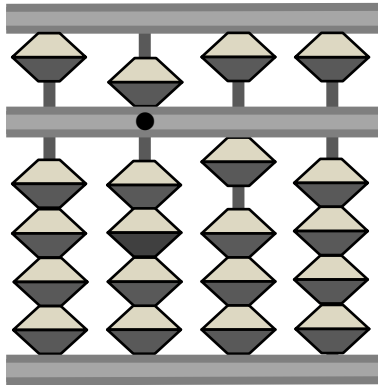
0. 6 をはらって
1 を入れる。

でも 1 が入ら
ない！

そこで 1 をたすには



4 をはらって
5 を入れる。



答えは 5. 1 になります。