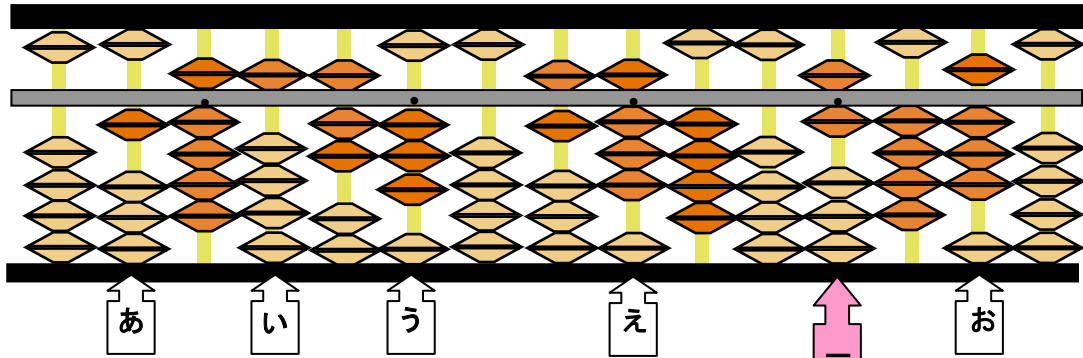


教材2-D-(2)の解答 そろばん

④ 『そろばんに入れた数はいくつでしょう。』の解決のために

下の図のように一の位を決めました。



(1) 百万の位は、い～えのどこでしょう。

う

(2) あとお は、何の位でしょう。

あ 100億の位

お $\frac{1}{100}$ の位

(3) 上のそろばんに入れた数をよみましょう。

195億7306万8406.48

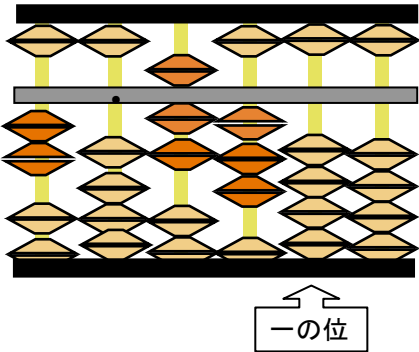
たしかめよう

一の位をもとにして、何の位か考えよう。

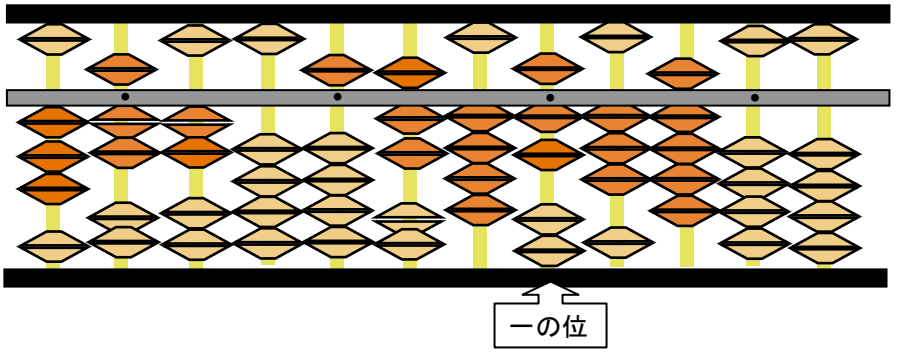
(1) 下のそろばんに入れた数をよみましょう。

①

②



2万730



3720万5747.39