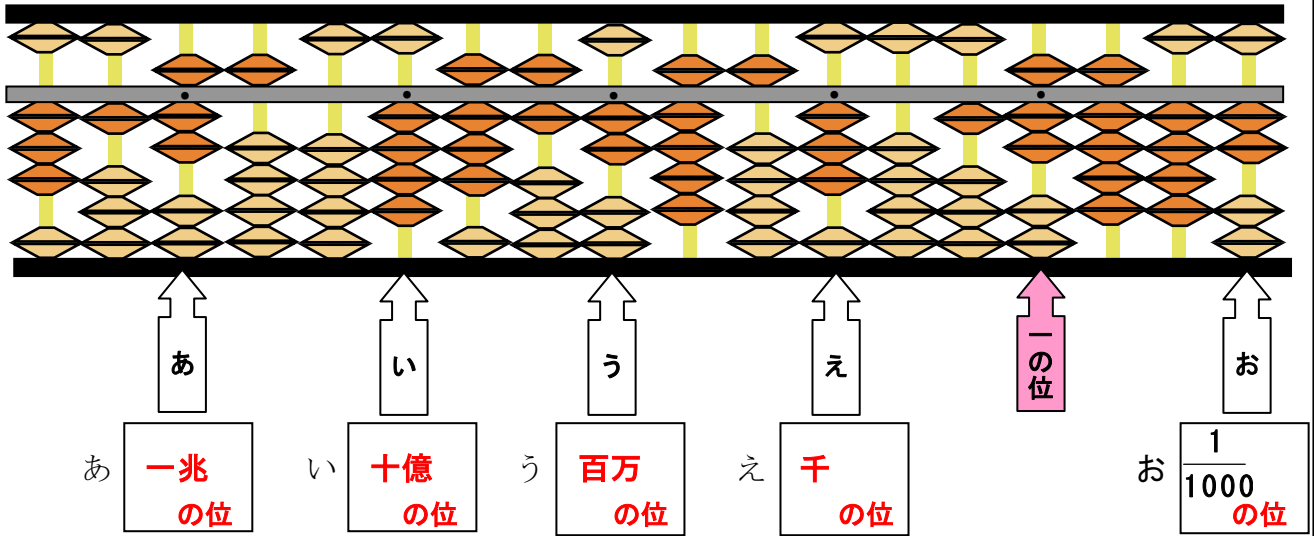


教材2-D-(1)の解答 そろばん

④ 『そろばんに入れた数はいくつでしょう。』の解決のために

(1) 下の図のように一の位を決めました。(あ～お)は何の位でしょう。



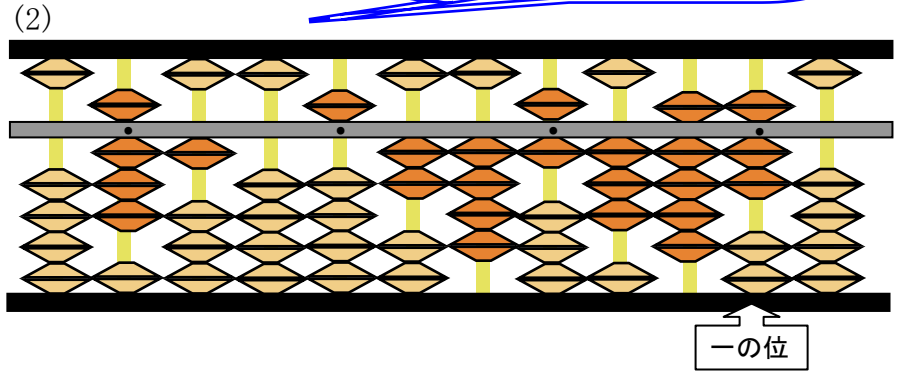
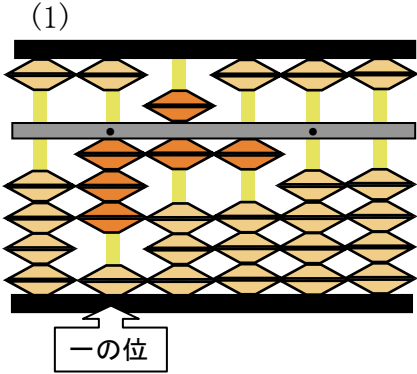
(2) 上のそろばんに入れた数をよみましょう。

317兆5038億6295万3017.942

たしかめよう

教科書にそろばんの数の表し方が書いてあるよ。

① 下のそろばんに入れた数をよみましょう。



② そろばんて計算しましょう。

(1) $79 - 56 =$ **23**

(2) $452 + 237 =$ **689**

(3) $1.24 + 0.67 =$ **1.91**

(4) $0.7 - 0.28 =$ **0.42**