



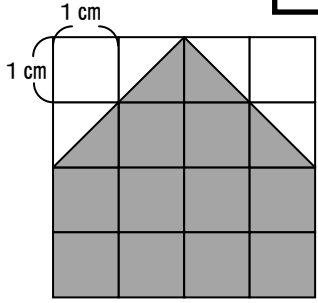


教材3-B-(1) 図形の面積

② 『図形の色をついた部分の面積は何cm²でしょうか』の解決のために

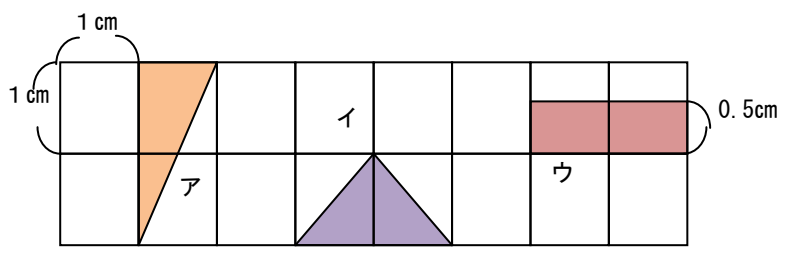
(1)  が1こで何cm²ですか。また  は何こありますか。
 □ cm² □ こ

(2)  は何こで1 cm²ですか。また  は何こありますか。
 □ こ □ こ



たしかめよう

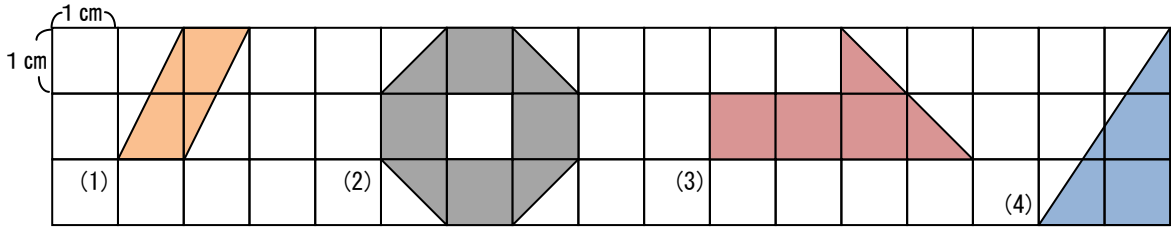
① ア, イ, ウの面積は、それぞれ1 cm²です。そのわけを説明しましょう。




ア	
イ	
ウ	

年 組 番 名前

② 次の図の面積は、それぞれ何 cm^2 でしょうか。




(1)




cm^2

(2)




cm^2

(3)



cm^2

(4)



cm^2