

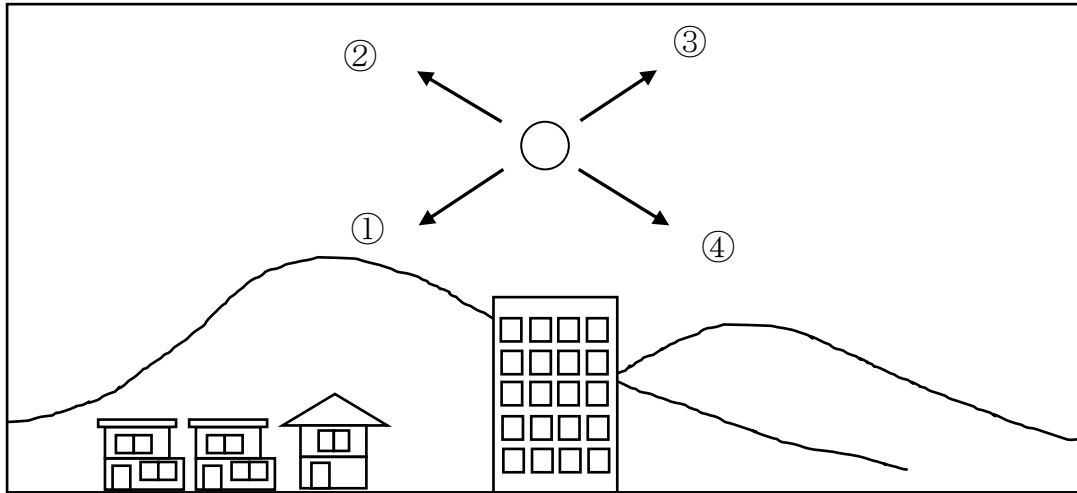
年 組 番 名前

教材 6 - (5) 星と月

(1) 次の【カード1】は、ある日の午後7時の満月の位置を観察したものです。

(ア) 午後9時には、月ほどの位置に見えるでしょうか。

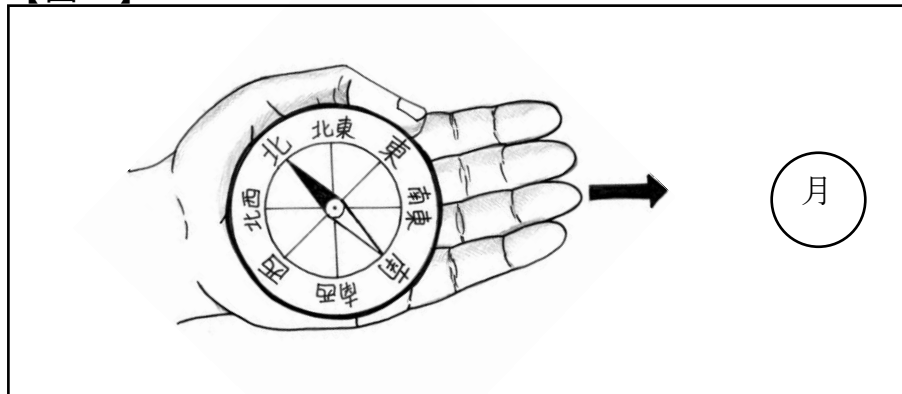
【カード1】



位置

(イ) この時の月の方位を調べると、【図1】のように、矢印の方向に月が見えました。月の位置は、どの方位になるでしょうか。

【図1】




方位

年 組 番 名前

(2) 次の【カード2】は、オリオンぎの観察をおこなったものです。

【カード2】



(ア) オリオンぎの位置と形について、()にあてはまる言葉を下のから選んで書きましょう。

2時間後、オリオンぎの見える位置は()。

2時間後、オリオンぎの形は()。

変わる 変わらない

(イ) オリオンぎをつくる星について、()にあてはまる言葉を下のから選んで書きましょう。

オリオンぎをつくる星の明るさは()。

オリオンぎをつくる星の色は()。

それぞれちがう すべて同じ