

年

組

番

名前

教材 6 - (3) の解答**星と月**

(1) 星座早見を使って、南の空の星座をさがします。この時、南に向かって立ち、星座早見はどの向きで南の空にかざせばよいですか。①～④の中から正しいものを1つ選び、その番号を書きましょう。

①

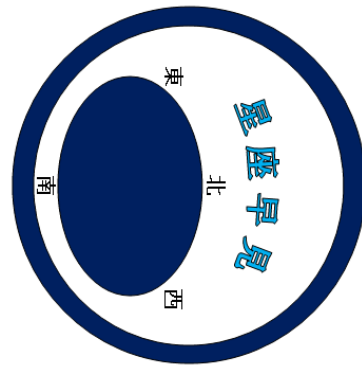
上



下

②

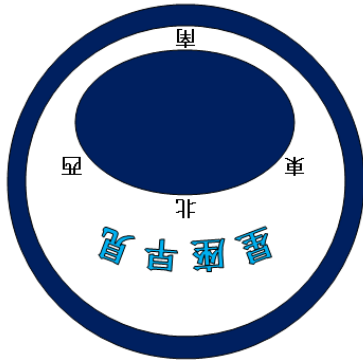
上



下

③

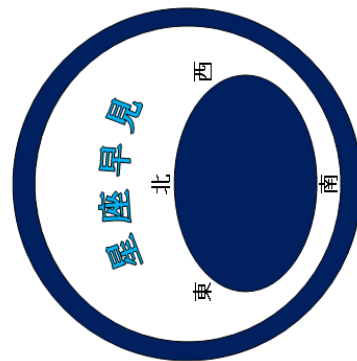
上



下

④

上



下

①

ポイント

星座早見の持ち方は、見ようとする方位を下にして、上にかざして実際の星とくらべましょう。