

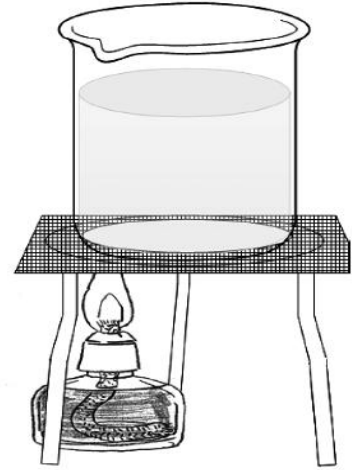
□年 □組 □番 名前

教材 5 - (7)

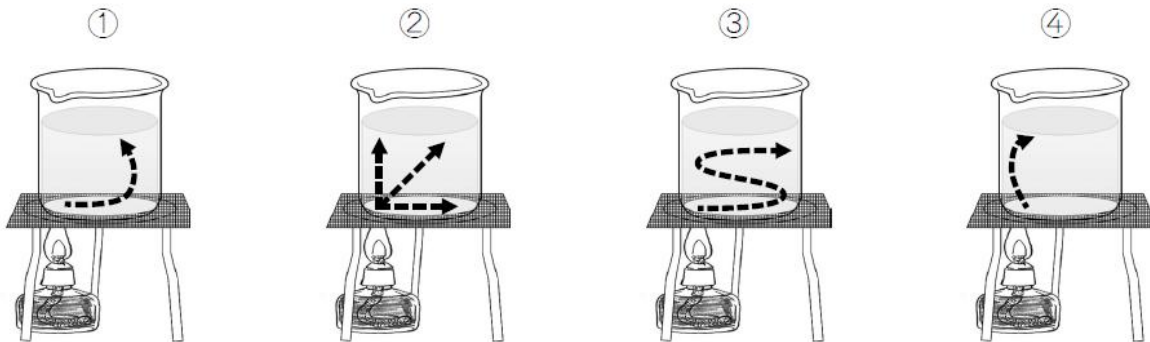
金属、水、空気と温度

- (1) 【図1】のように、ビーカーに入っている水をアルコールランプで熱しました。あたたまっていた水は、どのように移動しますか。
次の①～④の中から最もあてはまるものを1つ選び、その番号を書きましょう。

【図1】

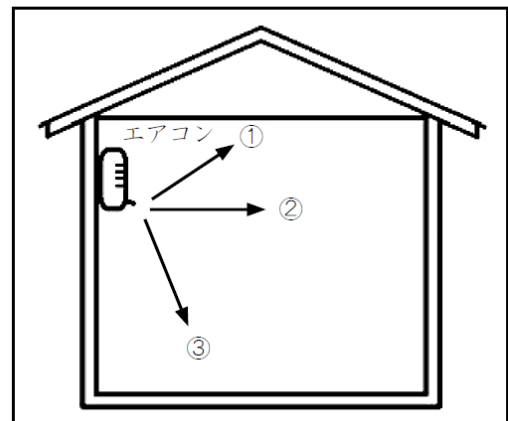


【答え】



- (2) 次の【図2】のように、エアコンディショナー（エアコン）でへや全体をはやくあたためます。なるべくはやくあたためるには、どの風向きにするとよいでしょうか。①～③の中から最もあてはまるものを1つ選び、その番号を書きましょう。

【図2】



【答え】

年 組 番 名前

(3) 【図3】のように、やかんに水を入れ、ふっとうさせました。すいじょう気はどれですか。次の①～④の中から**すべて選び**、その番号を書きましょう。

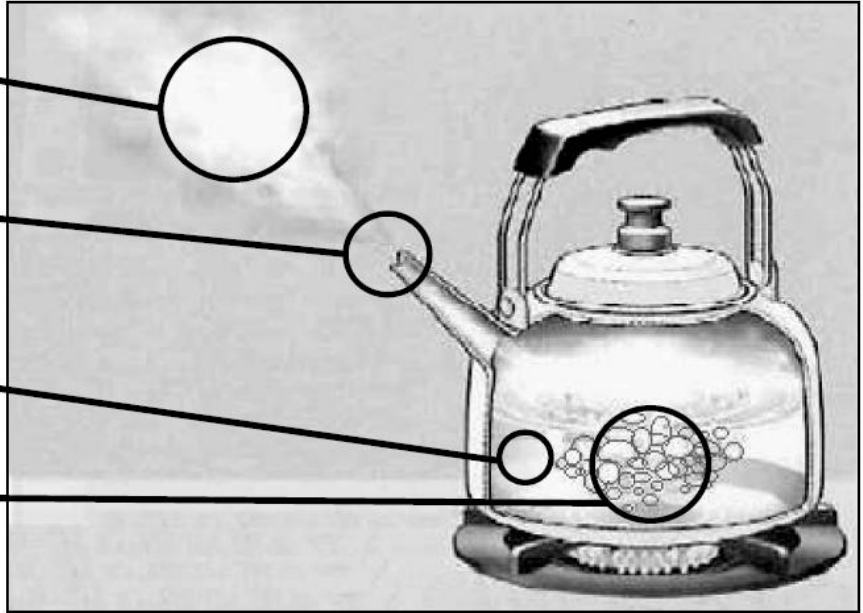
【図3】

① 白っぽい部分

② 見えない部分

③ 水

④ あわ



【答え】