

令和6年度

神奈川県公立高等学校入学者選抜学力検査問題

共通選抜 全日制の課程

## V 社 会

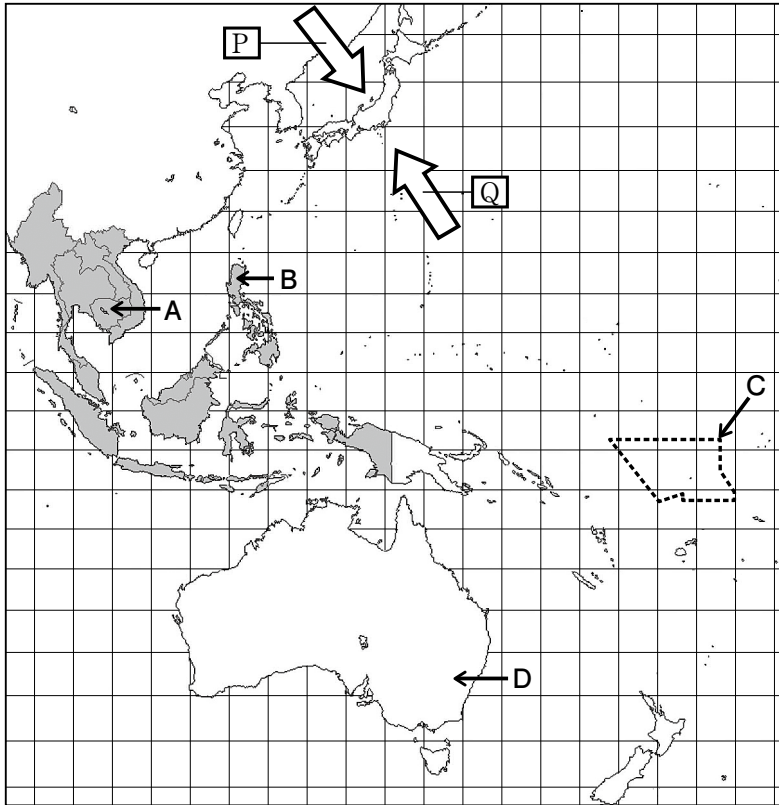
### 注 意 事 項

- 1 開始の合図があるまで、この問題冊子を開いてはいけません。
- 2 問題は 問7 まであり、1 ページから 14 ページに印刷されています。
- 3 解答用紙の決められた欄に解答しなさい。
- 4 マークシート方式により解答する場合は、選んだ番号の ○ の中を塗りつぶしなさい。
- 5 終了の合図があったら、すぐに解答をやめなさい。

|         |  |  |  |  |  |  |  |   |
|---------|--|--|--|--|--|--|--|---|
| 受 検 番 号 |  |  |  |  |  |  |  | 番 |
|---------|--|--|--|--|--|--|--|---|

問1 Kさんは、次の略地図中にある国々について調べ、メモを作成した。これらについて、あとの各問いに答えなさい。なお、略地図中の緯線は赤道から、経線は本初子午線からそれぞれ5度ごとに引いたものである。

略地図



メモ

- 日本には、あ の矢印で表された風の影響で、夏には暖かく湿った大気が運ばれます。また、日本の近海には、水深が8,000mをこえるいがあります。
- で示されたA, Bなどの国は、①ASEAN加盟国（2023年末現在）を示しています。
- Bの国では、②植民地支配にともなって布教された宗教の信者が多数を占めています。
- Cの点線で領域が示された国は、三大洋の一つであるうにあります。
- Dの国は、オセアニア州に属しています。近年、③オセアニア州の国々は、アジア州の国々との結び付きを強めています。

(ア) あ ~ う にあてはまる語句の組み合わせとして最も適するものを、次の中から一つ選び、その番号を答えなさい。

- |   |       |       |   |       |       |
|---|-------|-------|---|-------|-------|
| 1. あ： <span style="border: 1px solid black; padding: 2px;">P</span> | い：海溝  | う：太平洋 | 2. あ： <span style="border: 1px solid black; padding: 2px;">P</span> | い：海溝  | う：大西洋 |
| 3. あ： <span style="border: 1px solid black; padding: 2px;">P</span> | い：大陸棚 | う：太平洋 | 4. あ： <span style="border: 1px solid black; padding: 2px;">P</span> | い：大陸棚 | う：大西洋 |
| 5. あ： <span style="border: 1px solid black; padding: 2px;">Q</span> | い：海溝  | う：太平洋 | 6. あ： <span style="border: 1px solid black; padding: 2px;">Q</span> | い：海溝  | う：大西洋 |
| 7. あ： <span style="border: 1px solid black; padding: 2px;">Q</span> | い：大陸棚 | う：太平洋 | 8. あ： <span style="border: 1px solid black; padding: 2px;">Q</span> | い：大陸棚 | う：大西洋 |

(イ) 一線①を完全に含む緯度の範囲をX, Yから、略地図中のAの国と日本との時差をa~dから、最も適するものをそれぞれ一つずつ選んだときの組み合わせを、あとの1~8の中から一つ選び、その番号を答えなさい。ただし、サマータイムは考えないものとする。

|        |                  |                  |                  |
|--------|------------------|------------------|------------------|
| 緯度の範囲  | X 北緯30度から南緯15度まで | Y 北緯15度から南緯30度まで |                  |
| 日本との時差 | a 1時間            | b 2時間            | c 4時間      d 6時間 |

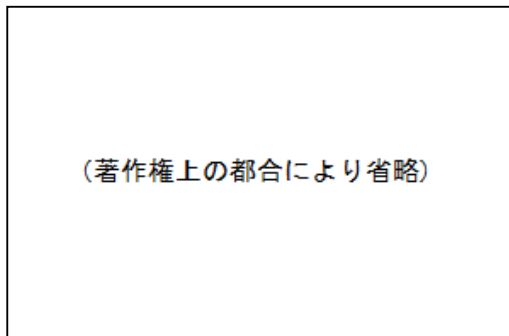
- |        |        |        |        |
|--------|--------|--------|--------|
| 1. Xとa | 2. Xとb | 3. Xとc | 4. Xとd |
| 5. Yとa | 6. Yとb | 7. Yとc | 8. Yとd |

(ウ) ー線②について述べた文として最も適するものを、次の中から一つ選び、その番号を答えなさい。

1. シャカがひらいた宗教で、中国や朝鮮半島、日本に伝わった。
2. 教典の「コーラン」にもとづく、日常生活に関わる細かい決まりがある。
3. スペイン語やポルトガル語を公用語とする南北アメリカ州の国で、信者が多い。
4. 牛が神聖な動物であると考えられており、牛肉を食べない人が多い。

(エ) 右の写真は、Cの点線で領域が示された国の様子を  
示したものである。この国について述べた文として最  
も適するものを、次の中から一つ選び、その番号を答  
えなさい。

写真



(毎日新聞ウェブサイト掲載資料より引用)

1. 国土がさんご礁でできているため標高が低く平坦で、波による海岸の侵食が進んでいる。
2. フィヨルドとよばれる地形がみられ、削られた谷に海水が深く入り込んでいる。
3. 夏に永久凍土が解けることで、湖ができたり建物が傾いたりするなどの問題がおこっている。
4. 梅雨による大雨の影響で、土砂くずれによる被害がもたらされることがある。

(オ) 次の資料X、Yとできごと a～c から、ー線③を示す例として最も適するものをそれぞれ一つずつ選んだときの組み合わせを、あとの1～6の中から一つ選び、その番号を答えなさい。

|       |  |       |   |       |
|-------|--|-------|---|-------|
| 資 料   | X 世界の面積と人口の地域別割合 (2020年)   |       |   |       |
|       | <table border="1" style="width: 100%;"> <tr> <td style="text-align: center;">面積</td> <td>アジア 23.9%, アフリカ 22.8%, ヨーロッパ 17.0%,<br/>北アメリカ 16.4%, 南アメリカ 13.4%, オセアニア 6.5%</td> </tr> <tr> <td style="text-align: center;">人口</td> <td>アジア 59.5%, アフリカ 17.2%, ヨーロッパ 9.6%,<br/>北アメリカ 7.6%, 南アメリカ 5.5%, オセアニア 0.5%</td> </tr> </table> <p style="text-align: center;">(『データブック オブ・ザ・ワールド 2022年版』をもとに作成)</p> | 面積    | アジア 23.9%, アフリカ 22.8%, ヨーロッパ 17.0%,<br>北アメリカ 16.4%, 南アメリカ 13.4%, オセアニア 6.5% | 人口    |
| 面積    | アジア 23.9%, アフリカ 22.8%, ヨーロッパ 17.0%,<br>北アメリカ 16.4%, 南アメリカ 13.4%, オセアニア 6.5%  |       |   |       |
| 人口    | アジア 59.5%, アフリカ 17.2%, ヨーロッパ 9.6%,<br>北アメリカ 7.6%, 南アメリカ 5.5%, オセアニア 0.5%   |       |   |       |
| 資 料   | Y オーストラリアの相手先別貿易額の割合   |       |   |       |
|       | <table border="1" style="width: 100%;"> <tr> <td style="text-align: center;">1965年</td> <td>イギリス 22.9%, アメリカ合衆国 18.1%, 日本 13.0%,<br/>西ドイツ 4.6%, ニュージーランド 3.7%, その他 37.7%</td> </tr> <tr> <td style="text-align: center;">2022年</td> <td>中華人民共和国 28.2%, 日本 13.6%, 大韓民国 7.7%,<br/>アメリカ合衆国 6.3%, 台湾 3.9%, その他 40.3%</td> </tr> </table> <p style="text-align: center;">(国際通貨基金ウェブサイト掲載資料をもとに作成)</p>     | 1965年 | イギリス 22.9%, アメリカ合衆国 18.1%, 日本 13.0%,<br>西ドイツ 4.6%, ニュージーランド 3.7%, その他 37.7% | 2022年 |
| 1965年 | イギリス 22.9%, アメリカ合衆国 18.1%, 日本 13.0%,<br>西ドイツ 4.6%, ニュージーランド 3.7%, その他 37.7%  |       |   |       |
| 2022年 | 中華人民共和国 28.2%, 日本 13.6%, 大韓民国 7.7%,<br>アメリカ合衆国 6.3%, 台湾 3.9%, その他 40.3%  |       |   |       |
| できごと  | <p>a オーストラリアが、APECの結成を主導した。</p> <p>b オーストラリアで、白豪主義とよばれる政策がとられた。</p> <p>c オーストラリアで、土地に関する権利がアボリジニに認められた。</p>  |       |   |       |

1. Xとa
2. Xとb
3. Xとc
4. Yとa
5. Yとb
6. Yとc

問2 Kさんは、茨城県つくば市について調べ、次のレポートを作成した。これについて、あとの各問いに答えなさい。

レポート

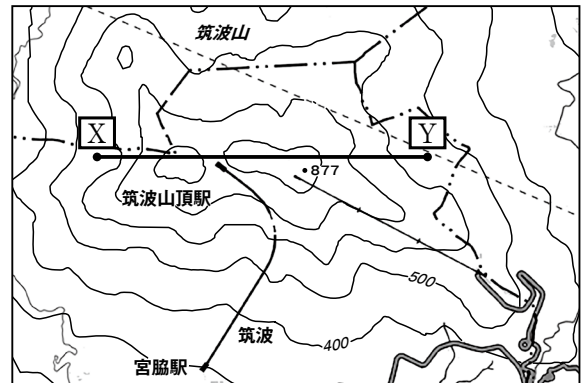
1 ①つくば市の地形

つくば市の大部分は、火山灰が堆積してできた赤土の **あ** に覆われています。

2 筑波山について

右の地形図は、つくば市の北部にある筑波山の山頂付近を示したものです。等高線の間隔から、筑波山の傾斜を読み取ることができます。

地形図 ※等高線は100mごとに引いています。



(「地理院地図 (国土地理院作成)」一部改変)

今後の学習の見通し

右の年表は、つくば市のできごとをまとめたものです。②つくば市が発展してきた経緯について、人口の推移と関連付けながら、考えたいと思います。

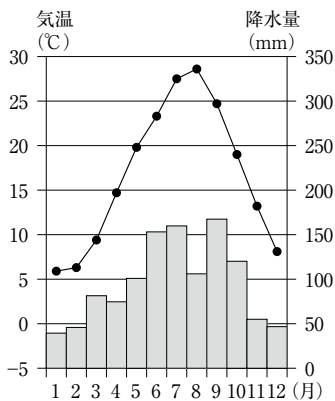
年表

| 年    | できごと                      |
|------|---------------------------|
| 1963 | ③筑波研究学園都市の建設が決定した。        |
| 1987 | 四つの町村が合併し、つくば市が誕生した。      |
| 2005 | つくば市と東京都千代田区を結ぶ鉄道路線が開業した。 |

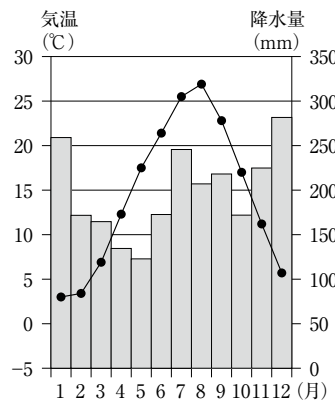
(つくば市ウェブサイト掲載資料をもとに作成)

(ア) 線①について、次のグラフP～Rは、つくば市、富山市、高松市の気温と降水量を示したものである。グラフと都市の組み合わせとして最も適するものを、あとの1～6の中から一つ選び、その番号を答えなさい。

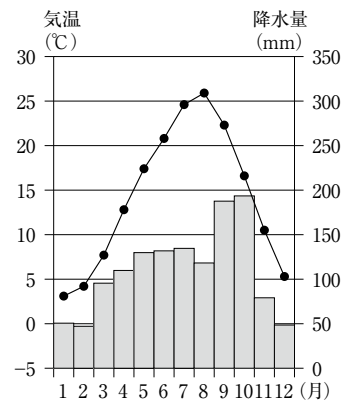
P 年降水量 1150.1mm



Q 年降水量 2374.2mm



R 年降水量 1326.0mm



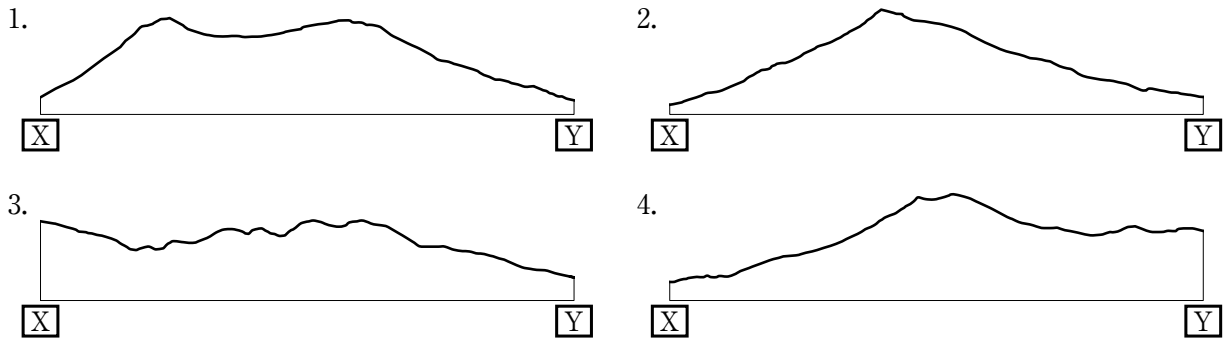
(気象庁ウェブサイト掲載資料 (1991～2020年) をもとに作成)

- |           |        |       |           |       |        |
|-----------|--------|-------|-----------|-------|--------|
| 1. P：つくば市 | Q：富山市  | R：高松市 | 2. P：つくば市 | Q：高松市 | R：富山市  |
| 3. P：富山市  | Q：つくば市 | R：高松市 | 4. P：富山市  | Q：高松市 | R：つくば市 |
| 5. P：高松市  | Q：つくば市 | R：富山市 | 6. P：高松市  | Q：富山市 | R：つくば市 |

(イ) **あ** にあてはまる語句として最も適するものを、次の中から一つ選び、その番号を答えなさい。

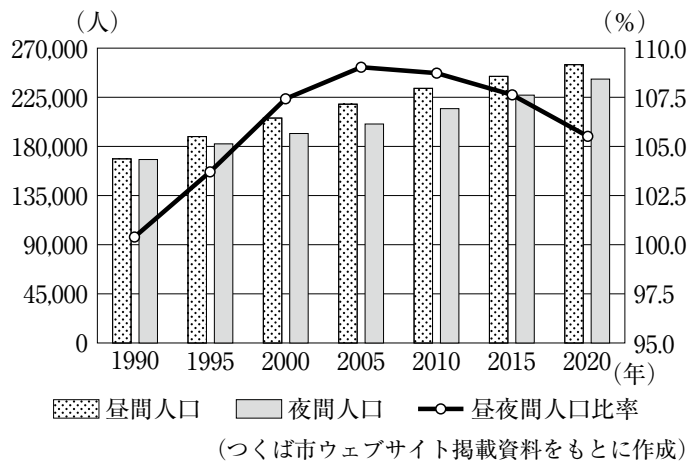
1. シラス台地 (シラス)      2. フォッサマグナ      3. 関東ローム      4. カルデラ

(ウ) 地形図上の **X**—**Y** の略断面図として最も適するものを、次の中から一つ選び、その番号を答えなさい。



(エ) 線②について、次の資料は、つくば市の昼間人口と夜間人口、昼夜間人口比率（夜間人口に対する昼間人口の割合）を示したグラフである。この資料について述べた文 X, Y の正誤の組み合わせとして最も適するものを、あとの 1～4 の中から一つ選び、その番号を答えなさい。

資料



X つくば市の昼夜間人口比率が1990年から2005年にかけて上昇したことは、その期間のつくば市で夜間人口の増加数が昼間人口の増加数を上回ったことを意味している。

Y 年表中の「鉄道路線」が開業した年から2020年まで、つくば市の人口は減少傾向にあった。

1. X : 正 Y : 正      2. X : 正 Y : 誤      3. X : 誤 Y : 正      4. X : 誤 Y : 誤

(オ) 線③について、次の表は、2021年の研究費が400億ドル以上の国及び地域について示したものである。この表から考えられることについて述べた文として最も適するものを、1～4の中から一つ選び、その番号を答えなさい。

表

(研究費の単位：百万ドル)

| 国及び地域   | 研究費     | 研究費がGDPに占める割合 |
|---------|---------|---------------|
| アメリカ合衆国 | 806,013 | 3.46%         |
| 中華人民共和国 | 465,287 | 2.14%         |
| 日本      | 176,961 | 3.30%         |
| ドイツ     | 153,232 | 3.13%         |
| 大韓民国    | 119,617 | 4.93%         |
| イギリス    | 90,094  | 2.93%         |
| フランス    | 76,952  | 2.21%         |
| 台湾      | 55,396  | 3.78%         |
| ロシア     | 47,954  | 1.10%         |
| イタリア    | 40,940  | 1.48%         |

1. 表には、国土の大部分が南半球にある国が含まれている。
2. 表中の研究費の上位3か国はどれも、表におけるGDPの額の上位5か国に含まれている。
3. 表中の国のうち、EU加盟国の研究費の合計は、日本の研究費より小さい。
4. 表には、第二次世界大戦中に日本と同盟を結んだ国は、含まれていない。

(『世界国勢図会 2023 / 24』をもとに作成)

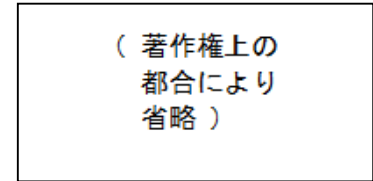
問3 Kさんは、東大寺について調べ、次のレポートを作成した。これについて、あとの各問いに答えなさい。

レポート

1 東大寺と **あ** 天皇

**あ** 天皇は、仏教の力で国家を守ろうと考え東大寺に大仏をつくらせました。東大寺の正倉院には **あ** 天皇の身の回りの品々が伝わっており、その中には、 **い** と考えられるものの一つとして、写真1の宝物があります。

写真1

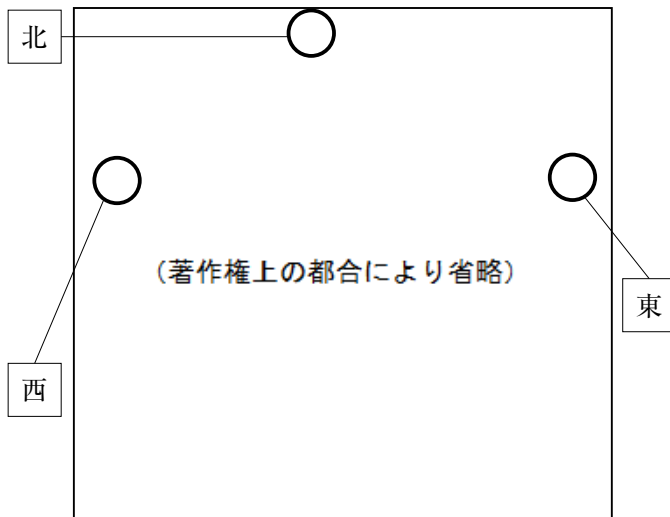


(正倉院宝物)

2 東大寺が所有していた土地

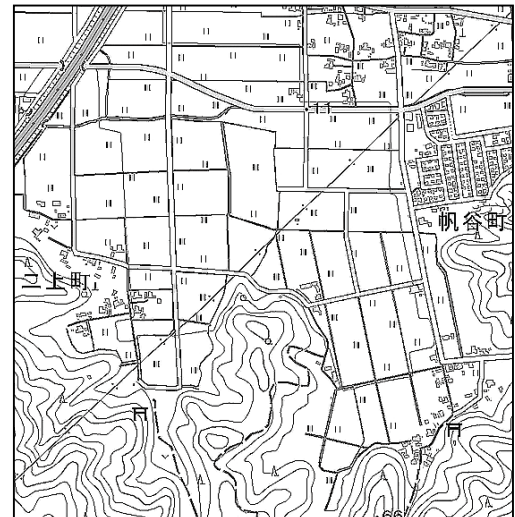
次の資料は、東大寺の荘園を示したもので、土地の区画の様子がわかります。また、地形図は、資料で示された地域として推定されている範囲（現在の福井県の一部）を示したものです。

資料 8世紀後半につくられた絵図



(正倉院宝物)

地形図



(「2万5千分の1の電子地形図(令和5年調製) 国土地理院作成」を拡大して作成)

3 東大寺大仏殿の再建

東大寺大仏殿は、①12世紀後半と16世紀後半の二度焼失しました。一度めの焼失後は、民衆からの寄付を受けて再建されました。②このときにつくられた文化財の一部は、現在でも見ることができます。二度めの焼失後は、幕府の援助により③17世紀末から18世紀初めにかけて再建されましたが、経済的な理由から建物の規模は焼失前と比べて縮小されました。

(ア) **あ** , **い** にあてはまる語句の組み合わせとして最も適するものを、次の中から一つ選び、その番号を答えなさい。

1. あ：桓武      い：唐風の文化をもとにしながらも、日本の風土や生活に合わせてつくられた
2. あ：桓武      い：西アジアやインドから中国にもたらされ、遣唐使が持ち帰った
3. あ：聖武      い：唐風の文化をもとにしながらも、日本の風土や生活に合わせてつくられた
4. あ：聖武      い：西アジアやインドから中国にもたらされ、遣唐使が持ち帰った

(イ) 次の文 a～dのうち、資料について正しく述べた文を二つ選んだときの組み合わせとして最も適するものを、あとの1～4の中から一つ選び、その番号を答えなさい。

- a 資料で示された荘園の南端は、地形図を参考にすると、海に接していたと考えられる。  
 b 資料で示された土地の区画の名残が、地形図上の「田」に認められる。  
 c 資料で示された土地は、墾田永年私財法の発布後に開墾されたと考えられる。  
 d 資料の絵図がつくられた頃に、東大寺の荘園に地頭が設置されたと考えられる。

1. a, c                      2. a, d                      3. b, c                      4. b, d

(ウ) 一線①に関して、12世紀から16世紀にかけておこった次のできごとⅠ～Ⅲを年代の古い順に並べたものとして最も適するものを、あとの1～6の中から一つ選び、その番号を答えなさい。

- Ⅰ 関東に鎌倉府が置かれ、幕府の將軍の一族が鎌倉公方となり関東の支配を担った。  
 Ⅱ 豊臣秀吉が、関東に勢力を保っていた北条氏を滅ぼした。  
 Ⅲ 後鳥羽上皇に味方した貴族や武士の領地が、幕府に味方した東国の武士に与えられた。

1. Ⅰ→Ⅱ→Ⅲ                      2. Ⅰ→Ⅲ→Ⅱ                      3. Ⅱ→Ⅰ→Ⅲ  
 4. Ⅱ→Ⅲ→Ⅰ                      5. Ⅲ→Ⅰ→Ⅱ                      6. Ⅲ→Ⅱ→Ⅰ

(エ) 右の写真2は、一線②の一つである。この文化財について説明した次の文中の「う」，「え」にあてはまる語句の組み合わせとして最も適するものを、あとの1～6の中から一つ選び、その番号を答えなさい。

この文化財は「う」とよばれ、武士の気風が反映されています。この文化財がつくられた時代の世界のできごととしては「え」ことが挙げられ、のちに日本もそのできごとの影響を受けました。

1. う：金剛力士像                      え：ヨーロッパで宗教改革が始まった  
 2. う：金剛力士像                      え：モンゴル帝国が建設された  
 3. う：金剛力士像                      え：唐が滅亡した  
 4. う：阿弥陀如来像                      え：ヨーロッパで宗教改革が始まった  
 5. う：阿弥陀如来像                      え：モンゴル帝国が建設された  
 6. う：阿弥陀如来像                      え：唐が滅亡した

写真2

(著作権上の都合により省略)

(東大寺ウェブサイト掲載資料より引用)

(オ) 一線③を西暦で表した期間をX，Yから、その期間の日本でおこったできごとをa～cから、最も適するものをそれぞれ一つずつ選んだときの組み合わせを、あとの1～6の中から一つ選び、その番号を答えなさい。

|      |  |                  |
|------|--|------------------|
| 期 間  | X 1601年から1700年まで   | Y 1701年から1800年まで |
| できごと | a 質を落とした貨幣が大量に発行され、物価が上昇した。<br>b 俸禄(禄)の支給が廃止されるなど、士族の特権が奪われた。<br>c 天明のききんがおこり、百姓一揆や打ちこわしが急増した。 |                  |

1. Xとa                      2. Xとb                      3. Xとc                      4. Yとa                      5. Yとb                      6. Yとc

問4 Kさんは、日本の野球の歴史について調べ、社会の授業で学習した日本に関するできごととあわせて次の表を作成した。これについて、あとの各問いに答えなさい。

表（できごとは年代の古い順に並べてあり、-----は同じ時期のできごとであることを示している。）

| 日本の野球に関するできごと                   | 授業で学習した日本に関するできごと   |
|---------------------------------|---------------------|
| ①お雇い外国人によって、日本に野球が伝えられた。-----   | 岩倉使節団がアメリカ合衆国に到着した。 |
| ②全国中等学校優勝野球大会（注）が始まった。-----     | 大戦景気の影響で物価が上昇した。    |
| ③東京オリンピックで公開競技として野球が開催された。----- | 東京で初めてオリンピックがひらかれた。 |
| ④団体交渉の結果、プロ野球の試合が中止になった。-----   | 自衛隊がイラクに派遣された。      |

（公益財団法人野球殿堂博物館ウェブサイト掲載資料をもとに作成）

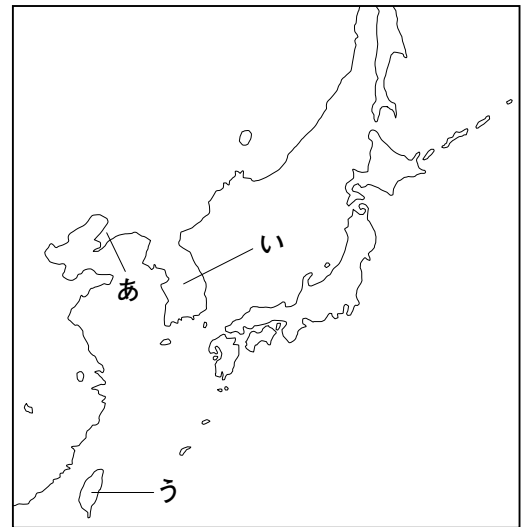
（注）各地方大会の優勝校が出場する大会。現在の名称は、全国高等学校野球選手権大会。

(ア) ——線①について述べた文として最も適するものを、次の中から一つ選び、その番号を答えなさい。

1. 満州事変について調査をおこなうために、国際連盟から日本に派遣された。
2. 日本政府に対して、大日本帝国憲法の改正を指示した。
3. 技術者や学者として、日本における近代産業の育成に関わった。
4. 「鎖国」中の日本が海外の情報を入手する上で、重要な役割を果たした。

(イ) ——線②の大会には、右の略地図中のあ、いの半島及びうの島にあった学校が出場しており、このことは当時の日本の影響下にあった範囲が現在と比べて広がったことを示している。略地図に関して述べた次の文X～Zの正誤の組み合わせとして最も適するものを、あとの1～8の中から一つ選び、その番号を答えなさい。

略地図



X 日本は、ポーツマス条約によって、あの半島を通る鉄道の権益を得た。

Y 日本は、いの半島を統治する国家に対して、二十一か条の要求を示した。

Z 日本は、うの島の統治を、第一次世界大戦後に国際連盟から委任された。

- |                |                |
|----------------|----------------|
| 1. X：正 Y：正 Z：正 | 2. X：正 Y：正 Z：誤 |
| 3. X：正 Y：誤 Z：正 | 4. X：正 Y：誤 Z：誤 |
| 5. X：誤 Y：正 Z：正 | 6. X：誤 Y：正 Z：誤 |
| 7. X：誤 Y：誤 Z：正 | 8. X：誤 Y：誤 Z：誤 |



(ウ) Kさんは、あるプロ野球選手が——線③の時期の日本で人気を集めたことを知り、「プロ野球選手がこの時期に人気を集めた背景には、どのようなことがあるのだろうか。」という学習課題を設定した。この学習課題を解決するための調査として最も適するものを、次の中から一つ選び、その番号を答えなさい。

1. この時期に初めて鉄道が敷設されたことに着目し、移動時間の短縮について調査する。
2. この時期にテレビが一般の家庭に普及したことに着目し、マスメディアの発達について調査する。
3. この時期に義務教育の就学率が初めて90%をこえたことに着目し、識字率の上昇について調査する。
4. この時期に個人による携帯電話の保有が進んだことに着目し、情報化の影響について調査する。

(エ) Kさんは、——線④の経緯について調べ、次のメモを作成した。また、資料は、メモ中の——線(a)及び「あ」について規定した法の条文である。「あ」にあてはまる語句をX～Zから、メモと資料についての説明をa～cから、最も適するものをそれぞれ一つずつ選んだときの組み合わせを、あとの1～9の中から一つ選び、その番号を答えなさい。

メモ

プロ野球のチーム数の削減をめぐって、<sup>(a)</sup>労働組合である日本プロ野球選手会が、経営者側にあたる日本野球機構と団体交渉をおこなっていましたが、交渉は決裂しました。その結果、日本プロ野球選手会は初めて「あ」を実施し、プロ野球の試合が二日間中止になりました。

資料

勤労者の<sup>(b)</sup>団結する権利及び団体交渉その他の団体行動をする権利は、これを保障する。

| 語句 | X レジスタンス                                  | Y リコール | Z ストライキ |
|----|---|--------|---------|
| 説明 | a 資料の条文は、労働組合法の条文である。                     |        |         |
|    | b 「メモ中の——線(a)をつくる権利」は、「資料中の——線(b)」にあたる。   |        |         |
|    | c 表中の「あ」の期間の日本では、メモ中の——線(a)の数は一貫して増加していた。 |        |         |

1. Xとa
2. Xとb
3. Xとc
4. Yとa
5. Yとb
6. Yとc
7. Zとa
8. Zとb
9. Zとc

(オ) 表中の「あ」の期間の世界で起こった次のできごとⅠ～Ⅲを年代の古い順に並べたものとして最も適するものを、あとの1～6の中から一つ選び、その番号を答えなさい。

Ⅰ イタリアでは、ムッソリーニのファシスト党が世論の支持を集めて独裁体制を築き、エチオピアを侵略した。

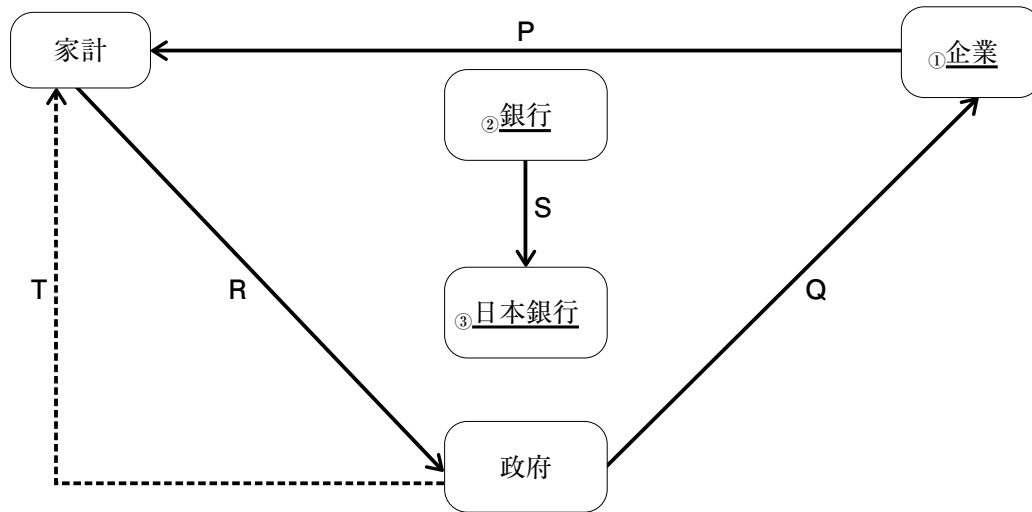
Ⅱ アメリカ合衆国とイギリスが大西洋憲章を発表し、民主主義を守り領土の拡張や変更を否定する考えを示した。

Ⅲ 中国では、中国共産党が国民政府との内戦に勝利し、毛沢東を主席とする中華人民共和国が成立した。

1. Ⅰ→Ⅱ→Ⅲ
2. Ⅰ→Ⅲ→Ⅱ
3. Ⅱ→Ⅰ→Ⅲ
4. Ⅱ→Ⅲ→Ⅰ
5. Ⅲ→Ⅰ→Ⅱ
6. Ⅲ→Ⅱ→Ⅰ

問5 Kさんは、日本における経済の循環について調べ、次の図1を作成した。これについて、あとの各問いに答えなさい。なお、P～Sの矢印はお金の流れを、Tの矢印はサービスの流れを示している。

図1



(ア) P～Sの矢印について述べた文として最も適するものを、次の中から一つ選び、その番号を答えなさい。

1. 財（モノ）やサービスの代金が支払われたときのお金の流れは、Pの矢印で示すことができる。
2. 公共事業が実施されたときのお金の流れは、Qの矢印で示すことができる。
3. 消費税が納付されたときのお金の流れは、Rの矢印で示すことができる。
4. 紙幣が発行されたときのお金の流れは、Sの矢印で示すことができる。

(イ) Tの矢印に関して、社会保障のしくみのもとになっている考え方について規定した日本国憲法の条文をX～Zから、日本における社会保障の具体例をa，bから、最も適するものをそれぞれ一つずつ選んだときの組み合わせを、あとの1～6の中から一つ選び、その番号を答えなさい。

|          |   |  |
|----------|---|--|
| 日本国憲法の条文 | X | すべて国民は、健康で文化的な最低限度の生活を営む権利を有する。  |
|          | Y | 財産権は、これを侵してはならない。  |
|          | Z | 何人も、公務員の不法行為により、損害を受けたときは、法律の定めるところにより、国又は公共団体に、その賠償を求め <sup>また</sup> ることができる。 |
| 社会保障の具体例 | a | 税金と保険料を財源として、介護が必要な人に介護サービスを提供する。  |
|          | b | 税金を使って、道路や港など人びとが共同で利用する施設を整備する。   |

1. Xとa
2. Xとb
3. Yとa
4. Yとb
5. Zとa
6. Zとb

(ウ) —線①の経済活動がグローバル化の影響を受けていることに興味をもったKさんは、為替相場（為替レート）の推移について考えるために、右の表を作成した。この表について述べた次の文中の **あ** ~ **う** にあてはまる語句の組み合わせとして最も適するものを、あとの1~8の中から一つ選び、その番号を答えなさい。

表 東京市場における為替相場  
(各年12月末日の数値)

| 年     | 1ドルあたりの円の価格 |
|-------|-------------|
| 2012年 | 86.55円      |
| 2022年 | 132.56円     |

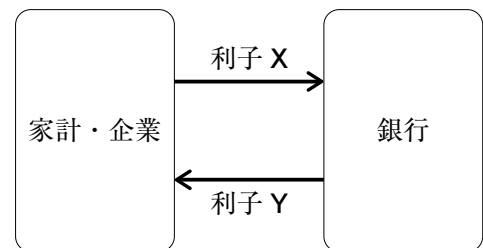
(日本銀行ウェブサイト掲載資料をもとに作成)

- 表をもとにドルに対する円の価値の推移について考えると、2022年のドルに対する円の価値は、2012年と比べて **あ** になったといえます。このような推移は、所有するお金を **い** に交換する人や企業が増えたときにみられます。
- ドルに対する円の価値が **あ** になると、一般的には、主に商品を海外に輸出する日本の企業にとっては、同じ商品を売る場合でも、海外の市場での競争上 **う** になります。

- |         |         |      |         |         |      |
|---------|---------|------|---------|---------|------|
| 1. あ：高く | い：ドルから円 | う：有利 | 2. あ：高く | い：ドルから円 | う：不利 |
| 3. あ：高く | い：円からドル | う：有利 | 4. あ：高く | い：円からドル | う：不利 |
| 5. あ：低く | い：ドルから円 | う：有利 | 6. あ：低く | い：ドルから円 | う：不利 |
| 7. あ：低く | い：円からドル | う：有利 | 8. あ：低く | い：円からドル | う：不利 |

(エ) —線②に関して、Kさんは「銀行はどのようにして収入を得ているのだろうか。」という学習課題を設定し、家計・企業と銀行のあいだのお金の流れについて考えるために、右の図2を作成した。このことについて説明した次の文中の **え** ~ **か** にあてはまる語句の組み合わせとして最も適するものを、あとの1~4の中から一つ選び、その番号を答えなさい。

図2



銀行は、**え** から利子を受け取り、また、**お** に利子を支払っています。これらの利子の差が銀行の収入になります。したがって、預けられたお金の額と貸したお金の額が同じだとすると、一般的には、図2中の利子Xの比率は利子Yの比率よりも **か** になります。

- |                      |                   |      |
|----------------------|-------------------|------|
| 1. え：銀行にお金を預けた家計・企業  | お：銀行からお金を借りた家計・企業 | か：高く |
| 2. え：銀行にお金を預けた家計・企業  | お：銀行からお金を借りた家計・企業 | か：低く |
| 3. え：銀行からお金を借りた家計・企業 | お：銀行にお金を預けた家計・企業  | か：高く |
| 4. え：銀行からお金を借りた家計・企業 | お：銀行にお金を預けた家計・企業  | か：低く |

(オ) —線③の役割として最も適するものを、次の中から一つ選び、その番号を答えなさい。

- 一部の財（モノ）やサービスの価格を、公共料金として管理する。
- 不景気のときに減税を実施し、家計や企業の可処分所得を増やす。
- 所得が高い人に対して、所得や財産などに対する税金の割合を高くする。
- デフレーションが起きているときに、国債を買い取る。

問6 Kさんは、持続可能な開発目標（SDGs）について調べ、次のレポートを作成した。これについて、あとの各問いに答えなさい。

レポート

①国際連合は、2015年に定めた「持続可能な開発目標（SDGs）」で「誰一人取り残さない」ことを理念として掲げ、2030年までに達成すべき17の目標を示しました。これらの目標の一つに、「貧困をなくそう」というものがあります。特に **あ** では、1日の生活に使える金額が2.15ドル未満の状態にある人びとが多く、このような問題の解決に向けての対応が各国で求められています。

私は、SDGsの達成に向けて日本がおこなっている取り組みについて調べました。②各省がおこなっている取り組みとしては、例えば次のようなものがあります。

(1) 法務省の取り組み

- 開発途上国や市場経済への移行を進める国などに対して、③法制度の整備を支援する。
- 外国人・④障がい者の人権の尊重をテーマとした人権啓発活動に積極的に取り組む。

(2) 防衛省の取り組み

- 自衛隊の航空機に、従来の化石燃料と比べて温室効果ガスを削減する効果がある、**い** を用いた燃料を使用する。

(ア) ——線①について述べた文として最も適するものを、次の中から一つ選び、その番号を答えなさい。

1. 冷戦の終結が宣言されたことを受けて、国際の平和及び安全を維持するために設立された。
2. 安全保障理事会を構成するすべての国が、拒否権をもっている。
3. 紛争がおこった地域で、停戦や選挙の監視などの活動をおこなっている。
4. 加盟国には、核兵器の放棄が義務付けられている。

(イ) **あ**、**い** にあてはまる語句の組み合わせとして最も適するものを、次の中から一つ選び、その番号を答えなさい。

- |                     |         |
|---------------------|---------|
| 1. あ：サハラ砂漠以南のアフリカ諸国 | い：石炭    |
| 2. あ：サハラ砂漠以南のアフリカ諸国 | い：バイオマス |
| 3. あ：ペルシア湾岸の西アジア諸国  | い：石炭    |
| 4. あ：ペルシア湾岸の西アジア諸国  | い：バイオマス |

(ウ) ——線②の長について述べた次の文X～Zの正誤の組み合わせとして最も適するものを、あとの1～8の中から一つ選び、その番号を答えなさい。

X いずれの省の長も、衆議院議員総選挙で当選した者の中から任命されなければならない。  
Y 内閣を構成し、閣議に出席する。  
Z 国会議員による弾劾裁判によって、やめさせられることがある。

- |                |                |
|----------------|----------------|
| 1. X：正 Y：正 Z：正 | 2. X：正 Y：正 Z：誤 |
| 3. X：正 Y：誤 Z：正 | 4. X：正 Y：誤 Z：誤 |
| 5. X：誤 Y：正 Z：正 | 6. X：誤 Y：正 Z：誤 |
| 7. X：誤 Y：誤 Z：正 | 8. X：誤 Y：誤 Z：誤 |

(エ) —線③に関して、最高裁判所について調べたKさんは、右のメモを作成し資料1を用意した。メモと資料1から考えられることをX、Yから、最高裁判所の説明をa、bから、最も適するものをそれぞれ一つずつ選んだときの組み合わせを、1～4の中から一つ選び、その番号を答えなさい。

メモ 2022年5月の最高裁判所の判断

最高裁判所は、外国に住んでいる日本人が最高裁判所裁判官の国民審査をおこなうことを認めていない法律の規定が、日本国憲法に違反していると判断しました。

資料1 メモ中の「判断」を受けて改正され2022年11月に公布された、メモ中の「法律」の条文

| 改正後の条文   | 改正前の条文  |
|--|---|
| 審査には、公職選挙法（昭和25年法律第100号）に規定する選挙人名簿及び在外選挙人名簿で衆議院議員総選挙について用いられるものを用いる。 | 審査には、公職選挙法（昭和25年法律第100号）に規定する選挙人名簿で衆議院議員総選挙について用いられるものを用いる。 |

|                 |  |
|-----------------|--|
| メモと資料1から考えられること | <p>X 日本国憲法において「公務員を選定し、及びこれを罷免することは、国民固有の権利である。」と定められていることは、メモ中の「判断」と関係が深いと考えられる。</p> <p>Y 日本国憲法において「国会は、国権の最高機関であつて、国の唯一の立法機関である。」と定められているため、法律が憲法に違反していないかどうかについての国会の判断は、最高裁判所の判断に優先される。</p> |
| 最高裁判所の説明        | <p>a 国家権力を一つの機関に集中させないための工夫として、内閣が、最高裁判所の長たる裁判官を指名することになっている。</p> <p>b 間違った判決が下されることを防いで人権を守るために、同じ内容について三回まで、最高裁判所で裁判を受けられるしくみがある。</p>  |

1. Xとa                      2. Xとb                      3. Yとa                      4. Yとb

(オ) 右の資料2は、—線④に関する法律の一部を示したものである。資料2から考えられることについて述べた文として最も適するものを、次の中から一つ選び、その番号を答えなさい。

資料2

事業者は、その事業を行うに当たり、障害者から現に社会的障壁の除去を必要としている旨の意思の表明があった場合において、その実施に伴う負担が過重でないときは、障害者の権利利益を侵害することとならないよう、当該障害者の性別、年齢及び障害の状態に応じて、社会的障壁の除去の実施について必要かつ合理的な配慮をしなければならない。

- 資料2の法律は、「事業者」の経済活動の自由を保障するために制定された。
- 「事業者」によって「社会的障壁」が除去されることは、日本国憲法で定められた「公共の福祉」の考え方によって「障害者の権利利益」が制限される例である。
- 災害が発生した際の案内を聴覚障がい者に対して音声のみでおこなうことは、「事業者」による「必要かつ合理的な配慮」の例である。
- 「事業者」が「必要かつ合理的な配慮」をおこなうことは、「障害者」にとっての「機会の公正」を確保することにつながる。

問7 Kさんは、南アジアについて調べ、次のレポートを作成した。これについて、あとの各問いに答えなさい。

レポート

2022年、日本は南アジアの国々との関係において、様々な節目を迎えました。私は「日本は南アジアの国々とのような関係を築いてきたのだろうか。」という学習課題を設定し、右の略地図を作成して学習を進めました。

1 インドとの外交関係（国交）について

2022年は、日本がインドとの国交を樹立して70周年にあたります。資料1は、そのことを祝う会における日本政府の発言の趣旨を示したものです。

2 パキスタンで生産されるサッカーボール

サッカーボールの製造現場で問題となっていた児童労働などの問題を解決するために、製品を先進国の人びとが公正な価格で購入する、あの取り組みが広がりました。日本でも、この取り組みによってつくられたサッカーボールが、パキスタンから輸入されています。

今後の学習の見通し

日本は、南アジアの国々に対して政府開発援助（ODA）を実施しています。ODAのうち、相手国を直接支援する二国間援助に着目して、③日本の援助の特徴や望ましい援助のあり方について、考えてみたいと思います。

略地図 南アジアの国々（7か国）



資料1

インドが70年前に、①日本の国際社会への復帰に際し、名誉と平等の立場が確保されるべきとの考えから、②個別の平和条約締結を選んだことを想起し、この記念すべき日をお祝いできることを大変嬉しく思う。

(外務省ウェブサイト掲載資料をもとに作成)

(ア) 南アジアの国々のうち、ネパールとブータンの共通点として最も適するものを、略地図を参考にしながら、次の中から一つ選び、その番号を答えなさい。

1. 2002年に設立された地域機構である、AUに加盟している。
2. 世界で最も面積が大きい国に隣接している。
3. 造山帯（変動帯）に位置しており、地震がたびたび発生している。
4. ステップが広がり、一年を通して雨が少ない。

(イ) 資料1について、——線①が指すできごとをX～Zから、——線②と関係が深いできごとをa, bから、最も適するものをそれぞれ一つずつ選んだときの組み合わせを、あとの1～6の中から一つ選び、その番号を答えなさい。

|                |   |
|----------------|---|
| ——線①が指すできごと    | X 日本が、独立国としての主権を回復した。<br>Y 日本が、世界でいち早く、世界恐慌から回復した。<br>Z 日本が、国際連盟の常任理事国になった。 |
| ——線②と関係が深いできごと | a インドは、他国の商品をしめ出すイギリスの経済圏の一部であった。<br>b インドは、アメリカ合衆国でひらかれた講和会議に参加しなかった。      |

1. Xとa
2. Xとb
3. Yとa
4. Yとb
5. Zとa
6. Zとb

(ウ) **あ** にあてはまる語句として最も適するものを、次の中から一つ選び、その番号を答えなさい。

1. フェアトレード      2. エコツーリズム      3. モノカルチャー      4. マイクロクレジット

(エ) ——線③に関して、次の資料2～資料5から考えられることについて述べたあとの文X～Zの正誤の組み合わせとして最も適するものを、1～8の中から一つ選び、その番号を答えなさい。

**資料2** 日本の二国間援助に関する説明

ODAは、贈与と政府貸付等に分けられます。贈与は無償で提供される協力のことで、返済義務を課さない無償資金協力と、社会・経済の開発の担い手となる人材を育成する技術協力の二つに分けられます。政府貸付等の中には、低金利かつ返済期間の長い緩やかな貸付条件で必要な資金を貸し付ける、円借款があります。

**資料3** 日本の二国間援助の実績（2021年）

※援助額10億ドル以上のみ記載。（単位：百万ドル）

| 相手国     | 援助額      |
|---------|----------|
| インド     | 3,382.5  |
| バングラデシュ | 2,065.7  |
| フィリピン   | 1,175.1  |
| インドネシア  | 1,033.1  |
| 世界計     | 17,812.3 |

**資料4** 一部の国に対する日本の二国間援助の実績と、相手国の一人あたりの国民総所得（2021年）

| 相手国   | 援助額（単位：万ドル） |        |       |        | 一人あたりの国民総所得<br>（単位：ドル） |
|-------|-------------|--------|-------|--------|------------------------|
|       | 合計          | 無償資金協力 | 技術協力  | 政府貸付等  |                        |
| スリランカ | 17,732      | 1,506  | 742   | 15,483 | 3,820                  |
| ネパール  | 9,114       | 3,350  | 1,188 | 4,576  | 1,230                  |

**資料5** 途上国が抱える債務に関する問題についての説明

港湾、鉄道などのインフラ案件は額が大きく、その借入金の返済は借りた国にとって大きな負担となることがあります。貸す側も借りる側も債務の持続可能性(注)を十分に考慮することが必要で、債務の持続可能性を考慮しない融資は「債務の罠」として国際社会から批判されています。

(注) 債務の持続可能性：借り手が将来にわたって、債務の返済に必要な資金を調達できるかどうかを判断するための指標。  
(資料2～5は、外務省ウェブサイト掲載資料をもとに作成)

X 2021年に日本がおこなった二国間援助の実績において、「南アジアの国々に対する援助額の総額が『世界計』の額に占める割合」は、30%を上回っている。  
Y 2021年に日本がおこなった二国間援助の実績においてスリランカとネパールを比べると、「一人あたりの国民総所得」が小さい国の方が、「『贈与』の額が『合計』に占める割合」が小さい。  
Z 日本の二国間援助のうち「技術協力」による援助は、債務の持続可能性を考慮しない「債務の罠」として、国際社会から批判されている。

1. X：正 Y：正 Z：正                      2. X：正 Y：正 Z：誤  
3. X：正 Y：誤 Z：正                      4. X：正 Y：誤 Z：誤  
5. X：誤 Y：正 Z：正                      6. X：誤 Y：正 Z：誤  
7. X：誤 Y：誤 Z：正                      8. X：誤 Y：誤 Z：誤

(問題は、これで終わりです。)

