

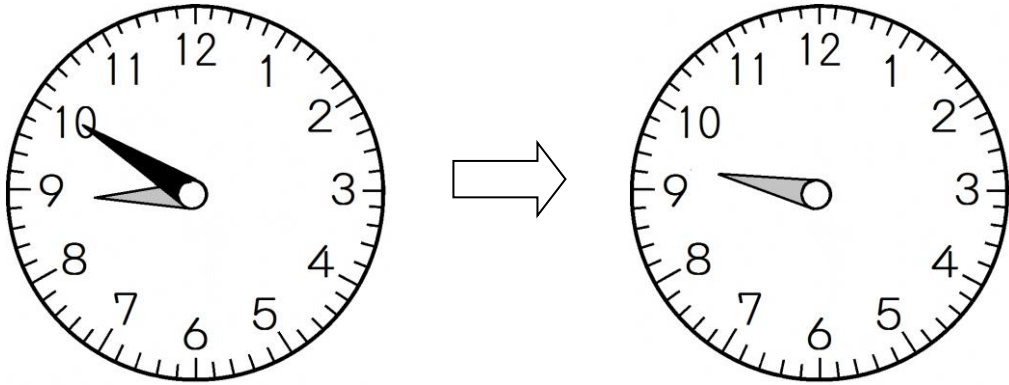
教材7-(1)

時こくと時間

1 次の問いに答えましょう。

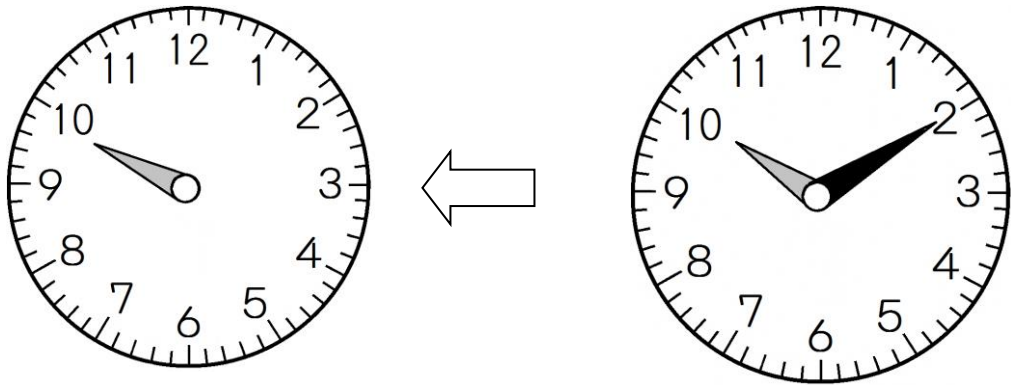
- ① 駅を8時50分に出て、30分歩くと公園に着きました。ついた時刻は何時何分ですか。また、時計にはりをかきこみましょう。

答え □ 時 □ 分



- ② 学校を出て20分歩いて、公園に10時10分に着きました。学校を出た時こくは何時何分ですか。また、時計にはりをかきこみましょう。

答え □ 時 □ 分



- ③ 2時20分から、50分後の時こくと、50分前の時こくをもとめましょう。

50分後は、□ 時 □ 分

50分前は、□ 時 □ 分

□ 年 □ 組 □ 番 名前 □

教材7-(2)

時こくと時間

時間のたんい

1日 = 24時間

1時間 = 60分

1分 = 60秒

1 次の□にあてはまる数やたんいを書きましょう。

① 100秒 = □ 分 □ 秒

② 1時間20分 = □ 分

③ 2分 = □ 秒

2 ()にあてはまる, 時間のたんいを書きましょう。

① 算数のじゅぎょうの時間……………45 ()

② 50m走るのにかかった時間……………10 ()

③ 朝起きてから夜ねるまでの時間……15 ()

3 次の問いに答えましょう。

① 商店にいた時間は40分, 公園にいた時間は30分です。

あわせて何時間何分ですか。

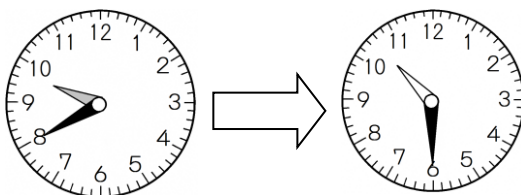
答え □ 時間 □ 分

② のぶおさんは, 午前9時40分から, 午前10時30分まで犬のさんぽをし

ました。さんぽをした時間は何分ですか。

午前9時40分

午前10時30分



答え □ 分