

年  組  番 名前

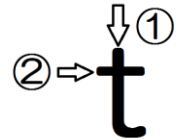
**教材9-(1) 解答**      重さのたんい

重さのたんいには、 **g**(グラム)   **kg**(キログラム)   **t** (トン) があります。

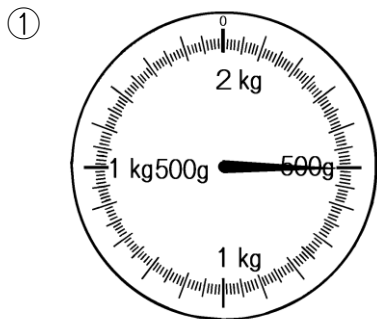
**1g**は、1円玉1この重さと同じ。

**t** (トン)の書き方

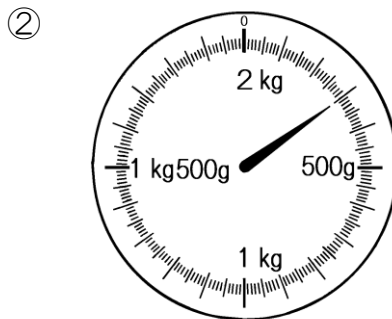
**1kg = 1000g**      **1 t = 1000kg**



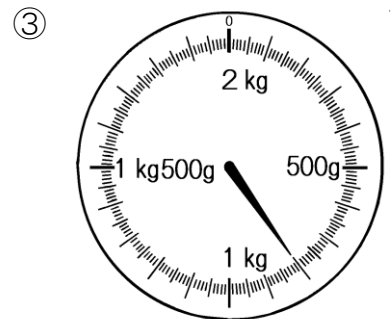
1 はかりがさしている重さは、何gですか。



500

 g


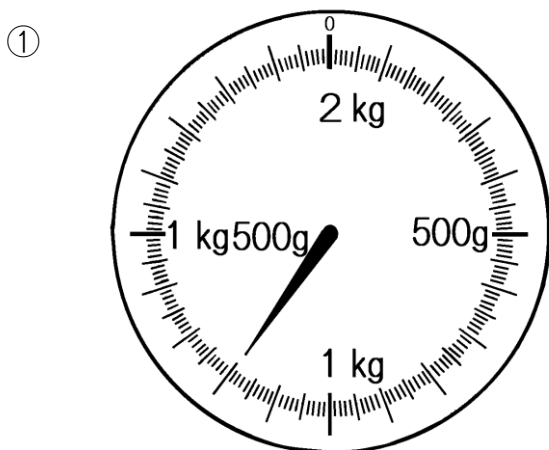
300

 g


800

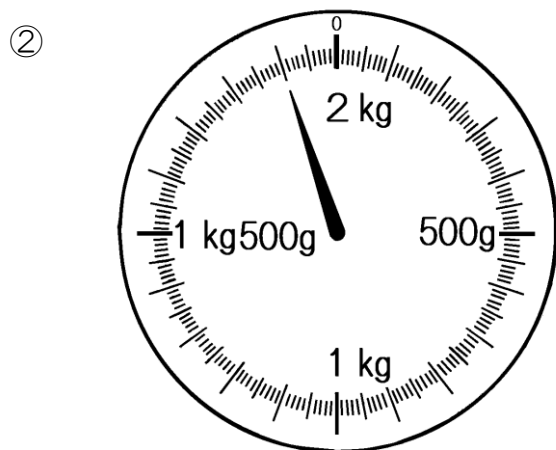
 g

2 はかりがさしている重さは、何kg何gですか。また、何gですか。



{

1	kg	200	g	
1200				g



{

1	kg	900	g	
1900				g