

年  組  番 名前

**教材9-(1)**

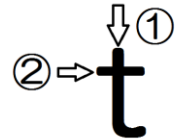
重さのたんい

重さのたんいには、 **g**(グラム) **kg**(キログラム) **t**(トン) があります。

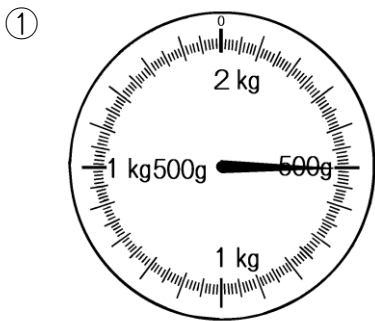
1gは、1円玉1この重さと同じ。

t (トン)の書き方

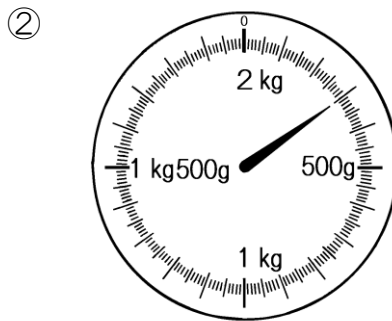
1kg = 1000g      1 t = 1000kg



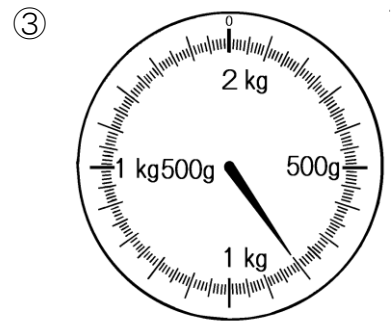
1 はかりがさしている重さは、何gですか。



g

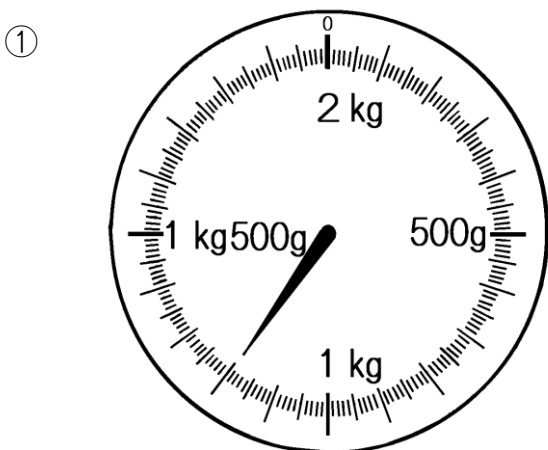


g

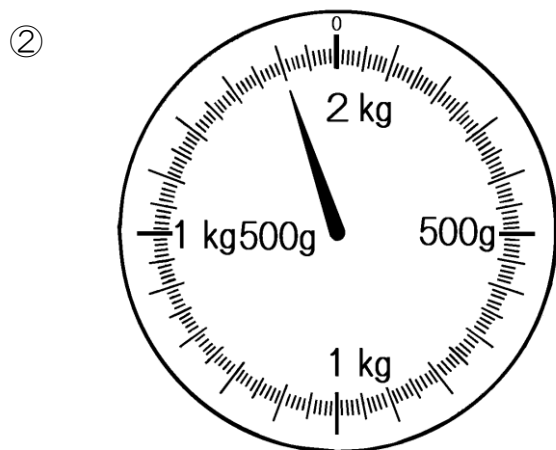


g

2 はかりがさしている重さは、何kg何gですか。また、何gですか。



kg  g  
 {  g



kg  g  
 {  g